

## SSB Constable July 13, 2017 Question Paper

Participant ID	
Participant Name	
Test Center Name	
Test Date	13/07/2023
Test Time	12:30 PM - 2:30 PM
Subject	CT Non GD

## Section : General Knowledge

Q.1 अप्रैल 2023 तक की स्थिति के अनुसार, भारतीय राष्ट्रीय अंतरिक्ष संवर्धन एवं प्राधिकरण केंद्र (इन-स्पेस) के अध्यक्ष कौन हैं?

- Ans  1. पवन गोयनका  
 2. सुधीर कुमार एन  
 3. गौतमी सुदर्शन  
 4. एस सोमनाथ

Question ID : 630680270326  
Option 1 ID : 6306801050500  
Option 2 ID : 6306801050501  
Option 3 ID : 6306801050499  
Option 4 ID : 6306801050498  
Status : Answered  
Chosen Option : 2

Q.2 निम्नलिखित में से 'त्योहार -समुदाय' का कौन-सा युग्म सही सुमेलित है?

- Ans  1. लोसर - मोनपा  
 2. हॉर्नबिल - बोडो  
 3. गरिया - कोली  
 4. चाड लाहो - कार्बी

Question ID : 630680270339  
Option 1 ID : 6306801050552  
Option 2 ID : 6306801050551  
Option 3 ID : 6306801050553  
Option 4 ID : 6306801050550  
Status : Answered  
Chosen Option : 3

Q.3 फरवरी 2023 में, स्वास्थ्य एवं परिवार कल्याण मंत्रालय ने \_\_\_\_\_ के उन्मूलन के लिए एक राष्ट्रव्यापी मास ड्रग एडमिनिस्ट्रेशन (एमडीए) अभियान शुरू किया।

- Ans  1. हेपेटाइटिस बी  
 2. लिम्फेटिक फिलरियासेस  
 3. जापानी इंसेफेलाइटिस  
 4. कोविड-19

Question ID : 630680270328  
Option 1 ID : 6306801050509  
Option 2 ID : 6306801050507  
Option 3 ID : 6306801050506  
Option 4 ID : 6306801050508  
Status : Answered  
Chosen Option : 2

Q.4 भारत में ब्रिटिश साम्राज्य के खिलाफ सविनय अवज्ञा आंदोलन के संबंध में निम्नलिखित में से कौन सा/से कथन सही है/हैं?

I. औद्योगिक श्रमिक वर्ग ने पूरे देश में बहुत बड़ी संख्या में हिस्सा लिया।

II. भारतीय व्यापारियों और उद्योगपतियों ने इस आंदोलन का समर्थन किया जब ये पहली बार शुरू किए गया था।

- Ans
- 1. केवल I
  - 2. I और II दोनों
  - 3. न ही I न ही II
  - 4. केवल II

Question ID : 630680270333  
Option 1 ID : 6306801050526  
Option 2 ID : 6306801050528  
Option 3 ID : 6306801050529  
Option 4 ID : 6306801050527  
Status : Answered  
Chosen Option : 2

Q.5 भारत की 2011 की जनगणना के अनुसार, बिहार लगभग \_\_\_\_\_ प्रतिशत साक्षरता दर के साथ देश में अंतिम स्थान पर है।

- Ans
- 1. 62
  - 2. 64
  - 3. 66
  - 4. 68

Question ID : 630680270342  
Option 1 ID : 6306801050562  
Option 2 ID : 6306801050563  
Option 3 ID : 6306801050564  
Option 4 ID : 6306801050565  
Status : Answered  
Chosen Option : 2

Q.6 फरवरी 2023 में, भारतीय भूवैज्ञानिक सर्वेक्षण ने जम्मू-कश्मीर में किस धातु के 5.9 मिलियन टन अनुमानित संसाधनों की खोज की?

- Ans
- 1. थोरियम
  - 2. प्लेटिनम
  - 3. यूरेनियम
  - 4. लिथियम

Question ID : 630680270327  
Option 1 ID : 6306801050504  
Option 2 ID : 6306801050503  
Option 3 ID : 6306801050502  
Option 4 ID : 6306801050505  
Status : Answered  
Chosen Option : 3

Q.7 लक्ष्य सेन निम्नलिखित में से किस खेल से संबंधित है?

- Ans  1. बैडमिंटन  
 2. शतरंज  
 3. कबड्डी  
 4. टेबल टेनिस

Question ID : 630680270325  
Option 1 ID : 6306801050495  
Option 2 ID : 6306801050494  
Option 3 ID : 6306801050496  
Option 4 ID : 6306801050497  
Status : Answered  
Chosen Option : 2

Q.8 निम्न हिमाचल तथा शिवालिक के बीच में स्थित लंबवत् घाटी को \_\_\_\_\_ के नाम से जाना जाता है।

- Ans  1. द्वीप  
 2. घाट  
 3. दून  
 4. दर्रा

Question ID : 630680270340  
Option 1 ID : 6306801050554  
Option 2 ID : 6306801050556  
Option 3 ID : 6306801050557  
Option 4 ID : 6306801050555  
Status : Answered  
Chosen Option : 4

Q.9 निम्नलिखित में से कौन सी भारतीय भाषा इंडो-आर्यन भाषा परिवार से संबंधित नहीं है?

- Ans  1. कुर्माळी  
 2. बोडो  
 3. उड़िया  
 4. अंगिका

Question ID : 630680270337  
Option 1 ID : 6306801050543  
Option 2 ID : 6306801050545  
Option 3 ID : 6306801050542  
Option 4 ID : 6306801050544  
Status : Answered  
Chosen Option : 3

Q.10 जनवरी 2023 तक की स्थिति के अनुसार, भारत में लोकसभा के \_\_\_\_\_ निर्वाचन क्षेत्र हैं।

- Ans  1. 538  
 2. 543  
 3. 548  
 4. 545

Question ID : 630680270345  
Option 1 ID : 6306801050574  
Option 2 ID : 6306801050575  
Option 3 ID : 6306801050577  
Option 4 ID : 6306801050576  
Status : Answered  
Chosen Option : 2

Q.11 भारत में निम्नलिखित में से किस प्रकार की वनस्पति में चंदन के वृक्ष पाए जाते हैं?

- Ans  1. पर्वतीय वन  
 2. उष्ण कटिबंधीय सदाबहार वन  
 3. उष्ण कटिबंधीय पर्णपाती वन  
 4. उष्ण कटिबंधीय कंटीले वन

Question ID : 630680270341

Option 1 ID : 6306801050561

Option 2 ID : 6306801050558

Option 3 ID : 6306801050559

Option 4 ID : 6306801050560

Status : Answered

Chosen Option : 3

Q.12 'किताब-उल-हिंद' निम्नलिखित में से किस लेखक द्वारा लिखा गया था?

- Ans  1. अमीर खुसरो  
 2. इब्र बतूता  
 3. अल-बरुनी  
 4. अबुल फज़ल

Question ID : 630680270336

Option 1 ID : 6306801050541

Option 2 ID : 6306801050539

Option 3 ID : 6306801050538

Option 4 ID : 6306801050540

Status : Answered

Chosen Option : 4

Q.13 भारतीय संविधान का कौन सा अनुच्छेद 'राष्ट्रपति पर महाभियोग चलाने की प्रक्रिया' से संबंधित है?

- Ans  1. अनुच्छेद 52  
 2. अनुच्छेद 58  
 3. अनुच्छेद 55  
 4. अनुच्छेद 61

Question ID : 630680270346

Option 1 ID : 6306801050578

Option 2 ID : 6306801050580

Option 3 ID : 6306801050579

Option 4 ID : 6306801050581

Status : Answered

Chosen Option : 4

Q.14 प्रथम विश्व युद्ध के दौरान अमेरिका मित्र राष्ट्रों में किस वर्ष शामिल हुआ था?

- Ans  1. 1915  
 2. 1918  
 3. 1916  
 4. 1917

Question ID : 630680270334

Option 1 ID : 6306801050530

Option 2 ID : 6306801050533

Option 3 ID : 6306801050531

Option 4 ID : 6306801050532

Status : Answered

Chosen Option : 2

Q.15 मई 2022 में, भारतीय पुरुष टीम ने पहली बार थॉमस कप (बैडमिंटन) टूर्नामेंट जीतने के लिए निम्नलिखित में से किस टीम को हराया?

- Ans  1. इंडोनेशिया  
 2. थाईलैंड  
 3. मलेशिया  
 4. सिंगापुर

Question ID : 630680270324  
Option 1 ID : 6306801050493  
Option 2 ID : 6306801050492  
Option 3 ID : 6306801050491  
Option 4 ID : 6306801050490  
Status : Answered  
Chosen Option : 1

Q.16 भारत की 2011 की जनगणना के अनुसार निम्नलिखित राज्यों को उच्चतम से निम्नतम लिंगानुपात के सही क्रम में व्यवस्थित करें।

- I. नागालैंड  
II. राजस्थान  
III. झारखंड

- Ans  1. III-I-II  
 2. II-I-III  
 3. I-II-III  
 4. I-III-II

Question ID : 630680270343  
Option 1 ID : 6306801050569  
Option 2 ID : 6306801050566  
Option 3 ID : 6306801050567  
Option 4 ID : 6306801050568  
Status : Answered  
Chosen Option : 4

Q.17 परिवर्ती आगत की कुल संप्राप्ति \_\_\_\_\_ के समान होती है।

- Ans  1. कुल उत्पाद  
 2. औसत उत्पाद  
 3. सीमांत उत्पाद  
 4. हासमान सीमांत उत्पाद

Question ID : 630680270330  
Option 1 ID : 6306801050516  
Option 2 ID : 6306801050517  
Option 3 ID : 6306801050515  
Option 4 ID : 6306801050514  
Status : Answered  
Chosen Option : 4

Q.18 अंग्रेजों के खिलाफ भारत के स्वतंत्रता संग्राम के संदर्भ में, 'घटना - वर्ष' का निम्नलिखित में से कौन-सा युग्म सही सुमेलित नहीं है?

- Ans  1. पूर्ण स्वराज - 1926  
 2. गांधी-इरविन समझौता - 1931  
 3. साइमन कमीशन - 1928  
 4. चौरी चौरा - 1922

Question ID : 630680270332  
Option 1 ID : 6306801050523  
Option 2 ID : 6306801050525  
Option 3 ID : 6306801050524  
Option 4 ID : 6306801050522  
Status : Answered  
Chosen Option : 2

Q.19 निम्नलिखित में से किस लेखक ने 57वां ज्ञानपीठ पुरस्कार जीता?

- Ans  1. अनुराधा राय  
 2. तपन बंदोपाध्याय  
 3. दामोदर मौजो  
 4. बद्री नारायण

Question ID : 630680270335  
Option 1 ID : 6306801050534  
Option 2 ID : 6306801050537  
Option 3 ID : 6306801050536  
Option 4 ID : 6306801050535  
Status : Answered  
Chosen Option : 4

Q.20 भारतीय संविधान का कौन सा अनुच्छेद 'प्राण और दैहिक स्वतंत्रता का संरक्षण' से संबंधित है?

- Ans  1. अनुच्छेद 19  
 2. अनुच्छेद 20  
 3. अनुच्छेद 21  
 4. अनुच्छेद 22

Question ID : 630680270344  
Option 1 ID : 6306801050570  
Option 2 ID : 6306801050571  
Option 3 ID : 6306801050572  
Option 4 ID : 6306801050573  
Status : Answered  
Chosen Option : 3

Q.21 ऐसे जीव जिनकी कोशिकाओं में केन्द्रक झिल्ली नहीं होती है उन्हें \_\_\_\_\_ कहते हैं।

- Ans  1. यूकेरियोट  
 2. अकशेरुकी  
 3. प्रोकैरियोट  
 4. कशेरुकी

Question ID : 630680270348  
Option 1 ID : 6306801050588  
Option 2 ID : 6306801050587  
Option 3 ID : 6306801050589  
Option 4 ID : 6306801050586  
Status : Answered  
Chosen Option : 4

Q.22 भारत के निर्वाचन आयोग के संबंध में निम्नलिखित में से कौन सा/से कथन सही है/हैं?

- I. भारत का निर्वाचन आयोग एक सदस्यीय या बहु-सदस्यीय भी हो सकता है।  
II. 1993 तक, निर्वाचन आयोग एक सदस्यीय था।

- Ans  1. केवल II  
 2. केवल I  
 3. I और II दोनों  
 4. न ही I न ही II

Question ID : 630680270347  
Option 1 ID : 6306801050583  
Option 2 ID : 6306801050582  
Option 3 ID : 6306801050584  
Option 4 ID : 6306801050585  
Status : Answered  
Chosen Option : 3

Q.23 जब पूर्ति वक्र दायीं ओर शिफ्ट होता है और मांग वक्र बायीं ओर शिफ्ट होता है, तो मात्रा पर प्रभाव \_\_\_\_\_ पर निर्भर करता है।

- Ans  1. कुछ उत्पादों की उपलब्धता  
 2. उपभोक्ताओं के रुचियों तथा अधिमानों  
 3. दोनों वक्रों में शिफ्ट के परिमाण  
 4. आपूर्ति की कीमत लोच

Question ID : 630680270331  
Option 1 ID : 6306801050519  
Option 2 ID : 6306801050518  
Option 3 ID : 6306801050521  
Option 4 ID : 6306801050520  
Status : Answered  
Chosen Option : 2

Q.24 निम्नलिखित में से कौन सा भारतीय त्यौहार भैंस दौड़ के वार्षिक कार्यक्रम से जुड़ा है?

- Ans  1. जल्लीकट्टू  
 2. कम्बाला  
 3. बोनालू  
 4. उगादी

Question ID : 630680270338  
Option 1 ID : 6306801050548  
Option 2 ID : 6306801050547  
Option 3 ID : 6306801050549  
Option 4 ID : 6306801050546  
Status : Answered  
Chosen Option : 1

Q.25 अगस्त 2022 में, निम्नलिखित में से किस राज्य/संघ राज्य क्षेत्र ने 'मेक इंडिया नंबर 1' मिशन शुरू किया?

- Ans  1. हरियाणा  
 2. लद्दाख  
 3. दिल्ली  
 4. गुजरात

Question ID : 630680270329  
Option 1 ID : 6306801050510  
Option 2 ID : 6306801050513  
Option 3 ID : 6306801050511  
Option 4 ID : 6306801050512  
Status : Answered  
Chosen Option : 1

Section : Mathematics

Q.1 दीपक अकेले एक कार्य को 50 घंटे में कर सकता है। दीपक तथा राहुल मिलकर उसी कार्य को 40 घंटे में कर सकते हैं। राहुल तथा वरून मिलकर उसी कार्य को 25 घंटे में कर सकते हैं। वरून अकेले उसी कार्य को कितने घंटों में पूरा कर सकता है?

- Ans  1. 150/11 घंटे  
 2. 100/7 घंटे  
 3. 200/7 घंटे  
 4. 200/9 घंटे

Question ID : 630680270366  
Option 1 ID : 6306801050659  
Option 2 ID : 6306801050661  
Option 3 ID : 6306801050660  
Option 4 ID : 6306801050658  
Status : Answered  
Chosen Option : 4

Q.2 350 मीटर लम्बे एक पुल के विपरीत छोरों पर दो लडके खड़े हुए हैं। यदि वे एक दूसरे की ओर क्रमशः 3 मीटर/मिनट तथा 4 मीटर/मिनट की गति से चलते हैं, तो वे कितने समय में एक दूसरे से मिलेंगे?

- Ans  1. 48 मिनट  
 2. 40 मिनट  
 3. 50 मिनट  
 4. 45 मिनट

Question ID : 630680270363  
Option 1 ID : 6306801050648  
Option 2 ID : 6306801050646  
Option 3 ID : 6306801050649  
Option 4 ID : 6306801050647  
Status : Answered  
Chosen Option : 3



Q.3 जब एक संख्या को क्रमिक रूप से 15 प्रतिशत, 25 प्रतिशत तथा 18 प्रतिशत से कम किया जाता है, तो वह 6273 हो जाती है। वह संख्या क्या है?

- Ans  1. 12000  
 2. 18000  
 3. 16000  
 4. 14000

Question ID : 630680270354  
 Option 1 ID : 6306801050612  
 Option 2 ID : 6306801050610  
 Option 3 ID : 6306801050611  
 Option 4 ID : 6306801050613  
 Status : Answered  
 Chosen Option : 1

Q.4 एक शंकु जिसकी त्रिज्या 12 से.मी. तथा ऊँचाई 16 से.मी. है, का कुल पृष्ठीय क्षेत्रफल क्या है?

- Ans  1. 1450.36 से.मी.<sup>2</sup>  
 2. 1206.85 से.मी.<sup>2</sup>  
 3. 1150.46 से.मी.<sup>2</sup>  
 4. 1300.62 से.मी.<sup>2</sup>

Question ID : 630680270370  
 Option 1 ID : 6306801050677  
 Option 2 ID : 6306801050674  
 Option 3 ID : 6306801050675  
 Option 4 ID : 6306801050676  
 Status : Answered  
 Chosen Option : 2

Q.5 एक घनाकार कमरे में रखी जा सकने वाली सबसे लंबी छड़ की लंबाई  $40\sqrt{3}$  से.मी. है। घन का आयतन क्या है?

- Ans  1. 42875 से.मी.<sup>3</sup>  
 2. 15625 से.मी.<sup>3</sup>  
 3. 27000 से.मी.<sup>3</sup>  
 4. 64000 से.मी.<sup>3</sup>

Question ID : 630680270373  
 Option 1 ID : 6306801050686  
 Option 2 ID : 6306801050688  
 Option 3 ID : 6306801050689  
 Option 4 ID : 6306801050687  
 Status : Answered  
 Chosen Option : 3

Q.6 एक व्यक्ति द्वारा 6 वर्षों में 1000 रुपये के मूलधन पर प्राप्त किया गया साधारण ब्याज मूलधन का 60 प्रतिशत है। ब्याज की वार्षिक दर क्या है?

- Ans
- 1. 5 प्रतिशत
  - 2. 8 प्रतिशत
  - 3. 9 प्रतिशत
  - 4. 10 प्रतिशत

Question ID : 630680270360  
 Option 1 ID : 6306801050634  
 Option 2 ID : 6306801050637  
 Option 3 ID : 6306801050635  
 Option 4 ID : 6306801050636  
 Status : Answered  
 Chosen Option : 4

Q.7 पाईप A तथा C साथ मिलकर एक टंकी को 30 घंटे में भर सकते हैं। पाईप C तथा D साथ मिलकर उसी टंकी को 15 घंटे में भर सकते हैं। पाईप A तथा D साथ मिलकर उसी टंकी को 20 घंटे में भर सकते हैं। पाईप C अकेले उसी टंकी को कितने घंटे में भर सकता है?

- Ans
- 1. 45 घंटे
  - 2. 70 घंटे
  - 3. 40 घंटे
  - 4. 55 घंटे

Question ID : 630680270367  
 Option 1 ID : 6306801050665  
 Option 2 ID : 6306801050662  
 Option 3 ID : 6306801050663  
 Option 4 ID : 6306801050664  
 Status : Answered  
 Chosen Option : 4

Q.8 एक निश्चित राशि पर 2 वर्ष तथा 3 वर्ष के पश्चात चक्रवृद्धि ब्याज (वार्षिक संयोजन पर) पर प्राप्त किया गया मिश्रधन क्रमशः 11520 रुपये तथा 13824 रुपये है। वह राशि क्या है?

- Ans
- 1. 6000 रुपये
  - 2. 8000 रुपये
  - 3. 9000 रुपये
  - 4. 7000 रुपये

Question ID : 630680270361  
 Option 1 ID : 6306801050638  
 Option 2 ID : 6306801050640  
 Option 3 ID : 6306801050639  
 Option 4 ID : 6306801050641  
 Status : Answered  
 Chosen Option : 3

Q.9 5 क्रमागत सम संख्याओं का औसत 7 है। यदि अगली सम संख्या को भी लिया जाए, तो नया औसत क्या होगा?

- Ans
- 1. 8
  - 2. 9
  - 3.  $\frac{43}{6}$
  - 4.  $\frac{47}{6}$

Question ID : 630680270351  
 Option 1 ID : 6306801050598  
 Option 2 ID : 6306801050600  
 Option 3 ID : 6306801050599  
 Option 4 ID : 6306801050601  
 Status : Answered  
 Chosen Option : 4

Q.10 दो संख्याओं में से, छोटी संख्या का 56.2 प्रतिशत बड़ी संख्या के 11.24 प्रतिशत के बराबर है। यदि दोनों संख्याओं का योग 1200 है, तो बड़ी संख्या का मान क्या है?

- Ans
- 1. 1000
  - 2. 750
  - 3. 800
  - 4. 900

Question ID : 630680270353  
 Option 1 ID : 6306801050609  
 Option 2 ID : 6306801050606  
 Option 3 ID : 6306801050608  
 Option 4 ID : 6306801050607  
 Status : Answered  
 Chosen Option : 2

Q.11 A तथा B की आय 5 : 7 के अनुपात में है तथा उनके व्यय 1 : 1 के अनुपात में है। यदि A, 2000 रुपये बचाता है तथा B, 4000 रुपये बचाता है, तो A की आय क्या होगी?

- Ans
- 1. 5000 रुपये
  - 2. 7000 रुपये
  - 3. 6000 रुपये
  - 4. 8000 रुपये

Question ID : 630680270359  
 Option 1 ID : 6306801050632  
 Option 2 ID : 6306801050631  
 Option 3 ID : 6306801050630  
 Option 4 ID : 6306801050633  
 Status : Answered  
 Chosen Option : 3

Q.12 एक आयत की लम्बाई तथा चौड़ाई के बीच अंतर 18 मीटर है। यदि इसका परिमाप 144 मीटर है, तो आयत का क्षेत्रफल क्या होगा?

- Ans  1. 1215 मीटर<sup>2</sup>  
 2. 1245 मीटर<sup>2</sup>  
 3. 1150 मीटर<sup>2</sup>  
 4. 1210 मीटर<sup>2</sup>

Question ID : 630680270368  
 Option 1 ID : 6306801050669  
 Option 2 ID : 6306801050666  
 Option 3 ID : 6306801050667  
 Option 4 ID : 6306801050668  
 Status : Answered  
 Chosen Option : 2

Q.13 एक पुरुष एक निश्चित दूरी के आधे भाग को 20 कि.मी./घंटा की गति से तय करता है। वह शेष दूरी को 60 प्रतिशत, 15 कि.मी./घंटा की गति से तय करता है तथा बची हुई दूरी को 10 कि.मी./घंटा की गति से तय करता है। संपूर्ण यात्रा के लिए उसकी औसत गति क्या है?

- Ans  1. 400/13 कि.मी./घंटा  
 2. 200/13 कि.मी./घंटा  
 3. 380/13 कि.मी./घंटा  
 4. 120/13 कि.मी./घंटा

Question ID : 630680270352  
 Option 1 ID : 6306801050602  
 Option 2 ID : 6306801050604  
 Option 3 ID : 6306801050605  
 Option 4 ID : 6306801050603  
 Status : Answered  
 Chosen Option : 3

Q.14 एक पुरुष एक बिन्दु से 9:00 पूर्वाह्न पर 45 कि.मी./घंटा की गति से दौड़ना आरंभ करता है। दो घंटे पश्चात दूसरा पुरुष उसी बिंदु से समान दिशा में 60 कि.मी./घंटा की गति से दौड़ना आरंभ करता है। किस समय दूसरा पुरुष पहले पुरुष से 60 कि.मी. आगे होगा?

- Ans  1. 6:45 अपराह्न  
 2. 9:00 अपराह्न  
 3. 6:55 अपराह्न  
 4. 8:00 अपराह्न

Question ID : 630680270364  
 Option 1 ID : 6306801050650  
 Option 2 ID : 6306801050652  
 Option 3 ID : 6306801050651  
 Option 4 ID : 6306801050653  
 Status : Answered  
 Chosen Option : 3

Q.15 X, Y तथा Z मिलकर एक कार्य को 25 दिनों में पूरा कर सकते हैं। X तथा Y मिलकर उसी कार्य को 50 दिनों में पूरा कर सकते हैं। Z अकेला उसी कार्य को कितने दिनों में पूरा कर सकता है?

- Ans
- 1. 42 दिन
  - 2. 50 दिन
  - 3. 45 दिन
  - 4. 35 दिन

Question ID : 630680270365  
 Option 1 ID : 6306801050657  
 Option 2 ID : 6306801050654  
 Option 3 ID : 6306801050655  
 Option 4 ID : 6306801050656  
 Status : Answered  
 Chosen Option : 2

Q.16  $(171 + 129)^2 - (171 - 129)^2$  का मान क्या है?

- Ans
- 1.  $340 \times 260$
  - 2.  $300 \times 400$
  - 3.  $320 \times 280$
  - 4.  $342 \times 258$

Question ID : 630680270349  
 Option 1 ID : 6306801050591  
 Option 2 ID : 6306801050593  
 Option 3 ID : 6306801050592  
 Option 4 ID : 6306801050590  
 Status : Answered  
 Chosen Option : 4

Q.17 एक व्यक्ति सामान दूरी की चार यात्राएं करता है। पहली यात्रा में उसकी गति 80 कि.मी./घंटा थी तथा अगली हर यात्रा में उसकी गति पिछली यात्रा की गति से आधी थी। इन चार यात्राओं में उस व्यक्ति की औसत गति क्या है?

- Ans
- 1.  $64/3$  कि.मी./घंटा
  - 2. 24 कि.मी./घंटा
  - 3. 22 कि.मी./घंटा
  - 4.  $43/2$  कि.मी./घंटा

Question ID : 630680270362  
 Option 1 ID : 6306801050644  
 Option 2 ID : 6306801050645  
 Option 3 ID : 6306801050643  
 Option 4 ID : 6306801050642  
 Status : Answered  
 Chosen Option : 3

Q.18 यदि एक गोले का त्रिज्या 35 से.मी. है, तो गोले का कुल पृष्ठीय क्षेत्रफल क्या है?

- Ans  1. 15400 से.मी.<sup>2</sup>  
 2. 14300 से.मी.<sup>2</sup>  
 3. 16500 से.मी.<sup>2</sup>  
 4. 12000 से.मी.<sup>2</sup>

Question ID : 630680270369  
 Option 1 ID : 6306801050672  
 Option 2 ID : 6306801050671  
 Option 3 ID : 6306801050670  
 Option 4 ID : 6306801050673  
 Status : Answered  
 Chosen Option : 2

Q.19 एक व्यक्ति को एक बोटल 1350 रुपये में बेचने पर 25 प्रतिशत की हानि होती है। उसे 28 प्रतिशत का लाभ कमाने के लिए बोटल को किस मूल्य पर बेचना चाहिए?

- Ans  1. 2304 रुपये  
 2. 1935 रुपये  
 3. 1875 रुपये  
 4. 2045 रुपये

Question ID : 630680270355  
 Option 1 ID : 6306801050616  
 Option 2 ID : 6306801050614  
 Option 3 ID : 6306801050615  
 Option 4 ID : 6306801050617  
 Status : Answered  
 Chosen Option : 1

Q.20 एक वस्तु को 30 प्रतिशत तथा 18 प्रतिशत की दो क्रमिक छूट देने के पश्चात 1722 रुपये में बेचा गया है। वस्तु का अंकित मूल्य क्या है?

- Ans  1. 3000 रुपये  
 2. 3500 रुपये  
 3. 2700 रुपये  
 4. 3800 रुपये

Question ID : 630680270356  
 Option 1 ID : 6306801050618  
 Option 2 ID : 6306801050619  
 Option 3 ID : 6306801050620  
 Option 4 ID : 6306801050621  
 Status : Answered  
 Chosen Option : 1

Q.21 यदि  $3M = 8N = 24P$  है, तो  $M : N : P$  का मान क्या है?

- Ans  1. 7 : 5 : 1  
 2. 6 : 3 : 1  
 3. 5 : 2 : 1  
 4. 8 : 3 : 1

Question ID : 630680270357  
 Option 1 ID : 6306801050625  
 Option 2 ID : 6306801050622  
 Option 3 ID : 6306801050623  
 Option 4 ID : 6306801050624  
 Status : Answered  
 Chosen Option : 4

Q.22 एक बेलन की त्रिज्या 42 से.मी. है। यदि बेलन की ऊँचाई उसकी त्रिज्या की दो गुना है, तो बेलन का वक्र पृष्ठीय क्षेत्रफल क्या है?

- Ans
- 1. 22220 से.मी.<sup>2</sup>
  - 2. 22198 से.मी.<sup>2</sup>
  - 3. 22176 से.मी.<sup>2</sup>
  - 4. 22154 से.मी.<sup>2</sup>

Question ID : 630680270371

Option 1 ID : 6306801050679

Option 2 ID : 6306801050681

Option 3 ID : 6306801050680

Option 4 ID : 6306801050678

Status : Answered

Chosen Option : 1

Q.23 तीन विभिन्न संख्याओं का लघुत्तम समापवर्त्य 180 है। निम्नलिखित में से कौन सा उनका महत्तम समापवर्तक नहीं हो सकता है?

- Ans
- 1. 5
  - 2. 6
  - 3. 10
  - 4. 25

Question ID : 630680270350

Option 1 ID : 6306801050596

Option 2 ID : 6306801050597

Option 3 ID : 6306801050595

Option 4 ID : 6306801050594

Status : Answered

Chosen Option : 4

Q.24 90 रुपये प्रति कि.ग्रा. मूल्य वाली चाय को 150 रुपये प्रति कि.ग्रा. मूल्य वाली चाय के साथ किस अनुपात में मिलाया जाए जिससे इस मिश्रण को 143 रुपये प्रति कि.ग्रा. का बेचने पर 30 प्रतिशत का लाभ हो?

- Ans
- 1. 4 : 1
  - 2. 3 : 1
  - 3. 2 : 1
  - 4. 5 : 1

Question ID : 630680270358

Option 1 ID : 6306801050629

Option 2 ID : 6306801050627

Option 3 ID : 6306801050626

Option 4 ID : 6306801050628

Status : Answered

Chosen Option : 2

Q.25 एक घन की भुजा की लंबाई 24 से.मी. है। घन का पार्श्व पृष्ठीय क्षेत्रफल क्या है?

- Ans
- 1. 4608 से.मी.<sup>2</sup>
  - 2. 1152 से.मी.<sup>2</sup>
  - 3. 2880 से.मी.<sup>2</sup>
  - 4. 2304 से.मी.<sup>2</sup>

Question ID : 630680270372

Option 1 ID : 6306801050685

Option 2 ID : 6306801050683

Option 3 ID : 6306801050684

Option 4 ID : 6306801050682

Status : Answered

Chosen Option : 4

Section : Reasoning

Q.1 नीचे दिए गए प्रश्न में, चार शब्द युग्म दिए गए हैं। (-) के बायीं ओर दिया गया शब्द (-) के दायीं ओर दिए गए शब्द से किसी तर्क/नियम/संबंध से संबंधित है। तीन उसी एक तर्क/नियम/संबंध के आधार पर समान है। दिए गए विकल्पों में से विषम को चुनिए। (दिए गए शब्द अर्थपूर्ण हैं)

- Ans
- 1. कुल्हाड़ी – लकड़हारा
  - 2. मूर्तिकार – छेनी
  - 3. लेखक – कलम
  - 4. चिकित्सक – स्टेथोस्कोप

Question ID : 630680270384

Option 1 ID : 6306801050733

Option 2 ID : 6306801050732

Option 3 ID : 6306801050730

Option 4 ID : 6306801050731

Status : Answered

Chosen Option : 3

Q.2 एक विशिष्ट कोड भाषा में, 'POLY' को 'JHFR' लिखा जाता है। इस कोड भाषा में 'HUNT' को किस प्रकार लिखा जाएगा?

- Ans
- 1. ZLKP
  - 2. BNHM
  - 3. YKJO
  - 4. ZLFX

Question ID : 630680270379

Option 1 ID : 6306801050710

Option 2 ID : 6306801050713

Option 3 ID : 6306801050712

Option 4 ID : 6306801050711

Status : Answered

Chosen Option : 2



Q.3 निम्नलिखित प्रश्न में दी गई श्रृंखला में से लुप्त अंक ज्ञात कीजिए।

111, 106, 113, 102, 115, ?, 117

- Ans
- 1. 102
  - 2. 95
  - 3. 100
  - 4. 98

Question ID : 630680270397

Option 1 ID : 6306801050785

Option 2 ID : 6306801050784

Option 3 ID : 6306801050782

Option 4 ID : 6306801050783

Status : Answered

Chosen Option : 4

Q.4 यदि शब्द 'MORTEIN' के अक्षरों को अंग्रेजी वर्णमाला क्रम के अनुसार बाएं से दाएं की ओर व्यवस्थित किया जाए, तो मूल शब्द की तुलना में कितने अक्षरों का स्थान अपरिवर्तित रहेगा?

- Ans
- 1. एक
  - 2. कोई भी नहीं
  - 3. तीन
  - 4. दो

Question ID : 630680270374

Option 1 ID : 6306801050693

Option 2 ID : 6306801050692

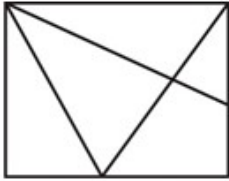
Option 3 ID : 6306801050691

Option 4 ID : 6306801050690

Status : Answered

Chosen Option : 3

Q.5 दी गई आकृति में कितने त्रिभुज हैं?



- Ans
- 1. 7
  - 2. 9
  - 3. 6
  - 4. 8

Question ID : 630680270387

Option 1 ID : 6306801050743

Option 2 ID : 6306801050745

Option 3 ID : 6306801050742

Option 4 ID : 6306801050744

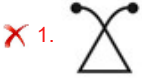
Status : Answered

Chosen Option : 2

Q.6 कौन सी आकृति दी गई आकृतियों के समान है?



Ans



Question ID : 630680270393

Option 1 ID : 6306801050766

Option 2 ID : 6306801050767

Option 3 ID : 6306801050768

Option 4 ID : 6306801050769

Status : Answered

Chosen Option : 3

Q.7 दिए गए दो चिन्हों को आपस में परस्पर बदलने पर निम्नलिखित में से कौन सा समीकरण सही होगा?

+ तथा ÷

I.  $62 \times 2 + 31 - 12 \div 6 = -2$

II.  $84 \div 39 + 3 \times 4 - 16 = 118$

Ans ✗ 1. ना ही । ना ही ॥

✗ 2. I तथा II दोनों

✗ 3. केवल II

✓ 4. केवल I

Question ID : 630680270395

Option 1 ID : 6306801050777

Option 2 ID : 6306801050776

Option 3 ID : 6306801050775

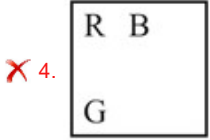
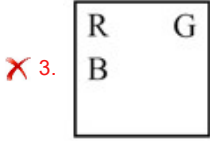
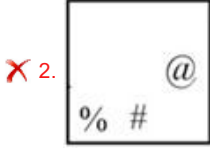
Option 4 ID : 6306801050774

Status : Answered

Chosen Option : 1

Q.8 निम्नलिखित प्रश्न में, दिए गए विकल्पों में से विषम आकृति को चुनिए।

Ans



Question ID : 630680270394  
 Option 1 ID : 6306801050772  
 Option 2 ID : 6306801050770  
 Option 3 ID : 6306801050773  
 Option 4 ID : 6306801050771

Status : Answered

Chosen Option : 4

Q.9 निम्नलिखित प्रश्न में अक्षर समूहों के समूह दिए गये हैं। प्रत्येक समूह के अक्षर समूह किसी न किसी तर्क/नियम/संबंध द्वारा उसी समूह के अन्य अक्षर समूहों से संबंधित हैं। दिए गए विकल्पों में से अक्षर समूहों के उस समूह का चयन करें जो समान तर्क/नियम/संबंध का अनुसरण करता हो।

(STQ, NQP, MNK) (ABC, ZYX, UVW)

Ans ✓ 1. (LQE, BNI, FKY)

✗ 2. (GMT, QJD, AGM)

✗ 3. (WRC, ZNT, QKW)

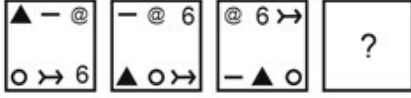
✗ 4. (KSB, YPH, FMV)

Question ID : 630680270381  
 Option 1 ID : 6306801050721  
 Option 2 ID : 6306801050720  
 Option 3 ID : 6306801050719  
 Option 4 ID : 6306801050718

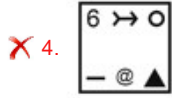
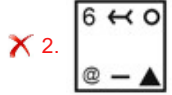
Status : Answered

Chosen Option : 4

Q.10 निम्नलिखित प्रश्न में, दिए गए विकल्पों में से प्रश्न चिन्ह (?) के स्थान पर आने वाली आकृति को चुनिए।



Ans



Question ID : 630680270386

Option 1 ID : 6306801050739

Option 2 ID : 6306801050740


Option 3 ID : 6306801050741

Option 4 ID : 6306801050738

Status : Answered

Chosen Option : 1

Q.11 दी गई आकृति में कितने आयत हैं?



Ans ✗ 1. 12

✗ 2. 15

✓ 3. 14

✗ 4. 13

Question ID : 630680270388

Option 1 ID : 6306801050746

Option 2 ID : 6306801050748

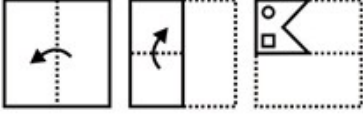
Option 3 ID : 6306801050747

Option 4 ID : 6306801050749

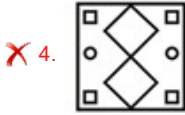
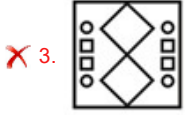
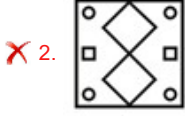
Status : Answered

Chosen Option : 3

Q.12 नीचे की प्रश्न आकृतियों में दिखाए गए अनुसार कागज को मोड़कर छेदने तथा खोलने के बाद वह किस विकल्प आकृति जैसा दिखाई देगा?



Ans



Question ID : 630680270391

Option 1 ID : 6306801050759

Option 2 ID : 6306801050760

Option 3 ID : 6306801050758

Option 4 ID : 6306801050761

Status : Answered

Chosen Option : 1

Q.13 एक विशिष्ट कोड भाषा में, 'FRGHK' को 'DAZKY' लिखा जाता है, 'AXRMB' को 'UFGQT' लिखा जाता है। इस कोड भाषा में 'BROWN' को किस प्रकार लिखा जाएगा?

- Ans
- ✗ 1. GPLKU
  - ✗ 2. GHLKU
  - ✗ 3. GRHKU
  - ✓ 4. GPHKU

Question ID : 630680270380

Option 1 ID : 6306801050714

Option 2 ID : 6306801050716

Option 3 ID : 6306801050715

Option 4 ID : 6306801050717

Status : Answered

Chosen Option : 4

Q.14  $\sqrt{325.08 \times 9.906 + 14.27\% \text{ of } 343 + 13.86 \times 11.23}$  का सन्निकट मान क्या है?

- Ans
- 1. 321
  - 2. 421
  - 3. 484
  - 4. 383





Question ID : 630680270396  
 Option 1 ID : 6306801050779  
 Option 2 ID : 6306801050781  
 Option 3 ID : 6306801050780  
 Option 4 ID : 6306801050778  
 Status : Answered

Chosen Option : 2

Q.15 निम्नलिखित प्रश्न में, दिए गए विकल्पों में से प्रश्न चिन्ह (?) के स्थान पर आने वाली आकृति को चुनिए।



Ans

- 1. 
- 2. 
- 3. 
- 4. 

Question ID : 630680270385  
 Option 1 ID : 6306801050734  
 Option 2 ID : 6306801050735  
 Option 3 ID : 6306801050736  
 Option 4 ID : 6306801050737  
 Status : Answered

Chosen Option : 3

Q.16 शब्द 'CJLCULSTOR' में अक्षरों को अंग्रेजी वर्णमाला क्रम के अनुसार पिछले अक्षर से बदल दिया जाता है। नवगठित शब्द में बायें से दूसरे अक्षर के दायें ओर सातवा अक्षर क्या होगा?

- Ans
- 1. Q
  - 2. K
  - 3. N
  - 4. S

Question ID : 630680270375  
 Option 1 ID : 6306801050696  
 Option 2 ID : 6306801050695  
 Option 3 ID : 6306801050694  
 Option 4 ID : 6306801050697  
 Status : Answered

Chosen Option : 3

Q.17 नीचे दी गई स्ट्रिंग पर विचार करें जो अक्षरों से बनी है। कितने स्वरों के ठीक पहले एक व्यंजन है?

KWLUJFISFGUDHTOIJCEUBDIXMNGU

- Ans
- 1. नौ
  - 2. आठ
  - 3. सात
  - 4. पाँच

Question ID : 630680270376

Option 1 ID : 6306801050699

Option 2 ID : 6306801050698

Option 3 ID : 6306801050700

Option 4 ID : 6306801050701

Status : Answered

Chosen Option : 4

Q.18 निम्नलिखित प्रश्न में अक्षर समूहों के समूह दिए गये हैं। प्रत्येक समूह के अक्षर समूह किसी न किसी तर्क/नियम/संबंध द्वारा उसी समूह के अन्य अक्षर समूहों से संबंधित हैं। दिए गए विकल्पों में से अक्षर समूहों के उस समूह का चयन करें जो समान तर्क/नियम/संबंध का अनुसरण करता हो।

(AL, ET, IB) (BH, FP, JX)

- Ans
- 1. (BD, FL, KT)
  - 2. (RS, VB, ZJ)
  - 3. (PA, TI, XR)
  - 4. (HM, LU, PC)

Question ID : 630680270382

Option 1 ID : 6306801050724

Option 2 ID : 6306801050722


Option 3 ID : 6306801050723

Option 4 ID : 6306801050725

Status : Answered

Chosen Option : 4

Q.19 दी गई विकल्प आकृतियों में से उस आकृति को चुनिए जिस में प्रश्न आकृति निहित है।



Ans

✗ 1.



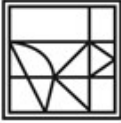
✗ 2.



✗ 3.



✓ 4.



Question ID : 630680270392

Option 1 ID : 6306801050763

Option 2 ID : 6306801050764

Option 3 ID : 6306801050762

Option 4 ID : 6306801050765

Status : Answered

Chosen Option : 4

Q.20 निम्नलिखित प्रश्न में चार अक्षर युग्म दिए गए हैं। (-) के बायीं ओर के अक्षर (-) के दायीं ओर के अक्षरों से कुछ तर्क/नियम/संबंध से संबंधित है। उनमें से तीन समान तर्क/नियम/संबंध के आधार पर समान हैं। दिए गए विकल्पों में से विषम को चुनिए।

Ans ✓ 1. ORB – GWS

✗ 2. BHS – XMG

✗ 3. ANJ – OSF

✗ 4. HRV – AWM

Question ID : 630680270383

Option 1 ID : 6306801050729

Option 2 ID : 6306801050728

Option 3 ID : 6306801050727

Option 4 ID : 6306801050726

Status : Answered

Chosen Option : 3



Q.21 कौन सी उत्तर आकृति प्रश्न आकृति के प्रतिरूप को पूरा करेगी?



Ans

✗ 1.



✓ 2.



✗ 3.



✗ 4.



Question ID : 630680270389

Option 1 ID : 6306801050751

Option 2 ID : 6306801050752

Option 3 ID : 6306801050753

Option 4 ID : 6306801050750

Status : Answered

Chosen Option : 2

Q.22 'J + R' का अर्थ 'J, R का पिता है', 'J - R' का अर्थ 'J, R की माता है', 'J ÷ R' का अर्थ 'J, R का पुत्र है' तथा 'J × R' का अर्थ 'J, R का भाई है'। यदि  $S + M \times T \div F - K$  है, तो S, K से किस प्रकार संबंधित है?

Ans ✗ 1. भाई

✗ 2. ससुर

✗ 3. माता का भाई

✓ 4. पिता

Question ID : 630680270377

Option 1 ID : 6306801050704

Option 2 ID : 6306801050705

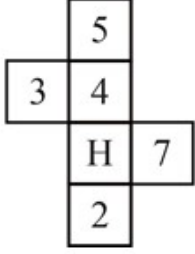
Option 3 ID : 6306801050703

Option 4 ID : 6306801050702





Status : Answered

Chosen Option : 2

Q.23 दिए गए कागज को मोड़ने पर, निम्नलिखित में से कौन सा बक्सा नहीं बनाया जा सकता है?



Ans

- ✗ 1. 
- ✗ 2. 
- ✓ 3. 
- ✗ 4. 

Question ID : 630680270390  
 Option 1 ID : 6306801050754  
 Option 2 ID : 6306801050755  
 Option 3 ID : 6306801050757  
 Option 4 ID : 6306801050756

Status : Answered

Chosen Option : 1

Q.24 'T + M' का अर्थ है 'M, T की बहन है', 'T @ M' का अर्थ 'M, T का पुत्र है' तथा 'T # M' का अर्थ 'M, T का पति है'। यदि A # J @ K + R + G है, तो G, J से किस प्रकार संबंधित है?

- Ans ✓ 1. पुत्री
- ✗ 2. बहु
- ✗ 3. माता
- ✗ 4. बहन

Question ID : 630680270378  
 Option 1 ID : 6306801050709  
 Option 2 ID : 6306801050707  
 Option 3 ID : 6306801050708  
 Option 4 ID : 6306801050706

Status : Answered

Chosen Option : 2

Q.25 निम्नलिखित प्रश्न में दी गई श्रृंखला में से लुप्त अंक ज्ञात कीजिए।

71, 70, 74, 47, 63, ?, -26

- Ans  1. -60  
 2. -64  
 3. -62  
 4. -65

Question ID : 630680270398

Option 1 ID : 6306801050788

Option 2 ID : 6306801050789

Option 3 ID : 6306801050787

Option 4 ID : 6306801050786

Status : Answered

Chosen Option : 3

Section : General English

Q.1 A sentence has been given with a blank to be filled with an appropriate option. Choose the correct alternative.

Some countries have secured \_\_\_\_\_ vaccine doses than their populations need.

- Ans  1. most  
 2. many  
 3. more  
 4. much

Question ID : 630680270403

Option 1 ID : 6306801050809

Option 2 ID : 6306801050806

Option 3 ID : 6306801050807

Option 4 ID : 6306801050808

Status : Not Answered

Chosen Option : --

Q.2 Choose the word that is opposite in meaning to the given word.

Accidental

- Ans  1. Random  
 2. Deliberate  
 3. Arbitrary  
 4. Desultory

Question ID : 630680270414

Option 1 ID : 6306801050850

Option 2 ID : 6306801050853

Option 3 ID : 6306801050851

Option 4 ID : 6306801050852

Status : Not Answered

Chosen Option : --

**Q.3 Choose the incorrectly spelt word.**

- Ans  1. Motif  
 2. Gaudy  
 3. Impressoin  
 4. Happiness

Question ID : 630680270417  
Option 1 ID : 6306801050865  
Option 2 ID : 6306801050864  
Option 3 ID : 6306801050863  
Option 4 ID : 6306801050862  
Status : Not Answered  
Chosen Option : --

**Q.4 A sentence has been given with a blank to be filled with an appropriate option. Choose the correct alternative.**

I have \_\_\_\_\_ soft spot for your elder sister.

- Ans  1. No article  
 2. the  
 3. a  
 4. an

Question ID : 630680270399  
Option 1 ID : 6306801050791  
Option 2 ID : 6306801050790  
Option 3 ID : 6306801050793  
Option 4 ID : 6306801050792  
Status : Not Answered  
Chosen Option : --

**Q.5 In the following question, out of the given four alternatives, select the alternative which best expresses the meaning of the Idiom/Phrase.**

**Give a wide berth**

- Ans  1. To practice nepotism  
 2. Give a second chance  
 3. Stay away from someone or something  
 4. Share a shocking news

Question ID : 630680270410  
Option 1 ID : 6306801050834  
Option 2 ID : 6306801050836  
Option 3 ID : 6306801050835  
Option 4 ID : 6306801050837  
Status : Not Answered  
Chosen Option : --

**Q.6** In the following question, out of the given four alternatives, select the alternative which best expresses the meaning of the Idiom/Phrase.

**Bet one's boots**

- Ans**
- 1. To get involved in a fight
  - 2. To do nothing or being inactive
  - 3. To ignore someone
  - 4. To be sure or certain

Question ID : 630680270409  
Option 1 ID : 6306801050830  
Option 2 ID : 6306801050833  
Option 3 ID : 6306801050831  
Option 4 ID : 6306801050832  
Status : **Not Answered**  
Chosen Option : --

**Q.7** A sentence has been given with a blank to be filled with an appropriate option. Choose the correct alternative.

Most of my teaching has taken place in \_\_\_\_\_ UK.

- Ans**
- 1. an
  - 2. a
  - 3. No article
  - 4. the

Question ID : 630680270400  
Option 1 ID : 6306801050795  
Option 2 ID : 6306801050797  
Option 3 ID : 6306801050794  
Option 4 ID : 6306801050796  
Status : **Not Answered**  
Chosen Option : --

**Q.8** Choose the correct spelling of the underlined word. If the given spelling is correct, choose 'no correction'.

My wife and infant were acompanying my nieces.

- Ans**
- 1. accompnying
  - 2. accompanying
  - 3. No correction
  - 4. accompanying

Question ID : 630680270418  
Option 1 ID : 6306801050868  
Option 2 ID : 6306801050866  
Option 3 ID : 6306801050869  
Option 4 ID : 6306801050867  
Status : **Not Answered**  
Chosen Option : --

Q.9 Choose the word that can substitute the given group of words.

A large crowd of people

- Ans  1. Flock  
 2. Swarm  
 3. Pack  
 4. Throng

Question ID : 630680270408  
Option 1 ID : 6306801050828  
Option 2 ID : 6306801050829  
Option 3 ID : 6306801050827  
Option 4 ID : 6306801050826  
Status : Not Answered  
Chosen Option : --

Q.10 Choose the word that can substitute the given group of words.

One who holds a post without any salary

- Ans  1. Honorary  
 2. Lecher  
 3. Pedestrian  
 4. Itinerant

Question ID : 630680270407  
Option 1 ID : 6306801050823  
Option 2 ID : 6306801050824  
Option 3 ID : 6306801050822  
Option 4 ID : 6306801050825  
Status : Not Answered  
Chosen Option : --

Q.11 Choose the word that is opposite in meaning to the given word.

Absolute

- Ans  1. Imperious  
 2. Pure  
 3. Limited  
 4. Classic

Question ID : 630680270413  
Option 1 ID : 6306801050849  
Option 2 ID : 6306801050846  
Option 3 ID : 6306801050848  
Option 4 ID : 6306801050847  
Status : Not Answered  
Chosen Option : --

Q.12 Find the part of the given sentence that has an error in it. If there is no error, choose 'No error'.

They had laughed when / Paul have brought forth crumbled / sugar cubes from his coat pocket./ No error

- Ans  1. No error  
 2. sugar cubes from his coat pocket.  
 3. Paul have brought forth crumbled  
 4. They had laughed when

Question ID : 630680270406

Option 1 ID : 6306801050821

Option 2 ID : 6306801050820

Option 3 ID : 6306801050819

Option 4 ID : 6306801050818

Status : Not Answered

Chosen Option : --

Q.13 Find the part of the given sentence that has an error in it. If there is no error, choose 'No error'.

The nurse did gave her / an update each day, and / it was always the same./ No error

- Ans  1. it was always the same.  
 2. The nurse did gave her  
 3. an update each day, and  
 4. No error

Question ID : 630680270405

Option 1 ID : 6306801050816

Option 2 ID : 6306801050814

Option 3 ID : 6306801050815

Option 4 ID : 6306801050817

Status : Not Answered

Chosen Option : --

Q.14 A sentence has been given with a blank to be filled with an appropriate option. Choose the correct alternative.

Many goods come \_\_\_\_\_ through the port of Lagos.

- Ans  1. on  
 2. of  
 3. off  
 4. in

Question ID : 630680270402

Option 1 ID : 6306801050804

Option 2 ID : 6306801050802

Option 3 ID : 6306801050805

Option 4 ID : 6306801050803

Status : Not Answered

Chosen Option : --

Q.15 Choose the word that means the same as the given word.

Facsimile

- Ans  1. Archetype  
 2. Veneer  
 3. Façade  
 4. Doppelganger

Question ID : 630680270415  
Option 1 ID : 6306801050856  
Option 2 ID : 6306801050857  
Option 3 ID : 6306801050854  
Option 4 ID : 6306801050855  
Status : Not Answered  
Chosen Option : --

Q.16 Choose the word that means the same as the given word.

Verity

- Ans  1. Flimsy  
 2. Fallacy  
 3. Facticity  
 4. Erroneousness

Question ID : 630680270416  
Option 1 ID : 6306801050860  
Option 2 ID : 6306801050861  
Option 3 ID : 6306801050858  
Option 4 ID : 6306801050859  
Status : Not Answered  
Chosen Option : --

Q.17 Choose the phrase or idiom that best defines the highlighted set of words.

Everyone was instructed to remain patient while the policeman inspected the crash site.

- Ans  1. To hold the horses  
 2. To spill the beans  
 3. To see eye to eye  
 4. To hit the books

Question ID : 630680270411  
Option 1 ID : 6306801050838  
Option 2 ID : 6306801050840  
Option 3 ID : 6306801050841  
Option 4 ID : 6306801050839  
Status : Not Answered  
Chosen Option : --



Q.18 Find the part of the given sentence that has an error in it. If there is no error, choose 'No error'.

She turned the box / over and run her / hand around the edges. / No error

- Ans
- 1. hand around the edges.
  - 2. She turned the box
  - 3. No error
  - 4. over and run her

Question ID : 630680270404

Option 1 ID : 6306801050812

Option 2 ID : 6306801050810

Option 3 ID : 6306801050813

Option 4 ID : 6306801050811

Status : Not Answered

Chosen Option : --

Q.19 Choose the phrase or idiom that best defines the highlighted set of words.

I think we all need to relax in order to regain some energy to do this work.

- Ans
- 1. Keep one's chin up
  - 2. Get off someone's back
  - 3. Recharge one's batteries
  - 4. Drive a hard bargain

Question ID : 630680270412

Option 1 ID : 6306801050844

Option 2 ID : 6306801050843

Option 3 ID : 6306801050845

Option 4 ID : 6306801050842

Status : Not Answered

Chosen Option : --

Q.20 A sentence has been given with a blank to be filled with an appropriate option. Choose the correct alternative.

The \_\_\_\_\_ you will work in this company, \_\_\_\_\_ harder it will become to leave.

- Ans
- 1. long, the
  - 2. long, a
  - 3. longest, a
  - 4. longer, the

Question ID : 630680270401

Option 1 ID : 6306801050799

Option 2 ID : 6306801050798

Option 3 ID : 6306801050801

Option 4 ID : 6306801050800

Status : Not Answered

Chosen Option : --

**Comprehension:**

Read the following information carefully and answer the given questions.

Approximately 67 miles (107 km) to the north of Aurangabad in the Indhyadri range of Western Ghats lie the caves of Ajanta. The 30 caves, famous for their early Buddhist temple architecture and many delicately drawn murals, are located in a 76 m high, horseshoe-shaped escarpment overlooking the Waghora (tiger) River. The river originates from a picturesque waterfall called sat kund (seven leaps) just off the last cave. It serves as a potent reminder of the natural forces that over untold eons have shaped the basaltic layers of the Deccan plateau. Also, a part of the Gautala Wildlife Sanctuary, this primordial landscape provides a fitting background to one of the finest collections of paintings from India's antiquity. Accorded UNESCO World Heritage site status in 1983 CE, the ancient name of the site is untraceable today. Its current name is derived from a neighbouring village, the local pronunciation of which is Ajintha.

The period of excavation (used as synonymous to the carving of the caves) can be divided into two broad phases. The earliest caves, belonging to the Hinayana phase of Buddhism, can be roughly traced back to the 2nd century BCE, with its period of activity continuing to around the 1st century CE during the rule of Satavahana Dynasty (2nd century BCE – 2nd century CE). The later phase of activities, between 5th and 6th century CE, largely took place under the patronage of the Vakataka dynasty (3rd century – 5th century CE).

The excavation and creation of the caves seem to have been a more community effort in the earlier phase. Group efforts contributed to the building of various parts of the caves, from the facades to single cells. Later, however, construction was marked by sponsorship from influential patrons and local feudatories.

**SubQuestion No : 21**

**Q.21** The period of excavation of the Ajanta caves can be divided into how many phases?

- Ans**  1. Four  
 2. Two  
 3. Three  
 4. Five

Question ID : 630680270421

Option 1 ID : 6306801050876

Option 2 ID : 6306801050874

Option 3 ID : 6306801050875

Option 4 ID : 6306801050877

Status : **Not Answered**

Chosen Option : --

**Comprehension:**

Read the following information carefully and answer the given questions.

Approximately 67 miles (107 km) to the north of Aurangabad in the Indhyadri range of Western Ghats lie the caves of Ajanta. The 30 caves, famous for their early Buddhist temple architecture and many delicately drawn murals, are located in a 76 m high, horseshoe-shaped escarpment overlooking the Waghora (tiger) River. The river originates from a picturesque waterfall called sat kund (seven leaps) just off the last cave. It serves as a potent reminder of the natural forces that over untold eons have shaped the basaltic layers of the Deccan plateau. Also, a part of the Gautala Wildlife Sanctuary, this primordial landscape provides a fitting background to one of the finest collections of paintings from India's antiquity. Accorded UNESCO World Heritage site status in 1983 CE, the ancient name of the site is untraceable today. Its current name is derived from a neighbouring village, the local pronunciation of which is Ajintha.

The period of excavation (used as synonymous to the carving of the caves) can be divided into two broad phases. The earliest caves, belonging to the Hinayana phase of Buddhism, can be roughly traced back to the 2nd century BCE, with its period of activity continuing to around the 1st century CE during the rule of Satavahana Dynasty (2nd century BCE – 2nd century CE). The later phase of activities, between 5th and 6th century CE, largely took place under the patronage of the Vakataka dynasty (3rd century – 5th century CE).

The excavation and creation of the caves seem to have been a more community effort in the earlier phase. Group efforts contributed to the building of various parts of the caves, from the facades to single cells. Later, however, construction was marked by sponsorship from influential patrons and local feudatories.

**SubQuestion No : 22**

**Q.22** Which of the following words is opposite in meaning to the word 'potent' as used in the passage?

- Ans**
- 1. Mighty
  - 2. Concentrated
  - 3. Undiluted
  - 4. Frail

Question ID : **630680270424**  
Option 1 ID : **6306801050887**  
Option 2 ID : **6306801050889**  
Option 3 ID : **6306801050886**  
Option 4 ID : **6306801050888**  
Status : **Not Answered**  
Chosen Option : --

**Comprehension:**

Read the following information carefully and answer the given questions.

Approximately 67 miles (107 km) to the north of Aurangabad in the Indhyadri range of Western Ghats lie the caves of Ajanta. The 30 caves, famous for their early Buddhist temple architecture and many delicately drawn murals, are located in a 76 m high, horseshoe-shaped escarpment overlooking the Waghora (tiger) River. The river originates from a picturesque waterfall called sat kund (seven leaps) just off the last cave. It serves as a potent reminder of the natural forces that over untold eons have shaped the basaltic layers of the Deccan plateau. Also, a part of the Gautala Wildlife Sanctuary, this primordial landscape provides a fitting background to one of the finest collections of paintings from India's antiquity. Accorded UNESCO World Heritage site status in 1983 CE, the ancient name of the site is untraceable today. Its current name is derived from a neighbouring village, the local pronunciation of which is Ajintha.

The period of excavation (used as synonymous to the carving of the caves) can be divided into two broad phases. The earliest caves, belonging to the Hinayana phase of Buddhism, can be roughly traced back to the 2nd century BCE, with its period of activity continuing to around the 1st century CE during the rule of Satavahana Dynasty (2nd century BCE – 2nd century CE). The later phase of activities, between 5th and 6th century CE, largely took place under the patronage of the Vakataka dynasty (3rd century – 5th century CE).

The excavation and creation of the caves seem to have been a more community effort in the earlier phase. Group efforts contributed to the building of various parts of the caves, from the facades to single cells. Later, however, construction was marked by sponsorship from influential patrons and local feudatories.

**SubQuestion No : 23**

**Q.23** According to the given passage, which of the following statements is NOT correct?

- Ans**
- 1. Group efforts contributed to the building of various parts of the Ajanta caves.
  - 2. There are total 30 Ajanta caves.
  - 3. The Ajanta caves follow the Buddhist temple architecture.
  - 4. The earliest caves, belonged to the Vajrayana phase of Buddhism.

Question ID : **630680270422**  
Option 1 ID : **6306801050879**  
Option 2 ID : **6306801050880**  
Option 3 ID : **6306801050878**  
Option 4 ID : **6306801050881**

Status : **Not Answered**

Chosen Option : --

**Comprehension:**

Read the following information carefully and answer the given questions.

Approximately 67 miles (107 km) to the north of Aurangabad in the Indhyadri range of Western Ghats lie the caves of Ajanta. The 30 caves, famous for their early Buddhist temple architecture and many delicately drawn murals, are located in a 76 m high, horseshoe-shaped escarpment overlooking the Waghora (tiger) River. The river originates from a picturesque waterfall called sat kund (seven leaps) just off the last cave. It serves as a potent reminder of the natural forces that over untold eons have shaped the basaltic layers of the Deccan plateau. Also, a part of the Gautala Wildlife Sanctuary, this primordial landscape provides a fitting background to one of the finest collections of paintings from India's antiquity. Accorded UNESCO World Heritage site status in 1983 CE, the ancient name of the site is untraceable today. Its current name is derived from a neighbouring village, the local pronunciation of which is Ajintha.

The period of excavation (used as synonymous to the carving of the caves) can be divided into two broad phases. The earliest caves, belonging to the Hinayana phase of Buddhism, can be roughly traced back to the 2nd century BCE, with its period of activity continuing to around the 1st century CE during the rule of Satavahana Dynasty (2nd century BCE – 2nd century CE). The later phase of activities, between 5th and 6th century CE, largely took place under the patronage of the Vakataka dynasty (3rd century – 5th century CE).

The excavation and creation of the caves seem to have been a more community effort in the earlier phase. Group efforts contributed to the building of various parts of the caves, from the facades to single cells. Later, however, construction was marked by sponsorship from influential patrons and local feudatories.

**SubQuestion No : 24**

**Q.24** The given passage mainly talks about \_\_\_\_\_.

- Ans**
- 1. the Indhyadri range of Western Ghats
  - 2. creation of caves
  - 3. Ajanta caves and their period of excavation
  - 4. excavation of different caves in India

Question ID : 630680270420

Option 1 ID : 6306801050873

Option 2 ID : 6306801050870

Option 3 ID : 6306801050871

Option 4 ID : 6306801050872

Status : **Not Answered**

Chosen Option : --

**Comprehension:**

Read the following information carefully and answer the given questions.

Approximately 67 miles (107 km) to the north of Aurangabad in the Indhyadri range of Western Ghats lie the caves of Ajanta. The 30 caves, famous for their early Buddhist temple architecture and many delicately drawn murals, are located in a 76 m high, horseshoe-shaped escarpment overlooking the Waghora (tiger) River. The river originates from a picturesque waterfall called sat kund (seven leaps) just off the last cave. It serves as a potent reminder of the natural forces that over untold eons have shaped the basaltic layers of the Deccan plateau. Also, a part of the Gautala Wildlife Sanctuary, this primordial landscape provides a fitting background to one of the finest collections of paintings from India's antiquity. Accorded UNESCO World Heritage site status in 1983 CE, the ancient name of the site is untraceable today. Its current name is derived from a neighbouring village, the local pronunciation of which is Ajintha.

The period of excavation (used as synonymous to the carving of the caves) can be divided into two broad phases. The earliest caves, belonging to the Hinayana phase of Buddhism, can be roughly traced back to the 2nd century BCE, with its period of activity continuing to around the 1st century CE during the rule of Satavahana Dynasty (2nd century BCE – 2nd century CE). The later phase of activities, between 5th and 6th century CE, largely took place under the patronage of the Vakataka dynasty (3rd century – 5th century CE).

The excavation and creation of the caves seem to have been a more community effort in the earlier phase. Group efforts contributed to the building of various parts of the caves, from the facades to single cells. Later, however, construction was marked by sponsorship from influential patrons and local feudatories.

**SubQuestion No : 25**

**Q.25** The current name of Ajanta caves is derived from a \_\_\_\_\_.

- Ans**
- 1. ruler's name
  - 2. Buddhist policy
  - 3. neighbouring village
  - 4. famous battle

Question ID : **630680270423**  
 Option 1 ID : **6306801050884**  
 Option 2 ID : **6306801050882**  
 Option 3 ID : **6306801050883**  
 Option 4 ID : **6306801050885**  
 Status : **Not Answered**

Chosen Option : --

Section : **General Hindi**

**Q.1** राजसभा का समास-विग्रह ज्ञात कीजिए।

- Ans**
- 1. सभा का राज
  - 2. सभा की राजता
  - 3. राजा है जो सभा
  - 4. राजा की सभा

Question ID : **630680270441**  
 Option 1 ID : **6306801050954**  
 Option 2 ID : **6306801050956**  
 Option 3 ID : **6306801050955**  
 Option 4 ID : **6306801050957**  
 Status : **Answered**

Chosen Option : **4**

Q.2 दिए गए शब्द के अनेकार्थी शब्द ज्ञात कीजिए।

तंत्र

- Ans  1. तारा  
 2. उपासना  
 3. बाण  
 4. विचार

Question ID : 630680270429  
Option 1 ID : 6306801050907  
Option 2 ID : 6306801050906  
Option 3 ID : 6306801050909  
Option 4 ID : 6306801050908  
Status : Answered  
Chosen Option : 1

Q.3 दिए गए वाक्यांश के लिए सार्थक शब्द ज्ञात कीजिए।

किसी भाषा की विचारधारा को दूसरे भाषा में व्यक्त करना।

- Ans  1. अनिकेत  
 2. अनादि  
 3. अनुयायी  
 4. अनुवाद

Question ID : 630680270437  
Option 1 ID : 6306801050941  
Option 2 ID : 6306801050939  
Option 3 ID : 6306801050940  
Option 4 ID : 6306801050938  
Status : Answered  
Chosen Option : 4

Q.4 दिए गए शब्द युग्म का अर्थ ज्ञात कीजिए।

इत्र – इतर

- Ans  1. दुर्गंध और दूसरा  
 2. सुगंध और बिखरना  
 3. सुगंध और गीला  
 4. सुगंध और दूसरा

Question ID : 630680270431  
Option 1 ID : 6306801050914  
Option 2 ID : 6306801050915  
Option 3 ID : 6306801050917  
Option 4 ID : 6306801050916  
Status : Answered  
Chosen Option : 4

Q.5 दिए गए शब्द का पर्यायवाची ज्ञात कीजिए।

कुसुम

- Ans  1. पुष्प  
 2. वृक्ष  
 3. अनोखा  
 4. मलिन

Question ID : 630680270426

Option 1 ID : 6306801050894

Option 2 ID : 6306801050896

Option 3 ID : 6306801050897

Option 4 ID : 6306801050895

Status : Answered

Chosen Option : 1

Q.6 दिए गए शब्द का प्रयुक्त संधि-विच्छेद ज्ञात कीजिए।

सयुक्त

- Ans  1. सयुं + क्त  
 2. सयु + अकंत  
 3. सय + उक्त  
 4. सम् + युक्त

Question ID : 630680270444

Option 1 ID : 6306801050966

Option 2 ID : 6306801050967

Option 3 ID : 6306801050968

Option 4 ID : 6306801050968

Status : Answered

Chosen Option : 4

Q.7 विद्याधन' का समास-विग्रह ज्ञात कीजिए।

- Ans  1. विद्या जैसी धन  
 2. विद्या रूपी धन  
 3. विद्या है जो धन  
 4. विद्या से धन

Question ID : 630680270440

Option 1 ID : 6306801050950

Option 2 ID : 6306801050951

Option 3 ID : 6306801050952

Option 4 ID : 6306801050953

Status : Answered

Chosen Option : 2



Q.8 दिए गए शब्द का विलोम शब्द ज्ञात कीजिए।

उत्थान

- Ans  1. पतन  
 2. धरती  
 3. प्रगति  
 4. प्राचीन

Question ID : 630680270428

Option 1 ID : 6306801050903

Option 2 ID : 6306801050904

Option 3 ID : 6306801050905

Option 4 ID : 6306801050902

Status : Answered

Chosen Option : 1

Q.9 दिए गए शब्द का उपसर्ग ज्ञात कीजिए।

अभियान

- Ans  1. अभिय  
 2. अभि  
 3. अभ  
 4. अइ

Question ID : 630680270438

Option 1 ID : 6306801050942

Option 2 ID : 6306801050944

Option 3 ID : 6306801050943

Option 4 ID : 6306801050945

Status : Answered

Chosen Option : 2

Q.10 दिए गए शब्द का विलोम शब्द ज्ञात कीजिए।

उजाला

- Ans  1. रात  
 2. अंधकार  
 3. प्रकाश  
 4. छवि

Question ID : 630680270427

Option 1 ID : 6306801050900

Option 2 ID : 6306801050898

Option 3 ID : 6306801050899

Option 4 ID : 6306801050901

Status : Answered

Chosen Option : 3

Q.11 दिए गए शब्द का प्रयुक्त संधि-विच्छेद ज्ञात कीजिए।

दिग्गज

- Ans
- 1. दिग् + अज
  - 2. दिग् + कज
  - 3. दिग् + आज
  - 4. दिक् + गज

Question ID : 630680270443

Option 1 ID : 6306801050963

Option 2 ID : 6306801050962

Option 3 ID : 6306801050965

Option 4 ID : 6306801050964

Status : Answered

Chosen Option : 4

Q.12 दिए गए वाक्य में उचित लोकोक्ति का चयन करके रिक्त स्थान की पूर्ति कीजिए।

चोर की \_\_\_\_\_ में तिनका

- Ans
- 1. नाखून
  - 2. आँख
  - 3. हाथ
  - 4. दाढ़ी

Question ID : 630680270434

Option 1 ID : 6306801050929

Option 2 ID : 6306801050927

Option 3 ID : 6306801050926

Option 4 ID : 6306801050928

Status : Answered

Chosen Option : 4

Q.13 दिए गए शब्द का प्रत्यय ज्ञात कीजिए।

अक्लमंद

- Ans
- 1. अकल
  - 2. मंद
  - 3. लमंद
  - 4. कलमंद

Question ID : 630680270439

Option 1 ID : 6306801050948

Option 2 ID : 6306801050946

Option 3 ID : 6306801050949

Option 4 ID : 6306801050947

Status : Answered

Chosen Option : 2

Q.14 दिए गए शब्द युग्म का अर्थ ज्ञात कीजिए।

पवन – पावन

- Ans
- 1. प्रान्त और पोत
  - 2. कपड़ा और पवित्र
  - 3. हवा और पवित्र
  - 4. हवा और अपवित्र

Question ID : 630680270432

Option 1 ID : 6306801050921

Option 2 ID : 6306801050920

Option 3 ID : 6306801050919

Option 4 ID : 6306801050918

Status : Answered

Chosen Option : 3

Q.15 दिए गए शब्द के अनेकार्थी शब्द ज्ञात कीजिए।

कोटी

- Ans
- 1. लाख
  - 2. बाधा
  - 3. हजार
  - 4. श्रेणी

Question ID : 630680270430

Option 1 ID : 6306801050911

Option 2 ID : 6306801050912

Option 3 ID : 6306801050910

Option 4 ID : 6306801050913

Status : Answered

Chosen Option : 1

Q.16 दिए गए शब्द का पर्यायवाची ज्ञात कीजिए।

सरोवर

- Ans
- 1. पाताल
  - 2. प्रभाकर
  - 3. तालाब
  - 4. पर्वत

Question ID : 630680270425

Option 1 ID : 6306801050893

Option 2 ID : 6306801050892

Option 3 ID : 6306801050890

Option 4 ID : 6306801050891

Status : Answered

Chosen Option : 3

Q.17 निम्नलिखित प्रश्न में, दिए गए चार विकल्पों में से, उस विकल्प का चयन करें जो दिए गए मुहावरे के अर्थ को सर्वश्रेष्ठ रूप से व्यक्त करता है।

फटे हाल होना

- Ans  1. हार जाना  
 2. कपड़े गंदे होना  
 3. गरीब होना  
 4. बुरी तरह थकना

Question ID : 630680270433

Option 1 ID : 6306801050925

Option 2 ID : 6306801050924

Option 3 ID : 6306801050923

Option 4 ID : 6306801050922

Status : Answered

Chosen Option : 4

Q.18 दिए गए शब्द का प्रयुक्त संधि-विच्छेद ज्ञात कीजिए।

तिरस्कार

- Ans  1. तिर: + साकार  
 2. तिर: + आकार  
 3. तिर: + कार  
 4. तिरस: + कार

Question ID : 630680270442

Option 1 ID : 6306801050959

Option 2 ID : 6306801050961

Option 3 ID : 6306801050960

Option 4 ID : 6306801050958

Status : Answered

Chosen Option : 2

Q.19 दिए गए वाक्य में उचित लोकोक्ति का चयन करके रिक्त स्थान की पूर्ति कीजिए।

परशुराम का कोप का अर्थ \_\_\_\_\_ होता है।

- Ans  1. लोभ में पड़ना  
 2. शांत  
 3. अधिक प्रेम  
 4. अत्यधिक क्रोध

Question ID : 630680270435

Option 1 ID : 6306801050932

Option 2 ID : 6306801050933

Option 3 ID : 6306801050931

Option 4 ID : 6306801050930

Status : Answered

Chosen Option : 4

Q.20 दिए गए वाक्यांश के लिए सार्थक शब्द ज्ञात कीजिए।

जो समतल न हो।

- Ans  1. अपेय  
 2. असम  
 3. अमर  
 4. अनुपम

Question ID : 630680270436  
Option 1 ID : 6306801050937  
Option 2 ID : 6306801050934  
Option 3 ID : 6306801050936  
Option 4 ID : 6306801050935  
Status : Answered  
Chosen Option : 2

**Comprehension:**

निम्नलिखित गद्यांश को ध्यानपूर्वक पढ़िए और दिए गए प्रश्न के उत्तर दीजिए।

भारत विभिन्न संस्कृतियों, नस्लों, भाषाओं और धर्मों का देश है। ये "विविधता में एकता" की भूमि है, जहाँ अलग-अलग जीवन-शैली और तरीकों के लोग एक साथ रहते हैं। इन भिन्नताओं के बावजूद भी वे सब भाईचारे और मानवता के संबंध के साथ रहते हैं। यही भारत की एक अलग विशेषता है, जो इसे पूरे विश्व भर में प्रसिद्ध करती है। आमतौर पर, अपनाने और उदार होने की महान प्राचीन भारतीय संस्कृति का अनुसरण भारत के लोग करते हैं, जो स्वाभाव में उन्हें समाविष्ट बनाती है।

अपने रीति-रिवाज और विश्वास का अनुसरण करने के द्वारा सभी धर्मों के लोग अलग तरीकों से पूजा-पाठ करते हैं, जो बुनियादी एकरूपता के अस्तित्व को प्रदर्शित करता है। एकता का भाव विभिन्न असमानताओं की सोच से परे लोगों के बीच भाईचारे और समरसता की भावना को बढ़ावा देता है।

भारत अपनी समृद्ध सांस्कृतिक विरासत के लिए प्रसिद्ध है, जो कि विभिन्न धर्मों के लोगों के कारण है। अपने हित और विश्वास के आधार पर विभिन्न जीवन-शैलियों को अलग-अलग संस्कृति के लोग बढ़ावा देते हैं। फिर ये विभिन्न पेशेवर क्षेत्रों में जैसे संगीत, कला, नाटक, नृत्य (शास्त्रीय, फोक आदि), नाट्यशाला, मूर्तिकला आदि में वृद्धि को बढ़ावा देते हैं। लोगों की आध्यात्मिक परंपरा उन्हें एक-दूसरे के लिये अधिक धर्माभिष्ट बनाती है। सभी भारतीय धार्मिक लेख लोगों की आध्यात्मिक समझ का महान साधन है। इतना ही नहीं, यहाँ अलग-अलग धर्मों और क्षेत्रों के लोगों द्वारा अलग-अलग बोलियाँ और भाषाएँ बोली जाती हैं, जैसे- उड़िया, पंजाबी, मराठी, गुजराती, बंगाली, उर्दू, कन्नड़, मलयालम आदि। लेकिन फिर भी भारत की राजभाषा हिन्दी है, हालाँकि भारत के केवल उत्तरी क्षेत्रों के कुछ भागों की ही मातृभाषा हिन्दी है। लेकिन इतनी विविधता होने के बाद भी भारत के लोग हिन्दी को स्वेच्छा से गर्व के साथ राजभाषा के रूप में स्वीकारते हैं।

एक भारतीय होने के नाते, हम सभी को अपनी जिम्मेदारी समझनी चाहिये और किसी भी कीमत पर इसकी अनोखी विशेषता को कायम रखने की कोशिश करनी चाहिए।

**SubQuestion No : 21**

Q.21 भारत की एक अलग विशेषता क्या है?

- Ans  1. भाईचारे और मानवता के संबंध के साथ रहना  
 2. भाईचारे और मानवता के संबंध के साथ ना रहना  
 3. लड़ाई झगड़ें करना  
 4. यहाँ की भीड़

Question ID : 630680270449  
Option 1 ID : 6306801050984  
Option 2 ID : 6306801050982  
Option 3 ID : 6306801050983  
Option 4 ID : 6306801050985  
Status : Answered  
Chosen Option : 1

**Comprehension:**

निम्नलिखित गद्यांश को ध्यानपूर्वक पढ़िए और दिए गए प्रश्न के उत्तर दीजिए।

भारत विभिन्न संस्कृतियों, नस्लों, भाषाओं और धर्मों का देश है। ये "विविधता में एकता" की भूमि है, जहाँ अलग-अलग जीवन-शैली और तरीकों के लोग एक साथ रहते हैं। इन भिन्नताओं के बावजूद भी वे सब भाईचारे और मानवता के संबंध के साथ रहते हैं। यही भारत की एक अलग विशेषता है, जो इसे पूरे विश्व भर में प्रसिद्ध करती है। आमतौर पर, अपनाते और उदार होने की महान प्राचीन भारतीय संस्कृति का अनुसरण भारत के लोग करते हैं, जो स्वाभाव में उन्हें समाविष्टक बनाती है।

अपने रीति-रिवाज़ और विश्वास का अनुसरण करने के द्वारा सभी धर्मों के लोग अलग तरीकों से पूजा-पाठ करते हैं, जो बुनियादी एकरूपता के अस्तित्व को प्रदर्शित करता है। एकता का भाव विभिन्न असमानताओं की सोच से परे लोगों के बीच भाईचारे और समरसता की भावना को बढ़ावा देता है।

भारत अपनी समृद्ध सांस्कृतिक विरासत के लिए प्रसिद्ध है, जो कि विभिन्न धर्मों के लोगों के कारण है। अपने हित और विश्वास के आधार पर विभिन्न जीवन-शैलियों को अलग-अलग संस्कृति के लोग बढ़ावा देते हैं। फिर ये विभिन्न पेशेवर क्षेत्रों में जैसे संगीत, कला, नाटक, नृत्य (शास्त्रीय, फोक आदि), नाट्यशाला, मूर्तिकला आदि में वृद्धि को बढ़ावा देते हैं। लोगों की आध्यात्मिक परंपरा उन्हें एक-दूसरे के लिये अधिक धर्मनिष्ठ बनाती है। सभी भारतीय धार्मिक लेख लोगों की आध्यात्मिक समझ का महान साधन है। इतना ही नहीं, यहाँ अलग-अलग धर्मों और क्षेत्रों के लोगों द्वारा अलग-अलग बोलियाँ और भाषाएँ बोली जाती हैं, जैसे- उड़िया, पंजाबी, मराठी, गुजराती, बंगाली, उर्दू, कन्नड़, मलयालम आदि। लेकिन फिर भी भारत की राजभाषा हिन्दी है, हालाँकि भारत के केवल उत्तरी क्षेत्रों के कुछ भागों की ही मातृभाषा हिन्दी है। लेकिन इतनी विविधता होने के बाद भी भारत के लोग हिन्दी को स्वेच्छा से गर्व के साथ राजभाषा के रूप में स्वीकारते हैं।

एक भारतीय होने के नाते, हम सभी को अपनी जिम्मेदारी समझनी चाहिये और किसी भी कीमत पर इसकी अनोखी विशेषता को कायम रखने की कोशिश करनी चाहिए।

**SubQuestion No : 22**

**Q.22** भारत किस लिए सबसे अधिक प्रसिद्ध है?

- Ans**
- 1. महान पुरुषों के लिए
  - 2. मूर्तिकला के लिए
  - 3. वस्त्रों के लिए
  - 4. समृद्ध सांस्कृतिक विरासत के लिए

Question ID : 630680270447

Option 1 ID : 6306801050976

Option 2 ID : 6306801050975

Option 3 ID : 6306801050974

Option 4 ID : 6306801050977

Status : Answered

Chosen Option : 4

**Comprehension:**

निम्नलिखित गद्यांश को ध्यानपूर्वक पढ़िए और दिए गए प्रश्न के उत्तर दीजिए।

भारत विभिन्न संस्कृतियों, नस्लों, भाषाओं और धर्मों का देश है। ये "विविधता में एकता" की भूमि है, जहाँ अलग-अलग जीवन-शैली और तरीकों के लोग एक साथ रहते हैं। इन भिन्नताओं के बावजूद भी वे सब भाईचारे और मानवता के संबंध के साथ रहते हैं। यही भारत की एक अलग विशेषता है, जो इसे पूरे विश्व भर में प्रसिद्ध करती है। आमतौर पर, अपनाने और उदार होने की महान प्राचीन भारतीय संस्कृति का अनुसरण भारत के लोग करते हैं, जो स्वाभाव में उन्हें समाविष्ट बनाती है।

अपने रीति-रिवाज और विश्वास का अनुसरण करने के द्वारा सभी धर्मों के लोग अलग तरीकों से पूजा-पाठ करते हैं, जो बुनियादी एकरूपता के अस्तित्व को प्रदर्शित करता है। एकता का भाव विभिन्न असमानताओं की सोच से परे लोगों के बीच भाईचारे और समरसता की भावना को बढ़ावा देता है।

भारत अपनी समृद्ध सांस्कृतिक विरासत के लिए प्रसिद्ध है, जो कि विभिन्न धर्मों के लोगों के कारण है। अपने हित और विश्वास के आधार पर विभिन्न जीवन-शैलियों को अलग-अलग संस्कृति के लोग बढ़ावा देते हैं। फिर ये विभिन्न पेशेवर क्षेत्रों में जैसे संगीत, कला, नाटक, नृत्य (शास्त्रीय, फोक आदि), नाट्यशाला, मूर्तिकला आदि में वृद्धि को बढ़ावा देते हैं। लोगों की आध्यात्मिक परंपरा उन्हें एक-दूसरे के लिये अधिक धर्मनिष्ठ बनाती है। सभी भारतीय धार्मिक लेख लोगों की आध्यात्मिक समझ का महान साधन है। इतना ही नहीं, यहाँ अलग-अलग धर्मों और क्षेत्रों के लोगों द्वारा अलग-अलग बोलियाँ और भाषाएँ बोली जाती हैं, जैसे- उड़िया, पंजाबी, मराठी, गुजराती, बंगाली, उर्दू, कन्नड़, मलयालम आदि। लेकिन फिर भी भारत की राजभाषा हिन्दी है, हालाँकि भारत के केवल उत्तरी क्षेत्रों के कुछ भागों की ही मातृभाषा हिन्दी है। लेकिन इतनी विविधता होने के बाद भी भारत के लोग हिन्दी को स्वेच्छा से गर्व के साथ राजभाषा के रूप में स्वीकारते हैं।

एक भारतीय होने के नाते, हम सभी को अपनी जिम्मेदारी समझनी चाहिये और किसी भी कीमत पर इसकी अनोखी विशेषता को कायम रखने की कोशिश करनी चाहिए।

**SubQuestion No : 23**

**Q.23** दिए गए अपठित गद्यांश का उपयुक्त शीर्षक क्या होगा?

- Ans**
- 1. देश की राजभाषा
  - 2. कला संस्कृति
  - 3. भारत की विविधता में एकता
  - 4. अनोखी विशेषता

Question ID : 630680270446

Option 1 ID : 6306801050971

Option 2 ID : 6306801050973

Option 3 ID : 6306801050972

Option 4 ID : 6306801050970

Status : Answered

Chosen Option : 3

**Comprehension:**

निम्नलिखित गद्यांश को ध्यानपूर्वक पढ़िए और दिए गए प्रश्न के उत्तर दीजिए।

भारत विभिन्न संस्कृतियों, नस्लों, भाषाओं और धर्मों का देश है। ये "विविधता में एकता" की भूमि है, जहाँ अलग-अलग जीवन-शैली और तरीकों के लोग एक साथ रहते हैं। इन भिन्नताओं के बावजूद भी वे सब भाईचारे और मानवता के संबंध के साथ रहते हैं। यही भारत की एक अलग विशेषता है, जो इसे पूरे विश्व भर में प्रसिद्ध करती है। आमतौर पर, अपनाते और उदार होने की महान प्राचीन भारतीय संस्कृति का अनुसरण भारत के लोग करते हैं, जो स्वाभाव में उन्हें समाविष्टक बनाती है।

अपने रीति-रिवाज़ और विश्वास का अनुसरण करने के द्वारा सभी धर्मों के लोग अलग तरीकों से पूजा-पाठ करते हैं, जो बुनियादी एकरूपता के अस्तित्व को प्रदर्शित करता है। एकता का भाव विभिन्न असमानताओं की सोच से परे लोगों के बीच भाईचारे और समरसता की भावना को बढ़ावा देता है।

भारत अपनी समृद्ध सांस्कृतिक विरासत के लिए प्रसिद्ध है, जो कि विभिन्न धर्मों के लोगों के कारण है। अपने हित और विश्वास के आधार पर विभिन्न जीवन-शैलियों को अलग-अलग संस्कृति के लोग बढ़ावा देते हैं। फिर ये विभिन्न पेशेवर क्षेत्रों में जैसे संगीत, कला, नाटक, नृत्य (शास्त्रीय, फोक आदि), नाट्यशाला, मूर्तिकला आदि में वृद्धि को बढ़ावा देते हैं। लोगों की आध्यात्मिक परंपरा उन्हें एक-दूसरे के लिये अधिक धर्मनिष्ठ बनाती है। सभी भारतीय धार्मिक लेख लोगों की आध्यात्मिक समझ का महान साधन है। इतना ही नहीं, यहाँ अलग-अलग धर्मों और क्षेत्रों के लोगों द्वारा अलग-अलग बोलियाँ और भाषाएँ बोली जाती हैं, जैसे- उड़िया, पंजाबी, मराठी, गुजराती, बंगाली, उर्दू, कन्नड़, मलयालम आदि। लेकिन फिर भी भारत की राजभाषा हिन्दी है, हालाँकि भारत के केवल उत्तरी क्षेत्रों के कुछ भागों की ही मातृभाषा हिन्दी है। लेकिन इतनी विविधता होने के बाद भी भारत के लोग हिन्दी को स्वेच्छा से गर्व के साथ राजभाषा के रूप में स्वीकारते हैं।

एक भारतीय होने के नाते, हम सभी को अपनी जिम्मेदारी समझनी चाहिये और किसी भी कीमत पर इसकी अनोखी विशेषता को कायम रखने की कोशिश करनी चाहिए।

**SubQuestion No : 24**

**Q.24** भारत की राजभाषा क्या है?

- Ans**
- 1. अवधि
  - 2. पंजाबी
  - 3. हिंदी
  - 4. मराठी

Question ID : 630680270448

Option 1 ID : 6306801050978

Option 2 ID : 6306801050981

Option 3 ID : 6306801050979

Option 4 ID : 6306801050980

Status : Answered

Chosen Option : 3



**Comprehension:**

निम्नलिखित गद्यांश को ध्यानपूर्वक पढ़िए और दिए गए प्रश्न के उत्तर दीजिए।

भारत विभिन्न संस्कृतियों, नस्लों, भाषाओं और धर्मों का देश है। ये "विविधता में एकता" की भूमि है, जहाँ अलग-अलग जीवन-शैली और तरीकों के लोग एक साथ रहते हैं। इन भिन्नताओं के बावजूद भी वे सब भाईचारे और मानवता के संबंध के साथ रहते हैं। यही भारत की एक अलग विशेषता है, जो इसे पूरे विश्व भर में प्रसिद्ध करती है। आमतौर पर, अपनाने और उदार होने की महान प्राचीन भारतीय संस्कृति का अनुसरण भारत के लोग करते हैं, जो स्वाभाव में उन्हें समाविष्ट बनाती है।

अपने रीति-रिवाज और विश्वास का अनुसरण करने के द्वारा सभी धर्मों के लोग अलग तरीकों से पूजा-पाठ करते हैं, जो बुनियादी एकरूपता के अस्तित्व को प्रदर्शित करता है। एकता का भाव विभिन्न असमानताओं की सोच से परे लोगों के बीच भाईचारे और समरसता की भावना को बढ़ावा देता है।

भारत अपनी समृद्ध सांस्कृतिक विरासत के लिए प्रसिद्ध है, जो कि विभिन्न धर्मों के लोगों के कारण है। अपने हित और विश्वास के आधार पर विभिन्न जीवन-शैलियों को अलग-अलग संस्कृति के लोग बढ़ावा देते हैं। फिर ये विभिन्न पेशेवर क्षेत्रों में जैसे संगीत, कला, नाटक, नृत्य (शास्त्रीय, फोक आदि), नाट्यशाला, मूर्तिकला आदि में वृद्धि को बढ़ावा देते हैं। लोगों की आध्यात्मिक परंपरा उन्हें एक-दूसरे के लिये अधिक धर्मनिष्ठ बनाती है। सभी भारतीय धार्मिक लेख लोगों की आध्यात्मिक समझ का महान साधन है। इतना ही नहीं, यहाँ अलग-अलग धर्मों और क्षेत्रों के लोगों द्वारा अलग-अलग बोलियाँ और भाषाएँ बोली जाती हैं, जैसे- उड़िया, पंजाबी, मराठी, गुजराती, बंगाली, उर्दू, कन्नड़, मलयालम आदि। लेकिन फिर भी भारत की राजभाषा हिन्दी है, हालाँकि भारत के केवल उत्तरी क्षेत्रों के कुछ भागों की ही मातृभाषा हिन्दी है। लेकिन इतनी विविधता होने के बाद भी भारत के लोग हिन्दी को स्वेच्छा से गर्व के साथ राजभाषा के रूप में स्वीकारते हैं।

एक भारतीय होने के नाते, हम सभी को अपनी जिम्मेदारी समझनी चाहिये और किसी भी कीमत पर इसकी अनोखी विशेषता को कायम रखने की कोशिश करनी चाहिए।

**SubQuestion No : 25**

Q.25 'प्रसिद्धि' शब्द का सही पर्यायवाची शब्द बताएं।

- Ans
- 1. उक्त
  - 2. विदित
  - 3. अन्वेषणा
  - 4. कीर्ति

Question ID : 630680270450

Option 1 ID : 6306801050987

Option 2 ID : 6306801050989

Option 3 ID : 6306801050986

Option 4 ID : 6306801050988

Status : Answered

Chosen Option : 4