

# National Testing Agency

<b>Question Paper Name :</b>	15 Population Studies 14th DEC 2023 Shift 2
<b>Subject Name :</b>	15 Population Studies
<b>Creation Date :</b>	2023-12-14 21:34:14
<b>Duration :</b>	180
<b>Total Marks :</b>	300
<b>Display Marks:</b>	Yes

## Population Studies and General Paper

<b>Group Number :</b>	1
<b>Group Id :</b>	878270483
<b>Group Maximum Duration :</b>	0
<b>Group Minimum Duration :</b>	180
<b>Show Attended Group? :</b>	No
<b>Edit Attended Group? :</b>	No
<b>Break time :</b>	0
<b>Group Marks :</b>	300
<b>Is this Group for Examiner? :</b>	No
<b>Examiner permission :</b>	Cant View
<b>Show Progress Bar? :</b>	No

## General Paper

<b>Section Id :</b>	878270924
<b>Section Number :</b>	1

<b>Section type :</b>	Online
<b>Mandatory or Optional :</b>	Mandatory
<b>Number of Questions :</b>	42
<b>Number of Questions to be attempted :</b>	42
<b>Section Marks :</b>	100
<b>Enable Mark as Answered Mark for Review and Clear Response :</b>	Yes
<b>Maximum Instruction Time :</b>	0
<b>Sub-Section Number :</b>	1
<b>Sub-Section Id :</b>	8782701665
<b>Question Shuffling Allowed :</b>	Yes
<b>Is Section Default? :</b>	null

**Question Id : 87827039669 Question Type : COMPREHENSION Sub Question Shuffling Allowed : Yes Group Comprehension Questions : No Question Pattern Type : NonMatrix Calculator : None Response Time : N.A Think Time : N.A Minimum Instruction Time : 0**

**Question Numbers : (1 to 5)**

Question Label : Comprehension

The following table shows the percentage of marks obtained by six different students in six different subjects A-F of MCA programme in a University, alongwith the maximum marks in each subject (shown in brackets). Based on the data in the table, answer the questions that follow.

**Student-wise Percentage of Marks in Six Subjects**

Students	Subjects (Maximum Marks)					
	A (150)	B (100)	C (150)	D (125)	E (75)	F (50)
Anil	66%	75%	88%	56%	56%	90%
Arman	82%	76%	84%	96%	92%	88%
Arpit	76%	66%	78%	88%	72%	70%
Gaurav	90%	88%	96%	76%	84%	86%
Gurjit	64%	70%	68%	72%	68%	74%
Priya	48%	56%	50%	64%	64%	58%

**Sub questions**

**Question Number : 1 Question Id : 87827039670 Question Type : MCQ Option Shuffling : No Is Question Mandatory : No Calculator : None Response Time : N.A Think Time : N.A Minimum Instruction Time : 0**

**Correct Marks : 2 Wrong Marks : 0**

How many marks did Anil get in all the six subjects together ?

- (1) 369
- (2) 463
- (3) 558
- (4) 496

**Options :**

- 878270155841. 1
- 878270155842. 2
- 878270155843. 3
- 878270155844. 4

**Question Number : 2 Question Id : 87827039671 Question Type : MCQ Option Shuffling : No Is Question Mandatory : No Calculator : None Response Time : N.A Think Time : N.A Minimum Instruction Time : 0**

**Correct Marks : 2 Wrong Marks : 0**

Total marks obtained in all the six subjects together is more than 490 by exactly \_\_\_\_\_ students.

- (1) two
- (2) three
- (3) four
- (4) five

**Options :**

- 878270155845. 1
- 878270155846. 2
- 878270155847. 3
- 878270155848. 4

**Question Number : 3 Question Id : 87827039672 Question Type : MCQ Option Shuffling : No Is Question Mandatory : No Calculator : None Response Time : N.A Think Time : N.A Minimum Instruction Time : 0**

**Correct Marks : 2 Wrong Marks : 0**

If M and N represent the average marks obtained by all the six students together in subjects C and E, respectively, then  $(M, N) = \underline{\hspace{2cm}}$ .

- (1) (112, 56.5)
- (2) (114, 55)
- (3) (115, 56)
- (4) (116, 54.5)

**Options :**

878270155849. 1

878270155850. 2

878270155851. 3

878270155852. 4

**Question Number : 4 Question Id : 87827039673 Question Type : MCQ Option Shuffling : No Is**

**Question Mandatory : No Calculator : None Response Time : N.A Think Time : N.A Minimum**

**Instruction Time : 0**

**Correct Marks : 2 Wrong Marks : 0**

Marks obtained by Gaurav are  $\underline{\hspace{2cm}}$  % more than that of Gurjit in all the six subjects together. (rounded off to two digits after decimal)

- (1) 27.35
- (2) 24.52
- (3) 29.45
- (4) 28.15

**Options :**

878270155853. 1

878270155854. 2

878270155855. 3

878270155856. 4

**Question Number : 5 Question Id : 87827039674 Question Type : MCQ Option Shuffling : No Is**

**Question Mandatory : No Calculator : None Response Time : N.A Think Time : N.A Minimum**

**Instruction Time : 0**

**Correct Marks : 2 Wrong Marks : 0**

What is the different between the average marks obtained in subjects A and E by all the six students together ?

- (1) 48
- (2) 50
- (3) 52
- (4) 54

**Options :**

878270155857. 1

878270155858. 2

878270155859. 3

878270155860. 4

**Question Id : 87827039669 Question Type : COMPREHENSION Sub Question Shuffling Allowed : Yes Group Comprehension Questions : No Question Pattern Type : NonMatrix Calculator : None Response Time : N.A Think Time : N.A Minimum Instruction Time : 0**

**Question Numbers : (1 to 5)**

Question Label : Comprehension

निम्नलिखित तालिका में किसी विश्वविद्यालय के एम सी ए कार्यक्रम के छह विभिन्न विषयों A-F के छह विभिन्न विद्यार्थियों द्वारा प्राप्त अंकों का प्रतिशत प्रदर्शित है तथा प्रत्येक विषय के अधिकतम अंक उसके साथ दिया गया है (कोष्ठक में प्रदर्शित)। तालिका के आँकड़ों के आधार पर उससे संबंधित प्रश्नों के उत्तर दीजिए।

छह विषयों में अंकों का विद्यार्थी-वार प्रतिशत

विद्यार्थी	विषय ( अधिकतम अंक )					
	A (150)	B (100)	C (150)	D (125)	E (75)	F (50)
अनिल	66%	75%	88%	56%	56%	90%
अरमान	82%	76%	84%	96%	92%	88%
अर्पित	76%	66%	78%	88%	72%	70%
गौरव	90%	88%	96%	76%	84%	86%
गुरजीत	64%	70%	68%	72%	68%	74%
प्रिया	48%	56%	50%	64%	64%	58%

**Sub questions**

**Question Number : 1 Question Id : 87827039670 Question Type : MCQ Option Shuffling : No Is Question Mandatory : No Calculator : None Response Time : N.A Think Time : N.A Minimum Instruction Time : 0**

**Correct Marks : 2 Wrong Marks : 0**

सभी छह विषयों को एक साथ मिलाकर अनिल को कितने अंक मिले ?

- (1) 369
- (2) 463
- (3) 558
- (4) 496

**Options :**

- 878270155841. 1
- 878270155842. 2
- 878270155843. 3
- 878270155844. 4

**Question Number : 2 Question Id : 87827039671 Question Type : MCQ Option Shuffling : No Is Question Mandatory : No Calculator : None Response Time : N.A Think Time : N.A Minimum Instruction Time : 0**

**Correct Marks : 2 Wrong Marks : 0**

सभी छह विषयों में प्राप्त किये गये अंकों को एक साथ मिलाकर ठीक कितने विद्यार्थियों को 490 से अधिक अंक मिले हैं ?

- (1) दो
- (2) तीन
- (3) चार
- (4) पाँच

**Options :**

- 878270155845. 1
- 878270155846. 2
- 878270155847. 3
- 878270155848. 4

**Question Number : 3 Question Id : 87827039672 Question Type : MCQ Option Shuffling : No Is Question Mandatory : No Calculator : None Response Time : N.A Think Time : N.A Minimum Instruction Time : 0**

**Correct Marks : 2 Wrong Marks : 0**

यदि M और N, क्रमशः C और E, विषयों में सभी छह विद्यार्थियों द्वारा एक साथ मिलाकर प्राप्त किये गये अंकों के औसत को प्रस्तुत करते हैं तो  $(M, N) =$  \_\_\_\_\_।

- (1) (112, 56.5)
- (2) (114, 55)
- (3) (115, 56)
- (4) (116, 54.5)

**Options :**

878270155849. 1  
878270155850. 2  
878270155851. 3  
878270155852. 4

**Question Number : 4 Question Id : 87827039673 Question Type : MCQ Option Shuffling : No Is Question Mandatory : No Calculator : None Response Time : N.A Think Time : N.A Minimum Instruction Time : 0**

**Correct Marks : 2 Wrong Marks : 0**

सभी छह विषयों को एक साथ मिलाकर गौरव द्वारा प्राप्त अंक गुरजीत द्वारा प्राप्त अंकों की तुलना में \_\_\_\_\_ % अधिक हैं। (दशमलव के पश्चात दो अंकों को पूर्ण किया गया है)

- (1) 27.35
- (2) 24.52
- (3) 29.45
- (4) 28.15

**Options :**

878270155853. 1  
878270155854. 2  
878270155855. 3  
878270155856. 4

**Question Number : 5 Question Id : 87827039674 Question Type : MCQ Option Shuffling : No Is Question Mandatory : No Calculator : None Response Time : N.A Think Time : N.A Minimum Instruction Time : 0**

**Correct Marks : 2 Wrong Marks : 0**

सभी छह विद्यार्थियों को एक साथ मिलाकर A और E विषयों में प्राप्त अंकों के औसत के मध्य अंतर कितना है?

- (1) 48
- (2) 50
- (3) 52
- (4) 54

**Options :**

- 878270155857. 1
- 878270155858. 2
- 878270155859. 3
- 878270155860. 4

**Sub-Section Number :** 2  
**Sub-Section Id :** 8782701666  
**Question Shuffling Allowed :** Yes  
**Is Section Default? :** null

**Question Number : 6 Question Id : 87827039675 Question Type : MCQ Option Shuffling : No Is Question Mandatory : No Calculator : None Response Time : N.A Think Time : N.A Minimum Instruction Time : 0**

**Correct Marks : 2 Wrong Marks : 0**

Which one of the following types of assessments would be most beneficial for assessing a student's ability to debate ?

- (1) Formative Assessment
- (2) Summative Assessment
- (3) Ipsative Assessment
- (4) Performance Assessment

**Options :**

- 878270155861. 1
- 878270155862. 2



878270155863. 3

878270155864. 4

**Question Number : 6 Question Id : 87827039675 Question Type : MCQ Option Shuffling : No Is Question Mandatory : No Calculator : None Response Time : N.A Think Time : N.A Minimum Instruction Time : 0**

**Correct Marks : 2 Wrong Marks : 0**

मूल्यांकन का निम्नलिखित में से कौन सा प्रकार विद्यार्थियों की वाद-विवाद करने की योग्यता का मूल्यांकन करने के लिए सर्वाधिक लाभदायक है ?

- (1) रचनात्मक मूल्यांकन
- (2) संकलनात्मक मूल्यांकन
- (3) स्वमानक मूल्यांकन
- (4) निष्पादन मूल्यांकन

**Options :**

878270155861. 1

878270155862. 2

878270155863. 3

878270155864. 4

**Question Number : 7 Question Id : 87827039676 Question Type : MCQ Option Shuffling : No Is Question Mandatory : No Calculator : None Response Time : N.A Think Time : N.A Minimum Instruction Time : 0**

**Correct Marks : 2 Wrong Marks : 0**

Given below are two statements :

**Statement I :** Edmodo (online tool) helps teachers to stay in touch with parents, share updates and discuss student progress.

**Statement II :** Duolingo is a online language learning platform.

In the light of the above statements, choose the **most appropriate answer** from the options given below :

- (1) Both **Statement I** and **Statement II** are correct
- (2) Both **Statement I** and **Statement II** are incorrect
- (3) **Statement I** is correct but **Statement II** is incorrect
- (4) **Statement I** is incorrect but **Statement II** is correct

**Options :**

878270155865. 1

878270155866. 2

878270155867. 3

878270155868. 4

**Question Number : 7 Question Id : 87827039676 Question Type : MCQ Option Shuffling : No Is**

**Question Mandatory : No Calculator : None Response Time : N.A Think Time : N.A Minimum**

**Instruction Time : 0**

**Correct Marks : 2 Wrong Marks : 0**

नीचे दो कथन दिए गए हैं :

**कथन (I) :** एडमोडो (ऑनलाइन टूल) से शिक्षकों को विद्यार्थियों के माता-पिता के संपर्क में रहने, उनसे विद्यार्थियों की अद्यतन स्थिति साझा करने तथा विद्यार्थियों की प्रगति के विषय में चर्चा करने में सहायता मिलती है।

**कथन (II) :** डुओलिंगो ऑनलाइन भाषा अधिगम का एक मंच है।

उपरोक्त कथन के आलोक में, नीचे दिए गए विकल्पों में से **सही उत्तर** चयन कीजिए :

- (1) **कथन I** और **कथन II** दोनों सत्य है
- (2) **कथन I** और **कथन II** दोनों असत्य है
- (3) **कथन I** सत्य है, लेकिन **कथन II** असत्य है
- (4) **कथन I** असत्य है, लेकिन **कथन II** सत्य है

**Options :**

878270155865. 1

878270155866. 2

878270155867. 3

878270155868. 4

**Question Number : 8 Question Id : 87827039677 Question Type : MCQ Option Shuffling : No Is  
Question Mandatory : No Calculator : None Response Time : N.A Think Time : N.A Minimum  
Instruction Time : 0**

**Correct Marks : 2 Wrong Marks : 0**

In self-directed learning, metacognitive knowledge includes :

- (A) Contextual knowledge
- (B) Factual knowledge
- (C) Procedural knowledge
- (D) Technological knowledge
- (E) Practical knowledge

Choose the **correct** answer from the options given below :

- (1) (A), (D) and (E) Only
- (2) (C) and (D) Only
- (3) (A), (B) and (C) Only
- (4) (B) and (D) Only

**Options :**

878270155869. 1

878270155870. 2

878270155871. 3

878270155872. 4

**Question Number : 8 Question Id : 87827039677 Question Type : MCQ Option Shuffling : No Is  
Question Mandatory : No Calculator : None Response Time : N.A Think Time : N.A Minimum  
Instruction Time : 0**

**Correct Marks : 2 Wrong Marks : 0**

स्व-निर्देशित अधिगम में अधिसंज्ञानात्मक ज्ञान में सम्मिलित हैं :

- (A) संदर्भात्मक ज्ञान
- (B) तथ्यात्मक ज्ञान
- (C) प्रक्रियात्मक ज्ञान
- (D) प्रौद्योगिक ज्ञान
- (E) व्यवहारिक ज्ञान

नीचे दिए गए विकल्पों में से सही उत्तर का चयन कीजिए :

- (1) केवल (A), (D) और (E)
- (2) केवल (C) और (D)
- (3) केवल (A), (B) और (C)
- (4) केवल (B) और (D)

**Options :**

- 878270155869. 1
- 878270155870. 2
- 878270155871. 3
- 878270155872. 4

**Question Number : 9 Question Id : 87827039678 Question Type : MCQ Option Shuffling : No Is Question Mandatory : No Calculator : None Response Time : N.A Think Time : N.A Minimum Instruction Time : 0**

**Correct Marks : 2 Wrong Marks : 0**

Which learning style involves the extent to which students approach learning materials in a way that helps them understand the meaning of the materials :

- (1) Surface styles
- (2) Impulsive styles
- (3) Deep styles
- (4) Reflective styles

**Options :**

- 878270155873. 1
- 878270155874. 2
- 878270155875. 3

878270155876. 4

**Question Number : 9 Question Id : 87827039678 Question Type : MCQ Option Shuffling : No Is Question Mandatory : No Calculator : None Response Time : N.A Think Time : N.A Minimum Instruction Time : 0**

**Correct Marks : 2 Wrong Marks : 0**

किस अधिगम शैली में यह शामिल है कि विद्यार्थी एक हद तक अधिगम सामग्री को इस तरीके से देखते हैं कि उससे उन्हें सामग्री का अर्थ समझने में मदद मिलती है?

- (1) सतही शैलियां
- (2) आवेगात्मक शैलियां
- (3) गहन शैलियां
- (4) चिंतन शैलियां

**Options :**

878270155873. 1

878270155874. 2

878270155875. 3

878270155876. 4

**Question Number : 10 Question Id : 87827039679 Question Type : MCQ Option Shuffling : No Is Question Mandatory : No Calculator : None Response Time : N.A Think Time : N.A Minimum Instruction Time : 0**

**Correct Marks : 2 Wrong Marks : 0**

"When competent readers encounter new sentences in their native language, they read them automatically" is an example of \_\_\_\_\_ learning ?

- (1) High-road transfer
- (2) Near transfer
- (3) Low-road transfer
- (4) Far transfer

**Options :**

878270155877. 1

878270155878. 2

878270155879. 3

878270155880. 4

**Question Number : 10 Question Id : 87827039679 Question Type : MCQ Option Shuffling : No**

**Is Question Mandatory : No Calculator : None Response Time : N.A Think Time : N.A**

**Minimum Instruction Time : 0**

**Correct Marks : 2 Wrong Marks : 0**

“जब सक्षम पाठकों के सामने उनकी देशज भाषा के नए वाक्य आते हैं, तो वे उन्हें अपने आप पढ़ लेते हैं”, यह किस प्रकार के अधिगम अंतरण का उदाहरण है?

- (1) उच्च-मार्ग अंतरण
- (2) निकट अंतरण
- (3) निम्न-मार्ग अंतरण
- (4) दूर अंतरण

**Options :**

878270155877. 1

878270155878. 2

878270155879. 3

878270155880. 4

**Question Number : 11 Question Id : 87827039680 Question Type : MCQ Option Shuffling : No**

**Is Question Mandatory : No Calculator : None Response Time : N.A Think Time : N.A**

**Minimum Instruction Time : 0**

**Correct Marks : 2 Wrong Marks : 0**

Identify the software used for detecting plagiarism :

- (A) Mendley
- (B) Turnitin
- (C) Compiler
- (D) Ithenticate

Choose the **correct** answer from the options given below :

- (1) (A) and (B) Only
- (2) (A), (B) and (C) Only
- (3) (A), (B) and (D) Only
- (4) (B) and (D) Only

**Options :**

878270155881. 1

878270155882. 2

878270155883. 3

878270155884. 4

**Question Number : 11 Question Id : 87827039680 Question Type : MCQ Option Shuffling : No**

**Is Question Mandatory : No Calculator : None Response Time : N.A Think Time : N.A**

**Minimum Instruction Time : 0**

**Correct Marks : 2 Wrong Marks : 0**

साहित्यिक चोरी का पता लगाने के लिए प्रयोग में लाए जाने वाले साफ्टवेयर की पहचान करें :

- (A) मेंडले
- (B) टर्नितिन
- (C) कम्पाइलर
- (D) आइथेन्टिकेट

नीचे दिए गए विकल्पों में से **सही** उत्तर का चयन कीजिए :

- (1) केवल (A) और (B)
- (2) केवल (A), (B) और (C)
- (3) केवल (A), (B) और (D)
- (4) केवल (B) और (D)

**Options :**

878270155881. 1

878270155882. 2

878270155883. 3

878270155884. 4

**Question Number : 12 Question Id : 87827039681 Question Type : MCQ Option Shuffling : No**

**Is Question Mandatory : No Calculator : None Response Time : N.A Think Time : N.A**

**Minimum Instruction Time : 0**

**Correct Marks : 2 Wrong Marks : 0**

Which of the following approaches to the analysis of content is based on the study of signs ?

- (1) Semiotics
- (2) Ethnography
- (3) Content Analysis
- (4) Quantitative Research

**Options :**

878270155885. 1

878270155886. 2

878270155887. 3

878270155888. 4

**Question Number : 12 Question Id : 87827039681 Question Type : MCQ Option Shuffling : No**

**Is Question Mandatory : No Calculator : None Response Time : N.A Think Time : N.A**

**Minimum Instruction Time : 0**

**Correct Marks : 2 Wrong Marks : 0**

विषयवस्तु के विश्लेषण का निम्नलिखित कौन-सा उपागम प्रतीकों (चिन्हों) के अध्ययन पर आधारित है ?

- (1) संकेत विज्ञान
- (2) नृजाति वर्णन
- (3) विषयवस्तु विश्लेषण
- (4) मात्रात्मक शोध

**Options :**

878270155885. 1

878270155886. 2



878270155887. 3

878270155888. 4

**Question Number : 13 Question Id : 87827039682 Question Type : MCQ Option Shuffling : No**

**Is Question Mandatory : No Calculator : None Response Time : N.A Think Time : N.A**

**Minimum Instruction Time : 0**

**Correct Marks : 2 Wrong Marks : 0**

Arrange the following in correct sequence according to APA style of referencing :

- (A) Title of the research article
- (B) Year of publication
- (C) Name of journal
- (D) Name of author

Choose the **correct** answer from the options given below :

- (1) (A), (B), (C), (D)
- (2) (A), (C), (D), (B)
- (3) (D), (A), (C), (B)
- (4) (D), (B), (A), (C)

**Options :**

878270155889. 1

878270155890. 2

878270155891. 3

878270155892. 4

**Question Number : 13 Question Id : 87827039682 Question Type : MCQ Option Shuffling : No**

**Is Question Mandatory : No Calculator : None Response Time : N.A Think Time : N.A**

**Minimum Instruction Time : 0**

**Correct Marks : 2 Wrong Marks : 0**

संदर्भांकन की ए पी ए शैली के अनुसार निम्नलिखित को सही अनुक्रम में व्यवस्थित करें :

- (A) शोध आलेख का शीर्षक
- (B) प्रकाशन का वर्ष
- (C) जर्नल का नाम
- (D) लेखक का नाम

नीचे दिए गए विकल्पों में से सही उत्तर का चयन कीजिए :

- (1) (A), (B), (C), (D)
- (2) (A), (C), (D), (B)
- (3) (D), (A), (C), (B)
- (4) (D), (B), (A), (C)

**Options :**

878270155889. 1

878270155890. 2

878270155891. 3

878270155892. 4

**Question Number : 14 Question Id : 87827039683 Question Type : MCQ Option Shuffling : No**

**Is Question Mandatory : No Calculator : None Response Time : N.A Think Time : N.A**

**Minimum Instruction Time : 0**

**Correct Marks : 2 Wrong Marks : 0**

If you wish to test whether population mean is lower than some hypothesized value, you would apply :

- (1) one-tailed test
- (2) two-tailed test
- (3) half-tailed test
- (4) three-tailed test

**Options :**

878270155893. 1

878270155894. 2

878270155895. 3

878270155896. 4

**Question Number : 14 Question Id : 87827039683 Question Type : MCQ Option Shuffling : No**

**Is Question Mandatory : No Calculator : None Response Time : N.A Think Time : N.A**

**Minimum Instruction Time : 0**

**Correct Marks : 2 Wrong Marks : 0**

यदि आप यह परीक्षण करना चाहते हैं कि क्या जनसांख्यिकीय माध्य, परिकल्पनात्मक माध्य से कम है तो आप निम्नलिखित में से किस एक का प्रयोग करेंगे?

- (1) एक-पुच्छ परीक्षण
- (2) दो-पुच्छ परीक्षण
- (3) अर्द्ध-पुच्छ परीक्षण
- (4) त्रि-पुच्छ परीक्षण

**Options :**

878270155893. 1

878270155894. 2

878270155895. 3

878270155896. 4

**Question Number : 15 Question Id : 87827039684 Question Type : MCQ Option Shuffling : No**

**Is Question Mandatory : No Calculator : None Response Time : N.A Think Time : N.A**

**Minimum Instruction Time : 0**

**Correct Marks : 2 Wrong Marks : 0**

Which of the following correctly represents the meaning of the abbreviation "ante" used in academic writing ?

- (1) anonymous
- (2) before
- (3) after
- (4) and others

**Options :**

878270155897. 1

878270155898. 2

878270155899. 3

878270155900. 4

**Question Number : 15 Question Id : 87827039684 Question Type : MCQ Option Shuffling : No**

**Is Question Mandatory : No Calculator : None Response Time : N.A Think Time : N.A**

**Minimum Instruction Time : 0**

**Correct Marks : 2 Wrong Marks : 0**

निम्नलिखित में से कौन सा शब्द अकादमिक लेखन में प्रयुक्त 'एन्टि' (ante) संक्षिप्त के अर्थ का सही प्रतिनिधित्व करता है?

- (1) अनामक
- (2) पहले
- (3) बाद में
- (4) और अन्य

**Options :**

878270155897. 1

878270155898. 2

878270155899. 3

878270155900. 4

**Question Number : 16 Question Id : 87827039685 Question Type : MCQ Option Shuffling : No**

**Is Question Mandatory : No Calculator : None Response Time : N.A Think Time : N.A**

**Minimum Instruction Time : 0**

**Correct Marks : 2 Wrong Marks : 0**

All forms of communication are evaluated in relation to :

- (1) Face to face communication
- (2) Radio transmission
- (3) Television entertainment
- (4) Internet usage

**Options :**

878270155901. 1

878270155902. 2

878270155903. 3

878270155904. 4

**Question Number : 16 Question Id : 87827039685 Question Type : MCQ Option Shuffling : No**

**Is Question Mandatory : No Calculator : None Response Time : N.A Think Time : N.A**

**Minimum Instruction Time : 0**

**Correct Marks : 2 Wrong Marks : 0**

सभी प्रकार के सम्प्रषणों का मूल्यांकन निम्नलिखित में से किसके संबंध में किया जाता है?

- (1) मुखोन्मुख सम्प्रेषण
- (2) रेडियो प्रसारण
- (3) दूरदर्शन मनोरंजन
- (4) इन्टरनेट का उपयोग

**Options :**

878270155901. 1

878270155902. 2

878270155903. 3

878270155904. 4

**Question Number : 17 Question Id : 87827039686 Question Type : MCQ Option Shuffling : No**

**Is Question Mandatory : No Calculator : None Response Time : N.A Think Time : N.A**

**Minimum Instruction Time : 0**

**Correct Marks : 2 Wrong Marks : 0**

Which of the following media is often described as 'one day best seller' ?

- (1) Radio
- (2) Internet
- (3) Novel
- (4) Newspaper

**Options :**

878270155905. 1

878270155906. 2

878270155907. 3

878270155908. 4

**Question Number : 17 Question Id : 87827039686 Question Type : MCQ Option Shuffling : No**

**Is Question Mandatory : No Calculator : None Response Time : N.A Think Time : N.A**

**Minimum Instruction Time : 0**

**Correct Marks : 2 Wrong Marks : 0**

निम्नलिखित में से किस मीडिया का उल्लेख प्रायः 'एक दिन का उत्तम बिक्रेता' के रूप में किया जाता है?

- (1) रेडियो
- (2) इन्टरनेट
- (3) उपन्यास
- (4) समाचार पत्र

**Options :**

878270155905. 1

878270155906. 2

878270155907. 3

878270155908. 4

**Question Number : 18 Question Id : 87827039687 Question Type : MCQ Option Shuffling : No**

**Is Question Mandatory : No Calculator : None Response Time : N.A Think Time : N.A**

**Minimum Instruction Time : 0**

**Correct Marks : 2 Wrong Marks : 0**

The Greek rhetorical communication emphasised on the elements of :

- (A) Delayed feedback
- (B) Lower class language
- (C) Logos
- (D) Ethos
- (E) Pathos

Choose the **correct** answer from the options given below :

- (1) (A), (B) and (C) Only
- (2) (B), (C) and (D) Only
- (3) (A), (B) and (D) Only
- (4) (C), (D) and (E) Only

**Options :**

878270155909. 1

878270155910. 2

878270155911. 3

878270155912. 4

**Question Number : 18 Question Id : 87827039687 Question Type : MCQ Option Shuffling : No**

**Is Question Mandatory : No Calculator : None Response Time : N.A Think Time : N.A**

**Minimum Instruction Time : 0**

**Correct Marks : 2 Wrong Marks : 0**

यूनानी वाकपट्टापूर्ण सम्प्रेषण में किन तत्वों पर बल दिया जाता था ?

- (A) विलम्बित प्रतिपुष्टि (डिलेड फीडबैक)
- (B) निम्न वर्ग की भाषा
- (C) शुभंकर (लोगो)
- (D) लोकाचार (ईथॉस)
- (E) करुण भाव (पैथॉस)

नीचे दिए गए विकल्पों में से सही उत्तर का चयन कीजिए :

- (1) केवल (A), (B) और (C)
- (2) केवल (B), (C) और (D)
- (3) केवल (A), (B) और (D)
- (4) केवल (C), (D) और (E)

**Options :**

878270155909. 1

878270155910. 2

878270155911. 3

878270155912. 4

**Question Number : 19 Question Id : 87827039688 Question Type : MCQ Option Shuffling : No**

**Is Question Mandatory : No Calculator : None Response Time : N.A Think Time : N.A**

**Minimum Instruction Time : 0**

**Correct Marks : 2 Wrong Marks : 0**

Given below are two statements :

**Statement I :** When passive defence systems are encouraged, a defensive response will resist attitudinal change, if we apply the inoculation theory of communication.

**Statement II :** A strong dose of argument will strengthen the receiver's immune system.

In the light of the above statements, choose the **most appropriate answer** from the options given below :

- (1) Both **Statement I** and **Statement II** are correct
- (2) Both **Statement I** and **Statement II** are incorrect
- (3) **Statement I** is correct but **Statement II** is incorrect
- (4) **Statement I** is incorrect but **Statement II** is correct

**Options :**

878270155913. 1

878270155914. 2

878270155915. 3

878270155916. 4

**Question Number : 19 Question Id : 87827039688 Question Type : MCQ Option Shuffling : No**

**Is Question Mandatory : No Calculator : None Response Time : N.A Think Time : N.A**

**Minimum Instruction Time : 0**

**Correct Marks : 2 Wrong Marks : 0**

नीचे दो कथन दिए गए हैं :

**कथन (I) :** यदि हम संचारण सम्प्रेषण सिद्धांत का प्रयोग करें तों निष्क्रिय सुरक्षा प्रणाली को प्रोत्साहित किये जाने पर, सुरक्षा अनुक्रिया अभिवृत्तीय परिवर्तन का प्रतिरोध करेगी।

**कथन (II) :** मजबूत तर्क से प्राप्तकर्ता की प्रतिरोधक प्रणाली मजबूत होगी।

उपरोक्त कथन के आलोक में, नीचे दिए गए विकल्पों में से **सही उत्तर** चयन कीजिए :

- (1) **कथन I** और **कथन II** दोनों सत्य है
- (2) **कथन I** और **कथन II** दोनों असत्य है
- (3) **कथन I** सत्य है, लेकिन **कथन II** असत्य है
- (4) **कथन I** असत्य है, लेकिन **कथन II** सत्य है

**Options :**

878270155913. 1

878270155914. 2



878270155915. 3

878270155916. 4

**Question Number : 20 Question Id : 87827039689 Question Type : MCQ Option Shuffling : No**

**Is Question Mandatory : No Calculator : None Response Time : N.A Think Time : N.A**

**Minimum Instruction Time : 0**

**Correct Marks : 2 Wrong Marks : 0**

Given below are two statements :

**Statement I :** Through feedback, students can later critique their own communication competence outside the classroom.

**Statement II :** Motivational orientation towards communication should be identified by teachers to better the communication competence of the students.

In the light of the above statements, choose the **most appropriate answer** from the options given below :

- (1) Both **Statement I** and **Statement II** are correct
- (2) Both **Statement I** and **Statement II** are incorrect
- (3) **Statement I** is correct but **Statement II** is incorrect
- (4) **Statement I** is incorrect but **Statement II** is correct

**Options :**

878270155917. 1

878270155918. 2

878270155919. 3

878270155920. 4

**Question Number : 20 Question Id : 87827039689 Question Type : MCQ Option Shuffling : No**

**Is Question Mandatory : No Calculator : None Response Time : N.A Think Time : N.A**

**Minimum Instruction Time : 0**

**Correct Marks : 2 Wrong Marks : 0**

नीचे दो कथन दिए गए हैं :

**कथन (I) :** प्रतिपुष्टि (फीडबैक) के माध्यम से, छात्र बाद में कक्षा से बाहर अपने संप्रेषण की क्षमता की समीक्षा कर सकते हैं।

**कथन (II) :** शिक्षकों द्वारा संप्रेषण के प्रति अभिप्रेरणात्मक अभिमुखीकरण की पहचान की जानी चाहिए ताकि छात्रों की संप्रेषण क्षमता बेहतर हो सके।

उपरोक्त कथन के आलोक में, नीचे दिए गए विकल्पों में से सही उत्तर चयन कीजिए :

- (1) कथन I और कथन II दोनों सत्य हैं
- (2) कथन I और कथन II दोनों असत्य हैं
- (3) कथन I सत्य है, लेकिन कथन II असत्य है
- (4) कथन I असत्य है, लेकिन कथन II सत्य है

**Options :**

878270155917. 1

878270155918. 2

878270155919. 3

878270155920. 4

**Question Number : 21 Question Id : 87827039690 Question Type : MCQ Option Shuffling : No**

**Is Question Mandatory : No Calculator : None Response Time : N.A Think Time : N.A**

**Minimum Instruction Time : 0**

**Correct Marks : 2 Wrong Marks : 0**

A person travels 365 km in 8 hours in two stages. In the first part of the journey, he travels by bus at the speed of 40 km/hour and in the second part of the journey, he travels by train at the speed of 55 km/hour. How much distance did he travel by train ?

- (1) 165 km
- (2) 170 km
- (3) 200 km
- (4) 164 km

**Options :**

878270155921. 1

878270155922. 2

878270155923. 3

878270155924. 4

**Question Number : 21 Question Id : 87827039690 Question Type : MCQ Option Shuffling : No**

**Is Question Mandatory : No Calculator : None Response Time : N.A Think Time : N.A**

**Minimum Instruction Time : 0**

**Correct Marks : 2 Wrong Marks : 0**

एक व्यक्ति दो चरणों में 8 घंटे में 365 किमी की यात्रा करता है। प्रथम भाग की यात्रा वह 40 किमी/घंटे की गति से बस द्वारा तय करता है तथा यात्रा का दूसरा भाग वह 55 किमी/घंटे की गति से ट्रेन से तय करता है। उसने ट्रेन द्वारा कितनी दूरी तय की ?

- (1) 165 किमी
- (2) 170 किमी
- (3) 200 किमी
- (4) 164 किमी

**Options :**

878270155921. 1

878270155922. 2

878270155923. 3

878270155924. 4

**Question Number : 22 Question Id : 87827039691 Question Type : MCQ Option Shuffling : No**

**Is Question Mandatory : No Calculator : None Response Time : N.A Think Time : N.A**

**Minimum Instruction Time : 0**

**Correct Marks : 2 Wrong Marks : 0**

If the average of 10 numbers is 40 and the average of six of them is 28, then the average of the remaining four numbers is :

- (1) 52
- (2) 54
- (3) 56
- (4) 58

**Options :**

878270155925. 1

878270155926. 2

878270155927. 3

878270155928. 4

**Question Number : 22 Question Id : 87827039691 Question Type : MCQ Option Shuffling : No**

**Is Question Mandatory : No Calculator : None Response Time : N.A Think Time : N.A**

**Minimum Instruction Time : 0**

**Correct Marks : 2 Wrong Marks : 0**

यदि 10 संख्याओं का औसत 40 है तथा उनमें से छह का औसत 28 है, तो शेष चार संख्याओं का औसत कितना होगा ?

- (1) 52
- (2) 54
- (3) 56
- (4) 58

**Options :**

878270155925. 1

878270155926. 2

878270155927. 3

878270155928. 4

**Question Number : 23 Question Id : 87827039692 Question Type : MCQ Option Shuffling : No**

**Is Question Mandatory : No Calculator : None Response Time : N.A Think Time : N.A**

**Minimum Instruction Time : 0**

**Correct Marks : 2 Wrong Marks : 0**

₹ 3080 is divided among A,B and C so that half of A's part, one third of B's part and one sixth of C's part are equal. Then B's part is

- (1) ₹ 840
- (2) ₹ 960
- (3) ₹ 1080
- (4) ₹ 720

**Options :**

878270155929. 1

878270155930. 2

878270155931. 3

878270155932. 4

**Question Number : 23 Question Id : 87827039692 Question Type : MCQ Option Shuffling : No**

**Is Question Mandatory : No Calculator : None Response Time : N.A Think Time : N.A**

**Minimum Instruction Time : 0**

**Correct Marks : 2 Wrong Marks : 0**

₹ 3080 को A, B और C में इस तरह बाँटा जाता है कि A के हिस्से का आधा, B के हिस्से का एक-तिहाई तथा C के हिस्से का छठवाँ भाग बराबर हैं, तो B का हिस्सा है :

- (1) ₹ 840
- (2) ₹ 960
- (3) ₹ 1080
- (4) ₹ 720

**Options :**

878270155929. 1

878270155930. 2

878270155931. 3

878270155932. 4

**Question Number : 24 Question Id : 87827039693 Question Type : MCQ Option Shuffling : No**

**Is Question Mandatory : No Calculator : None Response Time : N.A Think Time : N.A**

**Minimum Instruction Time : 0**

**Correct Marks : 2 Wrong Marks : 0**

What will be the values of P and in the following number series ?

2, 0, 6, 6, 12, 24, P, Q, .....

- (1) 48, 96
- (2) 20, 60
- (3) 12, 120
- (4) 48, 50

**Options :**

878270155933. 1

878270155934. 2

878270155935. 3

878270155936. 4

**Question Number : 24 Question Id : 87827039693 Question Type : MCQ Option Shuffling : No**

**Is Question Mandatory : No Calculator : None Response Time : N.A Think Time : N.A**

**Minimum Instruction Time : 0**

**Correct Marks : 2 Wrong Marks : 0**

निम्नलिखित अंक श्रृंखला में P और Q का मान क्या होगा ?

2, 0, 6, 6, 12, 24, P, Q, .....

- (1) 48, 96
- (2) 20, 60
- (3) 12, 120
- (4) 48, 50

**Options :**

878270155933. 1

878270155934. 2

878270155935. 3

878270155936. 4

**Question Number : 25 Question Id : 87827039694 Question Type : MCQ Option Shuffling : No**

**Is Question Mandatory : No Calculator : None Response Time : N.A Think Time : N.A**

**Minimum Instruction Time : 0**

**Correct Marks : 2 Wrong Marks : 0**

'A' sells an article to 'B' at 20% profit. 'B' sells it to 'C' at 15% loss. If 'C' pays ₹ 510 for it, then 'A' purchased it at :

- (1) ₹ 480
- (2) ₹ 490
- (3) ₹ 500
- (4) ₹ 520

**Options :**

878270155937. 1

878270155938. 2

878270155939. 3

878270155940. 4

**Question Number : 25 Question Id : 87827039694 Question Type : MCQ Option Shuffling : No**

**Is Question Mandatory : No Calculator : None Response Time : N.A Think Time : N.A**

**Minimum Instruction Time : 0**

**Correct Marks : 2 Wrong Marks : 0**

'A' किसी वस्तु को 'B' को 20% लाभ पर बेचता है। 'B' इसे 'C' को 15% हानि पर बेचता है। यदि 'C' ने इसके लिए ₹ 510 का भुगतान किया, तो 'A' ने इसे कितने रुपयों में खरीदा था ?

- (1) ₹ 480
- (2) ₹ 490
- (3) ₹ 500
- (4) ₹ 520

**Options :**

878270155937. 1

878270155938. 2

878270155939. 3

878270155940. 4

**Question Number : 26 Question Id : 87827039695 Question Type : MCQ Option Shuffling : No**

**Is Question Mandatory : No Calculator : None Response Time : N.A Think Time : N.A**

**Minimum Instruction Time : 0**

**Correct Marks : 2 Wrong Marks : 0**

Arrange the following terms in order of increasing abstractness :

- (A) Mobile Telephone
- (B) Android Phone
- (C) Communication device
- (D) Telephone

Choose the **correct** answer from the options given below :

- (1) (B), (A), (D), (C)
- (2) (B), (D), (A), (C)
- (3) (C), (D), (A), (B)
- (4) (C), (A), (B), (D)

**Options :**

878270155941. 1

878270155942. 2

878270155943. 3

878270155944. 4

**Question Number : 26 Question Id : 87827039695 Question Type : MCQ Option Shuffling : No**

**Is Question Mandatory : No Calculator : None Response Time : N.A Think Time : N.A**

**Minimum Instruction Time : 0**

**Correct Marks : 2 Wrong Marks : 0**

निम्नलिखित पदों को निर्विशेषता/अमूर्तता के बढ़ते क्रम में व्यवस्थित कीजिए :

- (A) मोबाइल टेलीफोन
- (B) एंड्रॉयड फोन
- (C) संचार उपकरण
- (D) टेलीफोन

नीचे दिए गए विकल्पों में से सही उत्तर का चयन कीजिए :

- (1) (B), (A), (D), (C)
- (2) (B), (D), (A), (C)
- (3) (C), (D), (A), (B)
- (4) (C), (A), (B), (D)

**Options :**

878270155941. 1

878270155942. 2

878270155943. 3

878270155944. 4

**Question Number : 27 Question Id : 87827039696 Question Type : MCQ Option Shuffling : No**

**Is Question Mandatory : No Calculator : None Response Time : N.A Think Time : N.A**

**Minimum Instruction Time : 0**

**Correct Marks : 2 Wrong Marks : 0**



Which of the following statements are logically equivalent ?

- (A) No metals are gases
- (B) No gases are metals
- (C) No metals are non-gases
- (D) All metals are non-gases

Choose the **correct** answer from the options given below :

- (1) (A), (B) and (D) Only
- (2) (A), (B) and (C) Only
- (3) (B), (C) and (D) Only
- (4) (A) and (B) Only

**Options :**

878270155945. 1

878270155946. 2

878270155947. 3

878270155948. 4

**Question Number : 27 Question Id : 87827039696 Question Type : MCQ Option Shuffling : No**

**Is Question Mandatory : No Calculator : None Response Time : N.A Think Time : N.A**

**Minimum Instruction Time : 0**

**Correct Marks : 2 Wrong Marks : 0**

निम्नलिखित में से कौन से कथन तार्किक रूप से समतुल्य हैं ?

- (A) कोई भी धातु गैस नहीं है
- (B) कोई भी गैस धातु नहीं है
- (C) कोई भी धातु गैर-गैस नहीं है
- (D) सभी धातुएँ गैर-गैस हैं

नीचे दिए गए विकल्पों में से **सही उत्तर** का चयन कीजिए :

- (1) केवल (A), (B) और (D)
- (2) केवल (A), (B) और (C)
- (3) केवल (B), (C) और (D)
- (4) केवल (A) और (B)

**Options :**

878270155945. 1

878270155946. 2

878270155947. 3

878270155948. 4

**Question Number : 28 Question Id : 87827039697 Question Type : MCQ Option Shuffling : No**

**Is Question Mandatory : No Calculator : None Response Time : N.A Think Time : N.A**

**Minimum Instruction Time : 0**

**Correct Marks : 2 Wrong Marks : 0**

“All phenomena in the universe are saturated with moral values. Therefore, we can conclude that the universe for the Chinese is a moral universe”. Which informal fallacy is committed in the above statement ?

- (1) Slippery Slope
- (2) Begging the Question
- (3) Hasty Generalisation
- (4) Fallacy of Composition

**Options :**

878270155949. 1

878270155950. 2

878270155951. 3

878270155952. 4

**Question Number : 28 Question Id : 87827039697 Question Type : MCQ Option Shuffling : No**

**Is Question Mandatory : No Calculator : None Response Time : N.A Think Time : N.A**

**Minimum Instruction Time : 0**

**Correct Marks : 2 Wrong Marks : 0**

“ब्रह्मांड में सभी परिघटनाएँ नैतिक मूल्यों से संतृप्त (सराबोर) होती हैं। इसलिए हम निष्कर्ष निकाल सकते हैं कि चीनियों के लिए ब्रह्मांड एक नैतिक ब्रह्मांड है।” उपर्युक्त कथन में कौन सा अनाकारिक तर्क दोष है ?

- (1) फिसलनयुक्त ढलान
- (2) आत्माश्रय दोष
- (3) अविचारित सामान्यीकरण
- (4) संहति दोष

**Options :**

- 878270155949. 1
- 878270155950. 2
- 878270155951. 3
- 878270155952. 4

**Question Number : 29 Question Id : 87827039698 Question Type : MCQ Option Shuffling : No**

**Is Question Mandatory : No Calculator : None Response Time : N.A Think Time : N.A**

**Minimum Instruction Time : 0**

**Correct Marks : 2 Wrong Marks : 0**

Which of the following statements is logically equivalent to the statement "All beverages are liquid" ?

- (1) All non-liquids are non-beverages.
- (2) Some beverages are liquid.
- (3) All liquids are beverages.
- (4) Some liquids are beverages.

**Options :**

- 878270155953. 1
- 878270155954. 2
- 878270155955. 3
- 878270155956. 4

**Question Number : 29 Question Id : 87827039698 Question Type : MCQ Option Shuffling : No**

**Is Question Mandatory : No Calculator : None Response Time : N.A Think Time : N.A**

**Minimum Instruction Time : 0**

**Correct Marks : 2 Wrong Marks : 0**

"सभी पेय द्रव होते हैं" - निम्नलिखित में से कौन सा कथन तार्किक रूप से इस कथन के समतुल्य है ?

- (1) सभी गैर-द्रव गैर-पेय होते हैं।
- (2) कुछ पेय द्रव होते हैं।
- (3) सभी द्रव पेय होते हैं।
- (4) कुछ द्रव पेय होते हैं।

**Options :**

878270155953. 1

878270155954. 2

878270155955. 3

878270155956. 4

**Question Number : 30 Question Id : 87827039699 Question Type : MCQ Option Shuffling : No**

**Is Question Mandatory : No Calculator : None Response Time : N.A Think Time : N.A**

**Minimum Instruction Time : 0**

**Correct Marks : 2 Wrong Marks : 0**

Which of the following arguments is fallacious, as per classical Indian school of logic, because of the middle term being too narrow ?

- (1) All things are non-eternal because they are knowable
- (2) The hill has fire because it is knowable
- (3) Sound is eternal because it is audible
- (4) Wherever there is fire, there is smoke

**Options :**

878270155957. 1

878270155958. 2

878270155959. 3

878270155960. 4

**Question Number : 30 Question Id : 87827039699 Question Type : MCQ Option Shuffling : No**

**Is Question Mandatory : No Calculator : None Response Time : N.A Think Time : N.A**

**Minimum Instruction Time : 0**

**Correct Marks : 2 Wrong Marks : 0**

भारतीय शास्त्रीय न्याय मत के अनुसार निम्नलिखित में से कौन सी युक्ति दोषपूर्ण है क्योंकि मध्य पद अत्यंत संकीर्ण/अल्प-व्याप्त है ?

- (1) सभी वस्तुएँ गैर-शाश्वत हैं क्योंकि वे ज्ञेय हैं
- (2) पहाड़ी पर आग है क्योंकि यह ज्ञेय है
- (3) ध्वनि शाश्वत है क्योंकि यह श्रव्य है
- (4) जहाँ कहीं भी आग है, वहाँ धुआँ है

**Options :**

878270155957. 1

878270155958. 2

878270155959. 3

878270155960. 4

**Question Number : 31 Question Id : 87827039700 Question Type : MCQ Option Shuffling : No**

**Is Question Mandatory : No Calculator : None Response Time : N.A Think Time : N.A**

**Minimum Instruction Time : 0**

**Correct Marks : 2 Wrong Marks : 0**

Given below are two statements :

**Statement I :**  $(0.5625)_{10} = (0.9)_{16}$

**Statement II :**  $(0.3)_{10} = (0.4BBB.....)_{16}$

In the light of the above statements, choose the most appropriate answer from the options given below :

- (1) Both **Statement I** and **Statement II** are correct
- (2) Both **Statement I** and **Statement II** are incorrect
- (3) **Statement I** is correct but **Statement II** is incorrect
- (4) **Statement I** is incorrect but **Statement II** is correct

**Options :**

878270155961. 1

878270155962. 2

878270155963. 3

878270155964. 4

**Question Number : 31 Question Id : 87827039700 Question Type : MCQ Option Shuffling : No**

**Is Question Mandatory : No Calculator : None Response Time : N.A Think Time : N.A**

**Minimum Instruction Time : 0**

**Correct Marks : 2 Wrong Marks : 0**

नीचे दो कथन दिए गए हैं :

कथन (I) :  $(0.5625)_{10} = (0.9)_{16}$

कथन (II) :  $(0.3)_{10} = (0.4BBB.....)_{16}$

उपरोक्त कथन के आलोक में, नीचे दिए गए विकल्पों में से सही उत्तर चयन कीजिए :

- (1) कथन I और कथन II दोनों सत्य है
- (2) कथन I और कथन II दोनों असत्य है
- (3) कथन I सत्य है, लेकिन कथन II असत्य है
- (4) कथन I असत्य है, लेकिन कथन II सत्य है

**Options :**

878270155961. 1

878270155962. 2

878270155963. 3

878270155964. 4

**Question Number : 32 Question Id : 87827039701 Question Type : MCQ Option Shuffling : No**

**Is Question Mandatory : No Calculator : None Response Time : N.A Think Time : N.A**

**Minimum Instruction Time : 0**

**Correct Marks : 2 Wrong Marks : 0**

Which of the following acronyms is incorrectly matched with its expanded form ?

- (1) IMPRINT - Impacting Research, INnovation and Technology
- (2) BHIM - BHarat Interface for Money
- (3) UMANG - Unified Mobile Application for New age Generation
- (4) PayTM - Pay Through Mobile

**Options :**

878270155965. 1

878270155966. 2

878270155967. 3

878270155968. 4

**Question Number : 32 Question Id : 87827039701 Question Type : MCQ Option Shuffling : No  
Is Question Mandatory : No Calculator : None Response Time : N.A Think Time : N.A  
Minimum Instruction Time : 0**

**Correct Marks : 2 Wrong Marks : 0**

निम्नलिखित में से कौन-से संक्षिप्ताक्षर का उसके विस्तृत रूप से मिलान गलत है ?

- (1) इम्प्रिंट (IMPRINT) — इम्पैक्टिंग रिसर्च इनोवेशन एंड टेक्नोलॉजी
- (2) भीम (BHIM) — भारत इंटरफेस फॉर मनी
- (3) उमंग (UMANG) — यूनिफाइड मोबाइल एप्लिकेशन फॉर न्यू-एज जनरेशन
- (4) पेटीएम (PayTM) — पे थ्रू मोबाइल

**Options :**

878270155965. 1
878270155966. 2
878270155967. 3
878270155968. 4

**Question Number : 33 Question Id : 87827039702 Question Type : MCQ Option Shuffling : No  
Is Question Mandatory : No Calculator : None Response Time : N.A Think Time : N.A  
Minimum Instruction Time : 0**

**Correct Marks : 2 Wrong Marks : 0**

Given below are two statements in the context of digital technologies for entertainment :

**Statement I :** In virtual reality, images generated from a computer are projected onto real life objects or surroundings.

**Statement II :** In augmented reality, a simulated environment is created and the physical world is completely shut out.

In the light of the above statements, choose the **most appropriate answer** from the options given below :

- (1) Both **Statement I** and **Statement II** are correct
- (2) Both **Statement I** and **Statement II** are incorrect
- (3) **Statement I** is correct but **Statement II** is incorrect
- (4) **Statement I** is incorrect but **Statement II** is correct

**Options :**

878270155969. 1

878270155970. 2

878270155971. 3

878270155972. 4

**Question Number : 33 Question Id : 87827039702 Question Type : MCQ Option Shuffling : No**

**Is Question Mandatory : No Calculator : None Response Time : N.A Think Time : N.A**

**Minimum Instruction Time : 0**

**Correct Marks : 2 Wrong Marks : 0**

नीचे दो कथन दिए गए हैं : मनोरंजन संबंधी डिजिटल प्रौद्योगिकी के संदर्भ में

**कथन (I) :** आभासी वास्तविकता में कम्प्यूटर जनित छवियों को वास्तविक जीवन की/के वस्तुओं या परिवेश पर प्रक्षेपित किया जाता है।

**कथन (II) :** आवर्धित वास्तविकता में अनुरूपित परिवेश सृजित किया जाता है और भौतिक संसार पूरी तरह बंद कर दिया जाता है।

उपरोक्त कथन के आलोक में, नीचे दिए गए विकल्पों में से सही उत्तर चयन कीजिए:

- (1) कथन I और कथन II दोनों सत्य हैं
- (2) कथन I और कथन II दोनों असत्य हैं
- (3) कथन I सत्य है, लेकिन कथन II असत्य है
- (4) कथन I असत्य है, लेकिन कथन II सत्य है

**Options :**

878270155969. 1

878270155970. 2

878270155971. 3

878270155972. 4

**Question Number : 34 Question Id : 87827039703 Question Type : MCQ Option Shuffling : No**

**Is Question Mandatory : No Calculator : None Response Time : N.A Think Time : N.A**

**Minimum Instruction Time : 0**

**Correct Marks : 2 Wrong Marks : 0**



When watching videos from a web site using streaming technology, which of the following will be involved ?

- (A) DNS
- (B) FTP
- (C) IP

Choose the correct answer from the options given below :

- (1) (A) and (B) Only
- (2) (A) and (C) Only
- (3) (B) and (C) Only
- (4) (A), (B) and (C)

**Options :**

- 878270155973. 1
- 878270155974. 2
- 878270155975. 3
- 878270155976. 4

**Question Number : 34 Question Id : 87827039703 Question Type : MCQ Option Shuffling : No**

**Is Question Mandatory : No Calculator : None Response Time : N.A Think Time : N.A**

**Minimum Instruction Time : 0**

**Correct Marks : 2 Wrong Marks : 0**

स्ट्रीमिंग प्रौद्योगिकी का उपयोग करते हुए वेबसाइट से विडियो देखते समय निम्नलिखित में से कौन से शामिल है ?

- (A) डी एन एस
- (B) एफ टी पी
- (C) आई पी

नीचे दिए गए विकल्पों में से सही उत्तर का चयन कीजिए :

- (1) केवल (A) और (B)
- (2) केवल (A) और (C)
- (3) केवल (B) और (C)
- (4) (A), (B) और (C)

**Options :**

- 878270155973. 1
- 878270155974. 2

878270155975. 3

878270155976. 4

**Question Number : 35 Question Id : 87827039704 Question Type : MCQ Option Shuffling : No**

**Is Question Mandatory : No Calculator : None Response Time : N.A Think Time : N.A**

**Minimum Instruction Time : 0**

**Correct Marks : 2 Wrong Marks : 0**

Match List - I with List - II.

List - I (Question)	List - II (Answer)
(A) How many ones are there in the binary representation of the decimal number 512 ?	(I) 13
(B) If 1 KiloByte = $2^x$ bits, then what is the value of $x$ ?	(II) 20
(C) What hexadecimal value is obtained when the two hexadecimal digits A and B are added together ?	(III) 1
(D) What is the denary (base 10) value of the binary number 00010100 ?	(IV) 15

Choose the **correct** answer from the options given below :

- (1) (A)-(III), (B)-(IV), (C)-(I), (D)-(II)
- (2) (A)-(II), (B)-(I), (C)-(IV), (D)-(III)
- (3) (A)-(I), (B)-(III), (C)-(II), (D)-(IV)
- (4) (A)-(III), (B)-(I), (C)-(IV), (D)-(II)

**Options :**

878270155977. 1

878270155978. 2

878270155979. 3

878270155980. 4

**Question Number : 35 Question Id : 87827039704 Question Type : MCQ Option Shuffling : No**

**Is Question Mandatory : No Calculator : None Response Time : N.A Think Time : N.A**

**Minimum Instruction Time : 0**

**Correct Marks : 2 Wrong Marks : 0**

सूची-I से सूची-II का मिलान कीजिए :

सूची-I प्रश्न	सूची-II उत्तर
(A) दशमलव संख्या 512 के द्वि-आधारी प्रतिरूपण में कितने एक हैं?	(I) 13
(B) यदि 1 किलोबाइट = $2^x$ बिट्स हो, तो $x$ का मान क्या होगा?	(II) 20
(C) जब दो षोडश-आधारी संख्याओं A और B को एकसाथ जोड़ा जाता है, तो क्या षोडस आधारी मान प्राप्त होगा?	(III) 1
(D) द्विआधारी संख्या 00010100 का दशमिक आधारी मान क्या होगा?	(IV) 15

नीचे दिए गए विकल्पों में से सही उत्तर का चयन कीजिए :

- (1) (A)-(III), (B)-(IV), (C)-(I), (D)-(II)
- (2) (A)-(II), (B)-(I), (C)-(IV), (D)-(III)
- (3) (A)-(I), (B)-(III), (C)-(II), (D)-(IV)
- (4) (A)-(III), (B)-(I), (C)-(IV), (D)-(II)

**Options :**

878270155977. 1

878270155978. 2

878270155979. 3

878270155980. 4

**Question Number : 36 Question Id : 87827039705 Question Type : MCQ Option Shuffling : No**

**Is Question Mandatory : No Calculator : None Response Time : N.A Think Time : N.A**

**Minimum Instruction Time : 0**

**Correct Marks : 2 Wrong Marks : 0**

In air pollution, oxides of nitrogen (NO<sub>x</sub>) include :

- (A) Nitric oxide
- (B) Nitrous oxide
- (C) Nitrogen dioxide
- (D) Di-nitrogen trioxide
- (E) Di-nitrogen penta oxide

Choose the **correct** answer from the options given below :

- (1) (A), (B) and (C) Only
- (2) (A) and (C) Only
- (3) (B), (C) and (D) Only
- (4) (D) and (E) Only

**Options :**

878270155981. 1

878270155982. 2

878270155983. 3

878270155984. 4

**Question Number : 36 Question Id : 87827039705 Question Type : MCQ Option Shuffling : No**

**Is Question Mandatory : No Calculator : None Response Time : N.A Think Time : N.A**

**Minimum Instruction Time : 0**

**Correct Marks : 2 Wrong Marks : 0**

वायु प्रदूषण में, नाइट्रोजन के ऑक्साइड्स (NO<sub>x</sub>) में शामिल हैं :

- (A) नाइट्रिक ऑक्साइड
- (B) नाइट्रस ऑक्साइड
- (C) नाइट्रोजन डाईऑक्साइड
- (D) डाईनाइट्रोजन ट्राई ऑक्साइड
- (E) डाई-नाइट्रोजन पेंटा ऑक्साइड

नीचे दिए गए विकल्पों में से सही उत्तर का चयन कीजिए :

- (1) केवल (A), (B) और (C)
- (2) केवल (A) और (C)
- (3) केवल (B), (C) और (D)
- (4) केवल (D) और (E)

**Options :**

878270155981. 1

878270155982. 2

878270155983. 3

878270155984. 4

**Question Number : 37 Question Id : 87827039706 Question Type : MCQ Option Shuffling : No**

**Is Question Mandatory : No Calculator : None Response Time : N.A Think Time : N.A**

**Minimum Instruction Time : 0**

**Correct Marks : 2 Wrong Marks : 0**

Given below are two statements :

**Statement I :** Increasingly, photovoltaic panels are being used to supplement electrical energy from the power grid.

**Statement II :** The compatibility of photovoltaic panels with power grid is also because it produces Direct Current (DC).

In the light of the above statements, choose the **most appropriate answer** from the options given below :

- (1) Both **Statement I** and **Statement II** are correct
- (2) Both **Statement I** and **Statement II** are incorrect
- (3) **Statement I** is correct but **Statement II** is incorrect
- (4) **Statement I** is incorrect but **Statement II** is correct

**Options :**

- 878270155985. 1
- 878270155986. 2
- 878270155987. 3
- 878270155988. 4

**Question Number : 37 Question Id : 87827039706 Question Type : MCQ Option Shuffling : No**

**Is Question Mandatory : No Calculator : None Response Time : N.A Think Time : N.A**

**Minimum Instruction Time : 0**

**Correct Marks : 2 Wrong Marks : 0**

नीचे दो कथन दिए गए हैं :

**कथन (I) :** पावरग्रिड से विद्युत ऊर्जा की अनुपूर्ति के लिए फोटो वोल्टीय पैनलों के उपयोग में वृद्धि होती जा रही है।

**कथन (II) :** पावर ग्रिड के साथ फोटो वोल्टीय पैनलों की अनुकूलता इसलिए भी है क्योंकि इससे दिष्ट धारा (डीसी) पैदा होती है।

उपरोक्त कथन के आलोक में, नीचे दिए गए विकल्पों में से सही उत्तर चयन कीजिए :

- (1) कथन I और कथन II दोनों सत्य है
- (2) कथन I और कथन II दोनों असत्य है
- (3) कथन I सत्य है, लेकिन कथन II असत्य है
- (4) कथन I असत्य है, लेकिन कथन II सत्य है

**Options :**

- 878270155985. 1
- 878270155986. 2
- 878270155987. 3
- 878270155988. 4

**Question Number : 38 Question Id : 87827039707 Question Type : MCQ Option Shuffling : No**

**Is Question Mandatory : No Calculator : None Response Time : N.A Think Time : N.A**

**Minimum Instruction Time : 0**

**Correct Marks : 2 Wrong Marks : 0**

Given below are two statements :

**Statement I :** Rising nutrient levels in a lake change the numbers and types of biota present there.

**Statement II :** Eutrophic lakes normally have clear water and contain little biomass.

In the light of the above statements, choose the **most appropriate answer** from the options given below :

- (1) Both **Statement I** and **Statement II** are correct
- (2) Both **Statement I** and **Statement II** are incorrect
- (3) **Statement I** is correct but **Statement II** is incorrect
- (4) **Statement I** is incorrect but **Statement II** is correct

**Options :**

878270155989. 1

878270155990. 2

878270155991. 3

878270155992. 4

**Question Number : 38 Question Id : 87827039707 Question Type : MCQ Option Shuffling : No**

**Is Question Mandatory : No Calculator : None Response Time : N.A Think Time : N.A**

**Minimum Instruction Time : 0**

**Correct Marks : 2 Wrong Marks : 0**

नीचे दो कथन दिए गए हैं :

**कथन (I) :** किसी झील में बढ़ते पोषक स्तर से उसमें उपस्थित जीवता की संख्या और प्रकार परिवर्तित होते हैं।

**कथन (II) :** सामान्यतया सुपोषक झीलों में स्वच्छ जल और अल्प मात्रा में जैव-संहति (बायोमास) होते हैं।

उपरोक्त कथन के आलोक में, नीचे दिए गए विकल्पों में से **सही उत्तर** चयन कीजिए :

- (1) **कथन I** और **कथन II** दोनों सत्य है
- (2) **कथन I** और **कथन II** दोनों असत्य है
- (3) **कथन I** सत्य है, लेकिन **कथन II** असत्य है
- (4) **कथन I** असत्य है, लेकिन **कथन II** सत्य है

**Options :**

878270155989. 1

878270155990. 2

878270155991. 3

878270155992. 4

**Question Number : 39 Question Id : 87827039708 Question Type : MCQ Option Shuffling : No**

**Is Question Mandatory : No Calculator : None Response Time : N.A Think Time : N.A**

**Minimum Instruction Time : 0**

**Correct Marks : 2 Wrong Marks : 0**

Given below are two statements :

**Statement I :** The detrimental impacts of air pollution are not limited to human health only.

**Statement II :** Fluorine emitted in the air from various industrial processes has significant phytotoxicological effects.

In the light of the above statements, choose the **most appropriate answer** from the options given below :

- (1) Both **Statement I** and **Statement II** are correct
- (2) Both **Statement I** and **Statement II** are incorrect
- (3) **Statement I** is correct but **Statement II** is incorrect
- (4) **Statement I** is incorrect but **Statement II** is correct

**Options :**

878270155993. 1

878270155994. 2

878270155995. 3

878270155996. 4

**Question Number : 39 Question Id : 87827039708 Question Type : MCQ Option Shuffling : No**

**Is Question Mandatory : No Calculator : None Response Time : N.A Think Time : N.A**

**Minimum Instruction Time : 0**

**Correct Marks : 2 Wrong Marks : 0**



नीचे दो कथन दिए गए हैं :

**कथन (I) :** वायु प्रदूषण के दुष्प्रभाव मानव स्वास्थ्य तक ही सीमित नहीं होते हैं।

**कथन (II) :** वायु में विभिन्न औद्योगिक प्रक्रियाओं से निकले फ्लोरीन के महत्वपूर्ण पादप आविष्कारक प्रभाव होते हैं।

उपरोक्त कथन के आलोक में, नीचे दिए गए विकल्पों में से **सही उत्तर** चयन कीजिए :

- (1) कथन I और कथन II दोनों सत्य हैं
- (2) कथन I और कथन II दोनों असत्य हैं
- (3) कथन I सत्य है, लेकिन कथन II असत्य है
- (4) कथन I असत्य है, लेकिन कथन II सत्य है

**Options :**

878270155993. 1

878270155994. 2

878270155995. 3

878270155996. 4

**Question Number : 40 Question Id : 87827039709 Question Type : MCQ Option Shuffling : No**

**Is Question Mandatory : No Calculator : None Response Time : N.A Think Time : N.A**

**Minimum Instruction Time : 0**

**Correct Marks : 2 Wrong Marks : 0**

Match List - I with List - II.

**List - I**

(Hazard related term)

**List - II**

(Description)

- |                   |   |
|-------------------|---|
| (A) Risk          | (I) Actions to mitigate losses                      |
| (B) Exposure      | (II) Frequency of events causing losses             |
| (C) Vulnerability | (III) Magnitude of population and structure at risk |
| (D) Response      | (IV) Degree of preparedness                         |

Choose the **correct** answer from the options given below :

- (1) (A)-(II), (B)-(III), (C)-(IV), (D)-(I)
- (2) (A)-(III), (B)-(II), (C)-(IV), (D)-(I)
- (3) (A)-(II), (B)-(III), (C)-(I), (D)-(IV)
- (4) (A)-(III), (B)-(II), (C)-(I), (D)-(IV)

**Options :**

878270155997. 1

878270155998. 2

878270155999. 3

878270156000. 4

**Question Number : 40 Question Id : 87827039709 Question Type : MCQ Option Shuffling : No**

**Is Question Mandatory : No Calculator : None Response Time : N.A Think Time : N.A**

**Minimum Instruction Time : 0**

**Correct Marks : 2 Wrong Marks : 0**

सूची-I से सूची-II का मिलान कीजिए :

सूची-I ( खतरा संबंधी पद )	सूची-II ( वर्णन )
(A) जोखिम	(I) नुकसान को कम करने के लिए कार्रवाई
(B) उद्भासन	(II) नुकसान करने वाली घटनाओं की बारंबारता
(C) सुभेद्यता	(III) जोखिम प्रवण आबादी और संरचना को परिमाण
(D) अनुक्रिया	(IV) तैयारी की मात्रा

नीचे दिए गए विकल्पों में से सही उत्तर का चयन कीजिए :

- (1) (A)-(II), (B)-(III), (C)-(IV), (D)-(I)
- (2) (A)-(III), (B)-(II), (C)-(IV), (D)-(I)
- (3) (A)-(II), (B)-(III), (C)-(I), (D)-(IV)
- (4) (A)-(III), (B)-(II), (C)-(I), (D)-(IV)

**Options :**

878270155997. 1

878270155998. 2

878270155999. 3

878270156000. 4

**Question Number : 41 Question Id : 87827039710 Question Type : MCQ Option Shuffling : No**

**Is Question Mandatory : No Calculator : None Response Time : N.A Think Time : N.A**

**Minimum Instruction Time : 0**

**Correct Marks : 2 Wrong Marks : 0**

The policy of privatisation of higher education began with the introduction of :

- (1) Fourth five year plan
- (2) Sixth five year plan
- (3) Eighth five year plan
- (4) Tenth five year plan

**Options :**

878270156001. 1

878270156002. 2

878270156003. 3

878270156004. 4

**Question Number : 41 Question Id : 87827039710 Question Type : MCQ Option Shuffling : No**

**Is Question Mandatory : No Calculator : None Response Time : N.A Think Time : N.A**

**Minimum Instruction Time : 0**

**Correct Marks : 2 Wrong Marks : 0**

उच्च शिक्षा के निजीकरण की नीति किस योजना के शुरू होने से आरंभ की गई ?

- (1) चौथी पंचवर्षीय योजना
- (2) छठी पंचवर्षीय योजना
- (3) आठवीं पंचवर्षीय योजना
- (4) दसवीं पंचवर्षीय योजना

**Options :**

878270156001. 1

878270156002. 2

878270156003. 3

878270156004. 4

**Question Number : 42 Question Id : 87827039711 Question Type : MCQ Option Shuffling : No**

**Is Question Mandatory : No Calculator : None Response Time : N.A Think Time : N.A**

**Minimum Instruction Time : 0**

**Correct Marks : 2 Wrong Marks : 0**

Science education in India was first started in Calcutta in 1817 at :

- (1) Surendranath college
- (2) Ashutosh Mukherjee college
- (3) St Xavier college
- (4) Hindu college

**Options :**

878270156005. 1

878270156006. 2

878270156007. 3

878270156008. 4

**Question Number : 42 Question Id : 87827039711 Question Type : MCQ Option Shuffling : No**

**Is Question Mandatory : No Calculator : None Response Time : N.A Think Time : N.A**

**Minimum Instruction Time : 0**

**Correct Marks : 2 Wrong Marks : 0**

भारत में विज्ञान की शिक्षा सर्वप्रथम वर्ष 1817 में कलकत्ता में किस कॉलेज में शुरू हुई थी ?

- (1) सुरेन्द्रनाथ कॉलेज
- (2) आशुतोष मुखर्जी कॉलेज
- (3) सेंट जेवियर कॉलेज
- (4) हिन्दू कॉलेज

**Options :**

878270156005. 1

878270156006. 2

878270156007. 3

878270156008. 4

**Question Number : 43 Question Id : 87827039712 Question Type : MCQ Option Shuffling : No**

**Is Question Mandatory : No Calculator : None Response Time : N.A Think Time : N.A**

**Minimum Instruction Time : 0**

**Correct Marks : 2 Wrong Marks : 0**

The idea of a national education system in India could get fillip with the transfer of control of education in 1921 to :

- (1) The British Viceroy
- (2) Indian ministers of provinces
- (3) The Christian missionaries
- (4) European elite

**Options :**

878270156009. 1

878270156010. 2

878270156011. 3

878270156012. 4

**Question Number : 43 Question Id : 87827039712 Question Type : MCQ Option Shuffling : No**

**Is Question Mandatory : No Calculator : None Response Time : N.A Think Time : N.A**

**Minimum Instruction Time : 0**

**Correct Marks : 2 Wrong Marks : 0**

वर्ष 1921 में भारत में राष्ट्रीय शिक्षा पद्धति के विचार को बढ़ावा शिक्षा का नियंत्रण किसे अंतरित किए जाने से मिला ?

- (1) ब्रिटिश वायसराय
- (2) प्रान्तों के भारतीय मंत्री
- (3) इसाई मिशनरी
- (4) यूरोप के अभिजात वर्ग

**Options :**

878270156009. 1

878270156010. 2

878270156011. 3

878270156012. 4

**Question Number : 44 Question Id : 87827039713 Question Type : MCQ Option Shuffling : No**

**Is Question Mandatory : No Calculator : None Response Time : N.A Think Time : N.A**

**Minimum Instruction Time : 0**

**Correct Marks : 2 Wrong Marks : 0**

Which of the following universities were established in the same year of 1916 ?

- (A) Bombay University
- (B) Banaras Hindu University
- (C) Mysore University
- (D) S.N.DT Women University
- (E) Punjab University

Choose the **correct** answer from the options given below :

- (1) (A), (B) and (C) Only
- (2) (B), (C) and (D) Only
- (3) (C), (D) and (E) Only
- (4) (A), (C) and (E) Only

**Options :**

878270156013. 1

878270156014. 2

878270156015. 3

878270156016. 4

**Question Number : 44 Question Id : 87827039713 Question Type : MCQ Option Shuffling : No**

**Is Question Mandatory : No Calculator : None Response Time : N.A Think Time : N.A**

**Minimum Instruction Time : 0**

**Correct Marks : 2 Wrong Marks : 0**

निम्नलिखित में से किन-किन विश्वविद्यालयों की स्थापना वर्ष 1916 में ही हुई थी ?

- (A) बॉम्बे यूनिवर्सिटी
- (B) बनारस हिंदू विश्वविद्यालय
- (C) मैसूर यूनिवर्सिटी
- (D) एस एन डी टी वीमेन यूनिवर्सिटी
- (E) पंजाब विश्वविद्यालय

नीचे दिए गए विकल्पों में से सही उत्तर का चयन कीजिए :

- (1) केवल (A), (B) और (C)
- (2) केवल (B), (C) और (D)
- (3) केवल (C), (D) और (E)
- (4) केवल (A), (C) और (E)

**Options :**

878270156013. 1

878270156014. 2

878270156015. 3

878270156016. 4

**Question Number : 45 Question Id : 87827039714 Question Type : MCQ Option Shuffling : No**

**Is Question Mandatory : No Calculator : None Response Time : N.A Think Time : N.A**

**Minimum Instruction Time : 0**

**Correct Marks : 2 Wrong Marks : 0**

Given below are two statements :

**Statement I :** If big corporate houses establish universities in India, quality professional training and education can be given to students.

**Statement II :** It is expected that universities and institutes established by corporate houses will be world leaders in education.

In the light of the above statements, choose the **most appropriate answer** from the options given below :

- (1) Both **Statement I** and **Statement II** are correct
- (2) Both **Statement I** and **Statement II** are incorrect
- (3) **Statement I** is correct but **Statement II** is incorrect
- (4) **Statement I** is incorrect but **Statement II** is correct

**Options :**

878270156017. 1

878270156018. 2

878270156019. 3

878270156020. 4

**Question Number : 45 Question Id : 87827039714 Question Type : MCQ Option Shuffling : No****Is Question Mandatory : No Calculator : None Response Time : N.A Think Time : N.A****Minimum Instruction Time : 0****Correct Marks : 2 Wrong Marks : 0**

नीचे दो कथन दिए गए हैं :

**कथन (I) :** यदि बड़े कॉरपोरेट घराने भारत में विश्वविद्यालय की स्थापना करें, तो विद्यार्थियों को गुणवत्तापूर्ण व्यावसायिक प्रशिक्षण तथा शिक्षा प्रदान की जा सकती है।

**कथन (II) :** यह आशा की जाती है कि कॉरपोरेट घरानों द्वारा स्थापित किये जाने वाले विश्वविद्यालय तथा संस्थान शिक्षा में विश्व में अग्रणी होंगे।

उपरोक्त कथन के आलोक में, नीचे दिए गए विकल्पों में से सही उत्तर चयन कीजिए :

- (1) कथन I और कथन II दोनों सत्य है
- (2) कथन I और कथन II दोनों असत्य है
- (3) कथन I सत्य है, लेकिन कथन II असत्य है
- (4) कथन I असत्य है, लेकिन कथन II सत्य है

**Options :**

878270156017. 1

878270156018. 2

878270156019. 3

878270156020. 4

**Sub-Section Number :**

3

**Sub-Section Id :**

8782701667

**Question Shuffling Allowed :**

Yes

**Is Section Default? :**

null



**Question Id : 87827039715 Question Type : COMPREHENSION Sub Question Shuffling Allowed**

**: Yes Group Comprehension Questions : No Question Pattern Type : NonMatrix Calculator :**

**None Response Time : N.A Think Time : N.A Minimum Instruction Time : 0**

**Question Numbers : (46 to 50)**

Question Label : Comprehension

Read the following passage and answer the questions that follow :

Animals communicate with one another in many interesting ways. These may consist of signs, gestures, looks, sounds, smells or even light produced by the body. Song and dance are the other means of communication.

When faced with danger, animals warn others using signals such as mock charges, grimaces or sound. They also call their mates, inform other members of the group about the source of food, advertise territory and 'teach' the young the ways of the world. Baby birds call their parents for help and attention and demand food.

Far from being a silent world, the ocean is a noisy place. Fishes, molluscs, sea lions, walruses, whales and dolphins chatter away in the waters using a variety of sounds-whistles, squeaks, clicks and groans which range from low pitch to ultrasonic sounds beyond the range of human hearing. Whales and dolphins are sometimes called the 'musicians of the sea' as birds are of the sky.

**Sub questions**

**Question Number : 46 Question Id : 87827039716 Question Type : MCQ Option Shuffling : No**

**Is Question Mandatory : No Calculator : None Response Time : N.A Think Time : N.A**

**Minimum Instruction Time : 0**

**Correct Marks : 2 Wrong Marks : 0**

Animals use sounds to :

- (A) Advertise territory
- (B) Warn of dangers
- (C) Call their mates
- (D) Invite their enemies
- (E) Inform others about source of food

Choose the **correct** answer from the options given below :

- (1) (B), (C) and (D) Only
- (2) (A), (B) and (C) Only
- (3) (A), (B), (C) and (E) Only
- (4) (C), (D) and (E) Only

**Options :**

878270156021. 1

878270156022. 2

878270156023. 3

878270156024. 4

**Question Number : 47 Question Id : 87827039717 Question Type : MCQ Option Shuffling : No**

**Is Question Mandatory : No Calculator : None Response Time : N.A Think Time : N.A**

**Minimum Instruction Time : 0**

**Correct Marks : 2 Wrong Marks : 0**

What are the various ways in which animals communicate with one another ?

(A) Song and dance

(B) Speech

(C) Signs

(D) Sounds

(E) Words

Choose the correct answer from the options given below :

(1) (C), (D) and (E) Only

(2) (A), (B) and (E) Only

(3) (A), (C) and (D) Only

(4) (A) and (B) Only

**Options :**

878270156025. 1

878270156026. 2

878270156027. 3

878270156028. 4

**Question Number : 48 Question Id : 87827039718 Question Type : MCQ Option Shuffling : No**

**Is Question Mandatory : No Calculator : None Response Time : N.A Think Time : N.A**

**Minimum Instruction Time : 0**

**Correct Marks : 2 Wrong Marks : 0**

The musicians of the sky are :

- (1) Walruses
- (2) Animals
- (3) Dolphins
- (4) Birds

**Options :**

878270156029. 1

878270156030. 2

878270156031. 3

878270156032. 4

**Question Number : 49 Question Id : 87827039719 Question Type : MCQ Option Shuffling : No**

**Is Question Mandatory : No Calculator : None Response Time : N.A Think Time : N.A**

**Minimum Instruction Time : 0**

**Correct Marks : 2 Wrong Marks : 0**

'Ultrasonic sounds' are sounds which are :

- (1) Liked by humans
- (2) Audible to humans
- (3) Disliked by humans
- (4) Inaudible to humans

**Options :**

878270156033. 1

878270156034. 2

878270156035. 3

878270156036. 4

**Question Number : 50 Question Id : 87827039720 Question Type : MCQ Option Shuffling : No**

**Is Question Mandatory : No Calculator : None Response Time : N.A Think Time : N.A**

**Minimum Instruction Time : 0**

**Correct Marks : 2 Wrong Marks : 0**

Given below are two statements :

**Statement I :** Sharks and crocodiles are called the musicians of the sea.

**Statement II :** Baby birds cannot express their needs.

In the light of the above statements, choose the **most appropriate answer** from the options given below :

- (1) Both **Statement I** and **Statement II** are correct
- (2) Both **Statement I** and **Statement II** are incorrect
- (3) **Statement I** is correct but **Statement II** is incorrect
- (4) **Statement I** is incorrect but **Statement II** is correct

**Options :**

878270156037. 1

878270156038. 2

878270156039. 3

878270156040. 4

**Question Id : 87827039715 Question Type : COMPREHENSION Sub Question Shuffling Allowed**

**: Yes Group Comprehension Questions : No Question Pattern Type : NonMatrix Calculator :**

**None Response Time : N.A Think Time : N.A Minimum Instruction Time : 0**

**Question Numbers : (46 to 50)**

Question Label : Comprehension

निम्नलिखित गद्यांश को ध्यानपूर्वक पढ़िए और दिए गए प्रश्नों के उत्तर दीजिए :

पशु एक-दूसरे से अनेक रोचक तरीकों से सम्प्रेषण करते हैं। इनमें संकेत, भाव-भंगिमाएं रूप-रंग, आवाज, शरीर से उत्पन्न किए गए गंध या प्रकाश भी शामिल हैं। गीत और नृत्य सम्प्रेषण के अन्य साधन हैं। जब पशु संकट में फंस जाते हैं तो वे दूसरे पशुओं को घुड़की, मुख विकृति या आवाज जैसे संकेत देकर चेतावनी देते हैं। वे अपने जीवन साथी को भी आवाज देते हैं, समूह के अन्य सदस्यों को भोजन के स्रोत के बारे में सूचित करते हैं, भू-भाग के बारे में बताते हैं और अपने बच्चों को संसार में जीने के तरीके 'सिखाते' हैं। पक्षियों के चूजे अपने माता-पिता को सहायता के लिए बुलाते हैं, उनका ध्यान अपनी ओर खींचते हैं और भोजन माँगते हैं।

महासागर शान्त संसार न होकर शोरगुल वाले स्थान होते हैं। मछलियां, कवचधारी जीव, समुद्री शेर, बालरस, ह्वेल और डॉल्फिन पानी में तरह-तरह की आवाज निकालते हैं, जैसे-सीटी बजाना, चीं-चीं करना, टिकटिक और कराहना जिनका दायरा धीमे स्वर से लोकर पराश्रव्य ध्वनि तक है जो मनुष्य के सुनने की सीमा से परे है। जिस प्रकार पक्षीगण आसमान के संगीतकार हैं, उसी प्रकार ह्वेल और डॉल्फिन को कभी-कभी "समुद्र के संगीतकार" कहा जाता है।

**Sub questions**

**Question Number : 46 Question Id : 87827039716 Question Type : MCQ Option Shuffling : No**

**Is Question Mandatory : No Calculator : None Response Time : N.A Think Time : N.A**

**Minimum Instruction Time : 0**

**Correct Marks : 2 Wrong Marks : 0**

पशु ध्वनि का प्रयोग किस उद्देश्य के लिए करते हैं?

- (A) भू-भाग के बारे में अन्य पशुओं को जानकारी देने के लिए
- (B) खतरों की चेतावनी देने के लिए
- (C) अपने जीवन साथी को बुलाने के लिए
- (D) अपने शत्रुओं को आमंत्रित करने के लिए
- (E) दूसरों को भोजन के स्रोत के बारे में सूचित करने के लिए

नीचे दिए गए विकल्पों में से **सही उत्तर** का चयन कीजिए :

- (1) केवल (B), (C) और (D)
- (2) केवल (A), (B) और (C)
- (3) केवल (A), (B), (C) और (E)
- (4) केवल (C), (D) और (E)

**Options :**

878270156021. 1

878270156022. 2

878270156023. 3

878270156024. 4

**Question Number : 47 Question Id : 87827039717 Question Type : MCQ Option Shuffling : No**

**Is Question Mandatory : No Calculator : None Response Time : N.A Think Time : N.A**

**Minimum Instruction Time : 0**

**Correct Marks : 2 Wrong Marks : 0**

पशुओं द्वारा एक-दूसरे से बातचीत करने के विभिन्न तरीके क्या हैं ?

- (A) गाना और नृत्य
- (B) वाणी
- (C) संकेत
- (D) ध्वनि
- (E) शब्द

नीचे दिए गए विकल्पों में से सही उत्तर का चयन कीजिए :

- (1) केवल (C), (D) और (E)
- (2) केवल (A), (B) और (E)
- (3) केवल (A), (C) और (D)
- (4) केवल (A) और (B)

**Options :**

- 878270156025. 1
- 878270156026. 2
- 878270156027. 3
- 878270156028. 4

**Question Number : 48 Question Id : 87827039718 Question Type : MCQ Option Shuffling : No**

**Is Question Mandatory : No Calculator : None Response Time : N.A Think Time : N.A**

**Minimum Instruction Time : 0**

**Correct Marks : 2 Wrong Marks : 0**

आसमान के संगीतकार हैं :

- (1) वालरस
- (2) पशु
- (3) डॉल्फिन
- (4) पक्षी

**Options :**

- 878270156029. 1
- 878270156030. 2
- 878270156031. 3

878270156032. 4

**Question Number : 49 Question Id : 87827039719 Question Type : MCQ Option Shuffling : No**

**Is Question Mandatory : No Calculator : None Response Time : N.A Think Time : N.A**

**Minimum Instruction Time : 0**

**Correct Marks : 2 Wrong Marks : 0**

'पराश्रव्य ध्वनियाँ' ऐसी ध्वनियाँ हैं जो :

- (1) मनुष्यों द्वारा पसन्द की जाती हैं।
- (2) मनुष्यों द्वारा श्रव्य होती हैं।
- (3) मनुष्यों द्वारा नापसंद की जाती हैं।
- (4) मनुष्यों द्वारा अश्रव्य होती हैं।

**Options :**

878270156033. 1

878270156034. 2

878270156035. 3

878270156036. 4

**Question Number : 50 Question Id : 87827039720 Question Type : MCQ Option Shuffling : No**

**Is Question Mandatory : No Calculator : None Response Time : N.A Think Time : N.A**

**Minimum Instruction Time : 0**

**Correct Marks : 2 Wrong Marks : 0**

नीचे दो कथन दिए गए हैं :

**कथन (I) :** शार्क और मगरमच्छ समुद्र के गायक कहे जाते हैं।

**कथन (II) :** पक्षियों के चूजे अपनी जरूरतों को अभिव्यक्त नहीं कर सकते हैं।

उपरोक्त कथन के आलोक में, नीचे दिए गए विकल्पों में से **सही उत्तर** चयन कीजिए :

- (1) कथन I और कथन II दोनों सत्य है
- (2) कथन I और कथन II दोनों असत्य है
- (3) कथन I सत्य है, लेकिन कथन II असत्य है
- (4) कथन I असत्य है, लेकिन कथन II सत्य है

**Options :**

878270156037. 1

878270156038. 2

878270156039. 3

878270156040. 4

## Population Studies

<b>Section Id :</b>	878270925
<b>Section Number :</b>	2
<b>Section type :</b>	Online
<b>Mandatory or Optional :</b>	Mandatory
<b>Number of Questions :</b>	92
<b>Number of Questions to be attempted :</b>	92
<b>Section Marks :</b>	200
<b>Enable Mark as Answered Mark for Review and Clear Response :</b>	Yes
<b>Maximum Instruction Time :</b>	0
<b>Sub-Section Number :</b>	1
<b>Sub-Section Id :</b>	8782701668
<b>Question Shuffling Allowed :</b>	Yes
<b>Is Section Default? :</b>	null

**Question Number : 51 Question Id : 87827039721 Question Type : MCQ Option Shuffling : No**

**Is Question Mandatory : No Calculator : None Response Time : N.A Think Time : N.A**

**Minimum Instruction Time : 0**

**Correct Marks : 2 Wrong Marks : 0**



Which one of the following is NOT considered as main function of Geographical Information System (GIS) ?

- (1) Query
- (2) Argument
- (3) Store
- (4) Capture

**Options :**

878270156041. 1  
878270156042. 2  
878270156043. 3  
878270156044. 4

**Question Number : 51 Question Id : 87827039721 Question Type : MCQ Option Shuffling : No  
Is Question Mandatory : No Calculator : None Response Time : N.A Think Time : N.A**

**Minimum Instruction Time : 0**

**Correct Marks : 2 Wrong Marks : 0**

निम्नलिखित में से कौन भौगोलिक सूचना प्रणाली (जी आई एस) का मुख्य कार्य नहीं माना जाएगा ?

- (1) सवाल
- (2) कथन
- (3) संग्रहागार
- (4) प्रग्रहण

**Options :**

878270156041. 1  
878270156042. 2  
878270156043. 3  
878270156044. 4

**Question Number : 52 Question Id : 87827039722 Question Type : MCQ Option Shuffling : No  
Is Question Mandatory : No Calculator : None Response Time : N.A Think Time : N.A**

**Minimum Instruction Time : 0**

**Correct Marks : 2 Wrong Marks : 0**

The Coefficient of variation is computed by :

(1)  $\frac{SD}{Mean} \times 100$

(2)  $\frac{SD^2}{Mean}$

(3)  $\frac{Mean}{SD} \times 100$

(4)  $\frac{Mean}{SD^2}$

**Options :**

878270156045. 1

878270156046. 2

878270156047. 3

878270156048. 4

**Question Number : 52 Question Id : 87827039722 Question Type : MCQ Option Shuffling : No**

**Is Question Mandatory : No Calculator : None Response Time : N.A Think Time : N.A**

**Minimum Instruction Time : 0**

**Correct Marks : 2 Wrong Marks : 0**

विचरण गुणांक निम्न में किसके द्वारा अभिकलित होता है ?

(1)  $\frac{\text{मानक विचलन}}{\text{माध्य}} \times 100$

(2)  $\frac{(\text{मानक विचलन})^2}{\text{माध्य}}$

(3)  $\frac{\text{माध्य}}{\text{मानक विचलन}} \times 100$

(4)  $\frac{\text{माध्य}}{(\text{मानक विचलन})^2}$

**Options :**

878270156045. 1

878270156046. 2

878270156047. 3

878270156048. 4

**Question Number : 53 Question Id : 87827039723 Question Type : MCQ Option Shuffling : No**

**Is Question Mandatory : No Calculator : None Response Time : N.A Think Time : N.A**

**Minimum Instruction Time : 0**

**Correct Marks : 2 Wrong Marks : 0**

Type-I error occurs when :

- (1) We reject  $H_0$  if it is True
- (2) We reject  $H_0$  if it is False
- (3) We accept  $H_0$  if it is True
- (4) We accept  $H_0$  if it is False

**Options :**

878270156049. 1

878270156050. 2

878270156051. 3

878270156052. 4

**Question Number : 53 Question Id : 87827039723 Question Type : MCQ Option Shuffling : No**

**Is Question Mandatory : No Calculator : None Response Time : N.A Think Time : N.A**

**Minimum Instruction Time : 0**

**Correct Marks : 2 Wrong Marks : 0**

Type-I त्रुटी होती है, जब :

- (1) हम  $H_0$  को अस्वीकार करते हैं, जब यह सही होता है।
- (2) हम  $H_0$  को अस्वीकार करते हैं, जब यह गलत होता है।
- (3) हम  $H_0$  को स्वीकार करते हैं, जब यह सही होता है।
- (4) हम  $H_0$  को स्वीकार करते हैं, जब यह गलत होता है।

**Options :**

878270156049. 1

878270156050. 2

878270156051. 3

878270156052. 4

**Question Number : 54 Question Id : 87827039724 Question Type : MCQ Option Shuffling : No**

**Is Question Mandatory : No Calculator : None Response Time : N.A Think Time : N.A**

**Minimum Instruction Time : 0**

**Correct Marks : 2 Wrong Marks : 0**

Relation between mean, median and mode is given by :

- (1)  $\text{Mode} = 2 \text{ median} - 3 \text{ mean}$
- (2)  $\text{Mode} = 2 \text{ median} + 3 \text{ mean}$
- (3)  $\text{Mode} = 3 \text{ median} - 2 \text{ mean}$
- (4)  $\text{Mode} = 3 \text{ median} + 2 \text{ mean}$

**Options :**

878270156053. 1

878270156054. 2

878270156055. 3

878270156056. 4

**Question Number : 54 Question Id : 87827039724 Question Type : MCQ Option Shuffling : No**

**Is Question Mandatory : No Calculator : None Response Time : N.A Think Time : N.A**

**Minimum Instruction Time : 0**

**Correct Marks : 2 Wrong Marks : 0**

माध्य, माध्यिका और बहुलक के बीच संबंध निम्न में किसके द्वारा दिया जाएगा ?

- (1)  $\text{बहुलक} = 2 \text{ माध्यिका} - 3 \text{ माध्य}$
- (2)  $\text{बहुलक} = 2 \text{ माध्यिका} + 3 \text{ माध्य}$
- (3)  $\text{बहुलक} = 3 \text{ माध्यिका} - 2 \text{ माध्य}$
- (4)  $\text{बहुलक} = 3 \text{ माध्यिका} + 2 \text{ माध्य}$

**Options :**

878270156053. 1

878270156054. 2

878270156055. 3

878270156056. 4

**Question Number : 55 Question Id : 87827039725 Question Type : MCQ Option Shuffling : No**

**Is Question Mandatory : No Calculator : None Response Time : N.A Think Time : N.A**

**Minimum Instruction Time : 0**

**Correct Marks : 2 Wrong Marks : 0**

The difference between the expected value of statistics and the value of the parameter being estimated is called :

- (1) Standard error
- (2) Bias
- (3) Sampling error
- (4) Non-sampling error

**Options :**

878270156057. 1

878270156058. 2

878270156059. 3

878270156060. 4

**Question Number : 55 Question Id : 87827039725 Question Type : MCQ Option Shuffling : No**

**Is Question Mandatory : No Calculator : None Response Time : N.A Think Time : N.A**

**Minimum Instruction Time : 0**

**Correct Marks : 2 Wrong Marks : 0**

प्राचल के आकलित मान और सांख्यिकी के अनुमानित मान के बीच का अंतर क्या कहलाता है?

- (1) मानक त्रुटि
- (2) बायस
- (3) प्रतिचयन त्रुटि
- (4) गैर-प्रतिचयन त्रुटि

**Options :**

878270156057. 1

878270156058. 2

878270156059. 3

878270156060. 4

**Question Number : 56 Question Id : 87827039726 Question Type : MCQ Option Shuffling : No**

**Is Question Mandatory : No Calculator : None Response Time : N.A Think Time : N.A**

**Minimum Instruction Time : 0**

**Correct Marks : 2 Wrong Marks : 0**

If the variance of the data is 121 then the standard deviation (SD) is :

- (1) 121
- (2) 21
- (3) 11
- (4) 12

**Options :**

878270156061. 1

878270156062. 2

878270156063. 3

878270156064. 4

**Question Number : 56 Question Id : 87827039726 Question Type : MCQ Option Shuffling : No**

**Is Question Mandatory : No Calculator : None Response Time : N.A Think Time : N.A**

**Minimum Instruction Time : 0**

**Correct Marks : 2 Wrong Marks : 0**

यदि डाटा का प्रसरण 121 तो डाटा का मानक विचलन होगा ?

- (1) 121
- (2) 21
- (3) 11
- (4) 12

**Options :**

878270156061. 1

878270156062. 2

878270156063. 3

878270156064. 4

**Question Number : 57 Question Id : 87827039727 Question Type : MCQ Option Shuffling : No  
Is Question Mandatory : No Calculator : None Response Time : N.A Think Time : N.A  
Minimum Instruction Time : 0**

**Correct Marks : 2 Wrong Marks : 0**

Number of deaths among children below 28 days of age is called :

- (1) Neonatal mortality
- (2) Postneonatal mortality
- (3) Infant mortality
- (4) Child mortality

**Options :**

- 878270156065. 1
- 878270156066. 2
- 878270156067. 3
- 878270156068. 4

**Question Number : 57 Question Id : 87827039727 Question Type : MCQ Option Shuffling : No  
Is Question Mandatory : No Calculator : None Response Time : N.A Think Time : N.A  
Minimum Instruction Time : 0**

**Correct Marks : 2 Wrong Marks : 0**

दिए गए काल-अंतराल के दौरान वर्ष के 28 दिनों से कम बच्चों की मृत्यु क्या कहलाती है ?

- (1) नवजात मृत्युदर
- (2) प्रसवोत्तर मृत्युदर
- (3) शिशु मृत्युदर
- (4) बाल मृत्युदर

**Options :**

- 878270156065. 1
- 878270156066. 2
- 878270156067. 3
- 878270156068. 4

**Question Number : 58 Question Id : 87827039728 Question Type : MCQ Option Shuffling : No**

**Is Question Mandatory : No Calculator : None Response Time : N.A Think Time : N.A**

**Minimum Instruction Time : 0**

**Correct Marks : 2 Wrong Marks : 0**

Where was Medical Certification of Cause of Death (MCCD) scheme introduced first time in India ?

- (1) Pune
- (2) Nagpur
- (3) Mumbai
- (4) Solapur

**Options :**

878270156069. 1

878270156070. 2

878270156071. 3

878270156072. 4

**Question Number : 58 Question Id : 87827039728 Question Type : MCQ Option Shuffling : No**

**Is Question Mandatory : No Calculator : None Response Time : N.A Think Time : N.A**

**Minimum Instruction Time : 0**

**Correct Marks : 2 Wrong Marks : 0**

भारत में पहली बार 'मेडिकल सर्टिफिकेट आफ काजेस आफ डेथ (एम सी सी डी)' योजना कहाँ लागू की गई थी ?

- (1) पुणे
- (2) नागपुर
- (3) मुम्बई
- (4) सोलापुर

**Options :**

878270156069. 1

878270156070. 2

878270156071. 3

878270156072. 4



**Question Number : 59 Question Id : 87827039729 Question Type : MCQ Option Shuffling : No**

**Is Question Mandatory : No Calculator : None Response Time : N.A Think Time : N.A**

**Minimum Instruction Time : 0**

**Correct Marks : 2 Wrong Marks : 0**

Which one of the following pair of columns of Life Table relates to person-years lived ?

- (1)  $l_x$  and  $T_x$
- (2)  $q_x$  and  $T_x$
- (3)  $L_x$  and  $T_x$
- (4)  $q_x$  and  $L_x$

**Options :**

878270156073. 1

878270156074. 2

878270156075. 3

878270156076. 4

**Question Number : 59 Question Id : 87827039729 Question Type : MCQ Option Shuffling : No**

**Is Question Mandatory : No Calculator : None Response Time : N.A Think Time : N.A**

**Minimum Instruction Time : 0**

**Correct Marks : 2 Wrong Marks : 0**

निम्नलिखित में से कौन सा जीवित व्यक्ति-वर्ष स्तर (पर्सन-इयर लिब्ड) की जीवन सारणी के युग्म स्तंभो (कॉलम) के का वर्णन करता है ?

- (1)  $l_x$  और  $T_x$
- (2)  $q_x$  और  $T_x$
- (3)  $L_x$  और  $T_x$
- (4)  $q_x$  और  $L_x$

**Options :**

878270156073. 1

878270156074. 2

878270156075. 3

878270156076. 4

**Question Number : 60 Question Id : 87827039730 Question Type : MCQ Option Shuffling : No**

**Is Question Mandatory : No Calculator : None Response Time : N.A Think Time : N.A**

**Minimum Instruction Time : 0**

**Correct Marks : 2 Wrong Marks : 0**

Which of the following is **NOT** the migration flow ?

- (1) Inter-district migration
- (2) Inter-state migration
- (3) Intra-district migration
- (4) Commuting between two places

**Options :**

878270156077. 1

878270156078. 2

878270156079. 3

878270156080. 4

**Question Number : 60 Question Id : 87827039730 Question Type : MCQ Option Shuffling : No**

**Is Question Mandatory : No Calculator : None Response Time : N.A Think Time : N.A**

**Minimum Instruction Time : 0**

**Correct Marks : 2 Wrong Marks : 0**

निम्नलिखित में से कौन प्रवासन प्रवाह नहीं है ?

- (1) अंतर जिला प्रवासन
- (2) अंतर राज्य प्रवासन
- (3) अंतः जिला प्रवासन
- (4) दो स्थानों के बीच आवागमन

**Options :**

878270156077. 1

878270156078. 2

878270156079. 3

878270156080. 4

**Question Number : 61 Question Id : 87827039731 Question Type : MCQ Option Shuffling : No**

**Is Question Mandatory : No Calculator : None Response Time : N.A Think Time : N.A**

**Minimum Instruction Time : 0**

**Correct Marks : 2 Wrong Marks : 0**

Who among the following has propounded the law of the primate city ?

- (1) Gosta Carlson
- (2) M. Jefferson
- (3) Homer Hoyt
- (4) P. J. Clark

**Options :**

878270156081. 1

878270156082. 2

878270156083. 3

878270156084. 4

**Question Number : 61 Question Id : 87827039731 Question Type : MCQ Option Shuffling : No**

**Is Question Mandatory : No Calculator : None Response Time : N.A Think Time : N.A**

**Minimum Instruction Time : 0**

**Correct Marks : 2 Wrong Marks : 0**

निम्नलिखित में से किसने प्रमुख शहर का सिद्धांत दिया है ?

- (1) गोस्टा कॉरलसन
- (2) एम. जेफरसन
- (3) होमर होएट
- (4) पी. जे. क्लारक

**Options :**

878270156081. 1

878270156082. 2

878270156083. 3

878270156084. 4

**Question Number : 62 Question Id : 87827039732 Question Type : MCQ Option Shuffling : No**

**Is Question Mandatory : No Calculator : None Response Time : N.A Think Time : N.A**

**Minimum Instruction Time : 0**

**Correct Marks : 2 Wrong Marks : 0**

Which is the main reason for migration among females according to Census of India, 2011 ?

- (1) Education
- (2) Marriage
- (3) Employment/work
- (4) Moved with household

**Options :**

878270156085. 1

878270156086. 2

878270156087. 3

878270156088. 4

**Question Number : 62 Question Id : 87827039732 Question Type : MCQ Option Shuffling : No**

**Is Question Mandatory : No Calculator : None Response Time : N.A Think Time : N.A**

**Minimum Instruction Time : 0**

**Correct Marks : 2 Wrong Marks : 0**

2011 भारत की जनगणना के अनुसार महिलाओं के प्रवासन के लिए मुख्य कारण क्या है ?

- (1) शिक्षा
- (2) विवाह
- (3) रोजगार/कार्य
- (4) परिवार के साथ जाना

**Options :**

878270156085. 1

878270156086. 2

878270156087. 3

878270156088. 4

**Question Number : 63 Question Id : 87827039733 Question Type : MCQ Option Shuffling : No**

**Is Question Mandatory : No Calculator : None Response Time : N.A Think Time : N.A**

**Minimum Instruction Time : 0**

**Correct Marks : 2 Wrong Marks : 0**

What is the proportion of Scheduled Castes (SC) population as per Census of India, 2011 ?

- (1) 15.2%
- (2) 15.6%
- (3) 16.6%
- (4) 16.2%

**Options :**

878270156089. 1

878270156090. 2

878270156091. 3

878270156092. 4

**Question Number : 63 Question Id : 87827039733 Question Type : MCQ Option Shuffling : No**

**Is Question Mandatory : No Calculator : None Response Time : N.A Think Time : N.A**

**Minimum Instruction Time : 0**

**Correct Marks : 2 Wrong Marks : 0**

2011 की जनगणना के अनुसार अनुसूचित जाति (एस सी) जनसंख्या का आबादी में कितना हिस्सा है ?

- (1) 15.2%
- (2) 15.6%
- (3) 16.6%
- (4) 16.2%

**Options :**

878270156089. 1

878270156090. 2

878270156091. 3

878270156092. 4

**Question Number : 64 Question Id : 87827039734 Question Type : MCQ Option Shuffling : No**

**Is Question Mandatory : No Calculator : None Response Time : N.A Think Time : N.A**

**Minimum Instruction Time : 0**

**Correct Marks : 2 Wrong Marks : 0**

Which of the following tribe has the highest percentage of population according to Census of India, 2011 ?

- (1) Santals
- (2) Gonds
- (3) Bhils
- (4) Oraon

**Options :**

878270156093. 1

878270156094. 2

878270156095. 3

878270156096. 4

**Question Number : 64 Question Id : 87827039734 Question Type : MCQ Option Shuffling : No**

**Is Question Mandatory : No Calculator : None Response Time : N.A Think Time : N.A**

**Minimum Instruction Time : 0**

**Correct Marks : 2 Wrong Marks : 0**

संख्यात्मक तौर पर भारत की 2011 की जनगणना के अनुसार भारत में सबसे बड़ी जनजाति कौन सी है?

- (1) सन्थाल
- (2) गोड
- (3) भील
- (4) उराव

**Options :**

878270156093. 1

878270156094. 2

878270156095. 3

878270156096. 4

**Question Number : 65 Question Id : 87827039735 Question Type : MCQ Option Shuffling : No**

**Is Question Mandatory : No Calculator : None Response Time : N.A Think Time : N.A**

**Minimum Instruction Time : 0**

**Correct Marks : 2 Wrong Marks : 0**

According to Census of India 2011, what is the estimated population of transgenders ?

- (1) 0.49 million
- (2) 0.45 million
- (3) 0.62 million
- (4) 0.51 million

**Options :**

878270156097. 1

878270156098. 2

878270156099. 3

878270156100. 4

**Question Number : 65 Question Id : 87827039735 Question Type : MCQ Option Shuffling : No**

**Is Question Mandatory : No Calculator : None Response Time : N.A Think Time : N.A**

**Minimum Instruction Time : 0**

**Correct Marks : 2 Wrong Marks : 0**

भारत की 2011 जनगणना के अनुसार, ट्रांसजेंडर की अनुमानित जनसंख्या क्या है?

- (1) 0.49 मिलियन
- (2) 0.45 मिलियन
- (3) 0.62 मिलियन
- (4) 0.51 मिलियन

**Options :**

878270156097. 1

878270156098. 2

878270156099. 3

878270156100. 4

**Question Number : 66 Question Id : 87827039736 Question Type : MCQ Option Shuffling : No**

**Is Question Mandatory : No Calculator : None Response Time : N.A Think Time : N.A**

**Minimum Instruction Time : 0**

**Correct Marks : 2 Wrong Marks : 0**

Which among the following is **NOT** a micronutrient deficiency under RMNCHA programme ?

- (1) Vitamin A
- (2) Iron
- (3) Iodine
- (4) Calcium

**Options :**

878270156101. 1

878270156102. 2

878270156103. 3

878270156104. 4

**Question Number : 66 Question Id : 87827039736 Question Type : MCQ Option Shuffling : No**

**Is Question Mandatory : No Calculator : None Response Time : N.A Think Time : N.A**

**Minimum Instruction Time : 0**

**Correct Marks : 2 Wrong Marks : 0**

निम्नलिखित में से कौन 'आर एम एन सी एच ऐ'(RMNCHA) प्रोग्राम के अंतर्गत सूक्ष्म पोषक नहीं है ?

- (1) विटामिन A
- (2) आइरन
- (3) आयोडीन
- (4) कैल्सियम

**Options :**

878270156101. 1

878270156102. 2

878270156103. 3

878270156104. 4

**Question Number : 67 Question Id : 87827039737 Question Type : MCQ Option Shuffling : No**

**Is Question Mandatory : No Calculator : None Response Time : N.A Think Time : N.A**

**Minimum Instruction Time : 0**

**Correct Marks : 2 Wrong Marks : 0**



The 42<sup>nd</sup> amendment of the Indian constitution (1976) has include "population control and family planning" in which of the following ?

- (1) Concurrent list
- (2) Central list
- (3) State list
- (4) Panchayat Raj Institution

**Options :**

878270156105. 1  
878270156106. 2  
878270156107. 3  
878270156108. 4

**Question Number : 67 Question Id : 87827039737 Question Type : MCQ Option Shuffling : No  
Is Question Mandatory : No Calculator : None Response Time : N.A Think Time : N.A  
Minimum Instruction Time : 0**

**Correct Marks : 2 Wrong Marks : 0**

भारतीय संविधान (1976) के 42 वें संसोधन में "जनसंख्या नियंत्रण और परिवार नियोजन" को निम्न से किसमें शामिल किया गया था ?

- (1) समवर्ती सूची
- (2) केन्द्र सूची
- (3) राज्य सूची
- (4) पंचायत राज संस्था

**Options :**

878270156105. 1  
878270156106. 2  
878270156107. 3  
878270156108. 4

**Question Number : 68 Question Id : 87827039738 Question Type : MCQ Option Shuffling : No  
Is Question Mandatory : No Calculator : None Response Time : N.A Think Time : N.A  
Minimum Instruction Time : 0**

**Correct Marks : 2 Wrong Marks : 0**

If 10 people die in a year out of 1000 population what will be the crude death rate in that year ?

- (1) 10
- (2) 9
- (3) 8
- (4) 7

**Options :**

878270156109. 1

878270156110. 2

878270156111. 3

878270156112. 4

**Question Number : 68 Question Id : 87827039738 Question Type : MCQ Option Shuffling : No**

**Is Question Mandatory : No Calculator : None Response Time : N.A Think Time : N.A**

**Minimum Instruction Time : 0**

**Correct Marks : 2 Wrong Marks : 0**

यदि वर्ष में 1000 जनसंख्या में से 10 लोग मरते हैं तो उस वर्ष में अशोधित मृत्यु दर प्रति 1000 क्या होगी ?

- (1) 10
- (2) 9
- (3) 8
- (4) 7

**Options :**

878270156109. 1

878270156110. 2

878270156111. 3

878270156112. 4

**Question Number : 69 Question Id : 87827039739 Question Type : MCQ Option Shuffling : No**

**Is Question Mandatory : No Calculator : None Response Time : N.A Think Time : N.A**

**Minimum Instruction Time : 0**

**Correct Marks : 2 Wrong Marks : 0**

Which of the following state is NOT listed as an Empowered Action Groups (EAG) state ?

- (1) Uttar Pradesh
- (2) Mizoram
- (3) Chhattisgarh
- (4) Jharkhand

**Options :**

878270156113. 1

878270156114. 2

878270156115. 3

878270156116. 4

**Question Number : 69 Question Id : 87827039739 Question Type : MCQ Option Shuffling : No**

**Is Question Mandatory : No Calculator : None Response Time : N.A Think Time : N.A**

**Minimum Instruction Time : 0**

**Correct Marks : 2 Wrong Marks : 0**

निम्नलिखित में से कौन सा राज्य अधिकारित प्राप्त कार्य समूह (ई ए जी) नहीं है ?

- (1) उत्तरखण्ड
- (2) मिज़ोरम
- (3) छत्तीसगढ़
- (4) झारखण्ड

**Options :**

878270156113. 1

878270156114. 2

878270156115. 3

878270156116. 4

**Question Number : 70 Question Id : 87827039740 Question Type : MCQ Option Shuffling : No**

**Is Question Mandatory : No Calculator : None Response Time : N.A Think Time : N.A**

**Minimum Instruction Time : 0**

**Correct Marks : 2 Wrong Marks : 0**

Which among the following is measured by child-women ratio ?

- (1) Fertility
- (2) Mortality
- (3) Migration
- (4) Family Planning

**Options :**

878270156117. 1

878270156118. 2

878270156119. 3

878270156120. 4

**Question Number : 70 Question Id : 87827039740 Question Type : MCQ Option Shuffling : No**

**Is Question Mandatory : No Calculator : None Response Time : N.A Think Time : N.A**

**Minimum Instruction Time : 0**

**Correct Marks : 2 Wrong Marks : 0**

निम्नलिखित में से किसका बाल-महिला अनुपात द्वारा मूल्यांकन किया जाता है ?

- (1) प्रजनन
- (2) मृत्युदर
- (3) प्रवासन
- (4) परिवान नियोजन

**Options :**

878270156117. 1

878270156118. 2

878270156119. 3

878270156120. 4

**Question Number : 71 Question Id : 87827039741 Question Type : MCQ Option Shuffling : No**

**Is Question Mandatory : No Calculator : None Response Time : N.A Think Time : N.A**

**Minimum Instruction Time : 0**

**Correct Marks : 2 Wrong Marks : 0**

According to World Health Organisation (WHO) infertility rate in India is estimated between :

- (1) 3.9% - 16.8%
- (2) 5.1% - 17.2%
- (3) 10.4% - 15.5%
- (4) 0.3% - 10.3%

**Options :**

878270156121. 1

878270156122. 2

878270156123. 3

878270156124. 4

**Question Number : 71 Question Id : 87827039741 Question Type : MCQ Option Shuffling : No**

**Is Question Mandatory : No Calculator : None Response Time : N.A Think Time : N.A**

**Minimum Instruction Time : 0**

**Correct Marks : 2 Wrong Marks : 0**

विश्व स्वास्थ्य संगठन (डब्ल्यू एच ओ) के अनुसार भारत में अप्रजनन दर निम्न से किसके बीच अनुमानित की गई है ?

- (1) 3.9% - 16.8%
- (2) 5.1% - 17.2%
- (3) 10.4% - 15.5%
- (4) 0.3% - 10.3%

**Options :**

878270156121. 1

878270156122. 2

878270156123. 3

878270156124. 4

**Question Number : 72 Question Id : 87827039742 Question Type : MCQ Option Shuffling : No**

**Is Question Mandatory : No Calculator : None Response Time : N.A Think Time : N.A**

**Minimum Instruction Time : 0**

**Correct Marks : 2 Wrong Marks : 0**

Which stage of Demographic Transition is characterised by a low birth rate and low death rate ?

- (1) Fifth stage
- (2) Third stage
- (3) Fourth stage
- (4) Second stage

**Options :**

878270156125. 1

878270156126. 2

878270156127. 3

878270156128. 4

**Question Number : 72 Question Id : 87827039742 Question Type : MCQ Option Shuffling : No**

**Is Question Mandatory : No Calculator : None Response Time : N.A Think Time : N.A**

**Minimum Instruction Time : 0**

**Correct Marks : 2 Wrong Marks : 0**

जनसांख्यिकीय संक्रमण कौन सा चरण निम्न जन्म दर और निम्न मृत्यु दर द्वारा उल्लेखित है ?

- (1) पाँचवा चरण
- (2) तीसरा चरण
- (3) चौथा चरण
- (4) दूसरा चरण

**Options :**

878270156125. 1

878270156126. 2

878270156127. 3

878270156128. 4

**Question Number : 73 Question Id : 87827039743 Question Type : MCQ Option Shuffling : No**

**Is Question Mandatory : No Calculator : None Response Time : N.A Think Time : N.A**

**Minimum Instruction Time : 0**

**Correct Marks : 2 Wrong Marks : 0**

Which marital status is **NOT** included in Census of India, 2011 ?

- (1) Divorced
- (2) Separated
- (3) Re-married
- (4) Never married

**Options :**

878270156129. 1

878270156130. 2

878270156131. 3

878270156132. 4

**Question Number : 73 Question Id : 87827039743 Question Type : MCQ Option Shuffling : No**

**Is Question Mandatory : No Calculator : None Response Time : N.A Think Time : N.A**

**Minimum Instruction Time : 0**

**Correct Marks : 2 Wrong Marks : 0**

भारत की 2011 की जनगणना में कौन सी वैवाहिक स्थिति सम्मिलित नहीं है ?

- (1) तलाकशुदा
- (2) पृथक्कृत
- (3) पुर्न: विवाह
- (4) कभी शादीशुदा नहीं

**Options :**

878270156129. 1

878270156130. 2

878270156131. 3

878270156132. 4

**Question Number : 74 Question Id : 87827039744 Question Type : MCQ Option Shuffling : No**

**Is Question Mandatory : No Calculator : None Response Time : N.A Think Time : N.A**

**Minimum Instruction Time : 0**

**Correct Marks : 2 Wrong Marks : 0**

According to NFHS-5, which five states have above replacement level fertility rate (TFR more than 2.1) ?

- (1) Bihar, Uttar Pradesh, Jharkhand, West Bengal, Punjab
- (2) Bihar, Uttar Pradesh, Haryana, Manipur, Jharkhand
- (3) Bihar, Meghalaya, Uttar Pradesh, Punjab, Jharkhand
- (4) Bihar, Meghalaya, Uttar Pradesh, Jharkhand, Manipur

**Options :**

878270156133. 1

878270156134. 2

878270156135. 3

878270156136. 4

**Question Number : 74 Question Id : 87827039744 Question Type : MCQ Option Shuffling : No**

**Is Question Mandatory : No Calculator : None Response Time : N.A Think Time : N.A**

**Minimum Instruction Time : 0**

**Correct Marks : 2 Wrong Marks : 0**

एन एफ एच एस-5 (NFHS-5) के अनुसार किन राज्यों में प्रतिस्थापन - स्तर प्रजनन दर अधिक है (टी एफ आर (TRF) 2.1 से अधिक)।

- (1) बिहार, उत्तर प्रदेश, झारखंड, पश्चिम बंगाल, पंजाब
- (2) बिहार, उत्तर प्रदेश, हरियाणा, मणिपुर, झारखंड
- (3) बिहार, मेघालय, उत्तर प्रदेश, पंजाब, झारखंड
- (4) बिहार, मेघालय, उत्तर प्रदेश, झारखंड, मणिपुर।

**Options :**

878270156133. 1

878270156134. 2

878270156135. 3

878270156136. 4

**Question Number : 75 Question Id : 87827039745 Question Type : MCQ Option Shuffling : No**

**Is Question Mandatory : No Calculator : None Response Time : N.A Think Time : N.A**

**Minimum Instruction Time : 0**



**Correct Marks : 2 Wrong Marks : 0**

According to Census of India 2011, what proportion of total population is disabled ?

- (1) 2.11%
- (2) 2.21%
- (3) 2.31%
- (4) 2.41%

**Options :**

- 878270156137. 1
- 878270156138. 2
- 878270156139. 3
- 878270156140. 4

**Question Number : 75 Question Id : 87827039745 Question Type : MCQ Option Shuffling : No**

**Is Question Mandatory : No Calculator : None Response Time : N.A Think Time : N.A**

**Minimum Instruction Time : 0**

**Correct Marks : 2 Wrong Marks : 0**

भारत की 2011 जनगणना के अनुसार, कुल जनसंख्या में दिव्यांगों का क्या हिस्सा है ?

- (1) 2.11%
- (2) 2.21%
- (3) 2.31%
- (4) 2.41%

**Options :**

- 878270156137. 1
- 878270156138. 2
- 878270156139. 3
- 878270156140. 4

**Question Number : 76 Question Id : 87827039746 Question Type : MCQ Option Shuffling : No**

**Is Question Mandatory : No Calculator : None Response Time : N.A Think Time : N.A**

**Minimum Instruction Time : 0**

**Correct Marks : 2 Wrong Marks : 0**

Which round of NSSO focused on social consumption of education and health ?

- (1) 69<sup>th</sup> Round
- (2) 70<sup>th</sup> Round
- (3) 71<sup>st</sup> Round
- (4) 72<sup>nd</sup> Round

**Options :**

878270156141. 1

878270156142. 2

878270156143. 3

878270156144. 4

**Question Number : 76 Question Id : 87827039746 Question Type : MCQ Option Shuffling : No**

**Is Question Mandatory : No Calculator : None Response Time : N.A Think Time : N.A**

**Minimum Instruction Time : 0**

**Correct Marks : 2 Wrong Marks : 0**

NSSO(एन एस एस ओ) का कौन सा राउन्ड शिक्षा और स्वास्थ्य के सामाजिक उपभोग पर केंद्रित है ?

- (1) 69 वां राउन्ड
- (2) 70 वां राउन्ड
- (3) 71 वां राउन्ड
- (4) 72 वां राउन्ड

**Options :**

878270156141. 1

878270156142. 2

878270156143. 3

878270156144. 4

**Question Number : 77 Question Id : 87827039747 Question Type : MCQ Option Shuffling : No**

**Is Question Mandatory : No Calculator : None Response Time : N.A Think Time : N.A**

**Minimum Instruction Time : 0**

**Correct Marks : 2 Wrong Marks : 0**

Which of the following agency publishes the Gender Development Index (GDI) ?

- (1) United Nations
- (2) World Health Organisation
- (3) United Nations Development Programme
- (4) World Bank

**Options :**

878270156145. 1

878270156146. 2

878270156147. 3

878270156148. 4

**Question Number : 77 Question Id : 87827039747 Question Type : MCQ Option Shuffling : No**

**Is Question Mandatory : No Calculator : None Response Time : N.A Think Time : N.A**

**Minimum Instruction Time : 0**

**Correct Marks : 2 Wrong Marks : 0**

लैंगिक विकास सूचकांक (जी डी आई) किस एजेंसी द्वारा प्रकाशित किया जाता है ?

- (1) संयुक्त राज्य
- (2) विश्व स्वास्थ्य संगठन
- (3) संयुक्त राष्ट्र विकास प्रोग्राम
- (4) विश्व बैंक

**Options :**

878270156145. 1

878270156146. 2

878270156147. 3

878270156148. 4

**Question Number : 78 Question Id : 87827039748 Question Type : MCQ Option Shuffling : No**

**Is Question Mandatory : No Calculator : None Response Time : N.A Think Time : N.A**

**Minimum Instruction Time : 0**

**Correct Marks : 2 Wrong Marks : 0**

Which among the following is used to calculate the index of ageing ratio ?

- (1) population in 60+ age to population under 15 years
- (2) population in 60+ age to population in 15-59 years
- (3) population under 15 years to population in 60+ age
- (4) population in 15-59 years to population in 60+ age

**Options :**

878270156149. 1

878270156150. 2

878270156151. 3

878270156152. 4

**Question Number : 78 Question Id : 87827039748 Question Type : MCQ Option Shuffling : No**

**Is Question Mandatory : No Calculator : None Response Time : N.A Think Time : N.A**

**Minimum Instruction Time : 0**

**Correct Marks : 2 Wrong Marks : 0**

निम्नलिखित में से किसका उपयोग जरण अनुपात के सूचकांक को ज्ञात करने के लिए किया जाता है ?

- (1) 60+आयु में जनसंख्या से, 15 वर्षों से कम जनसंख्या
- (2) 60+आयु में जनसंख्या से, 15-59 वर्षों से कम जनसंख्या
- (3) 15 वर्षों से कम जनसंख्या से, 60+ आयु में जनसंख्या
- (4) 15-59 वर्षों से कम जनसंख्या से, 60+ आयु में जनसंख्या

**Options :**

878270156149. 1

878270156150. 2

878270156151. 3

878270156152. 4

**Question Number : 79 Question Id : 87827039749 Question Type : MCQ Option Shuffling : No**

**Is Question Mandatory : No Calculator : None Response Time : N.A Think Time : N.A**

**Minimum Instruction Time : 0**

**Correct Marks : 2 Wrong Marks : 0**

In Regression Analysis, if a quantitative variable has 'n' categories, one can introduce :

- (1) Only  $n+1$  dummy variables
- (2) Only  $n-1$  dummy variables
- (3) Only  $n$  dummy variables
- (4) Only  $2n$  dummy variables

**Options :**

878270156153. 1

878270156154. 2

878270156155. 3

878270156156. 4

**Question Number : 79 Question Id : 87827039749 Question Type : MCQ Option Shuffling : No**

**Is Question Mandatory : No Calculator : None Response Time : N.A Think Time : N.A**

**Minimum Instruction Time : 0**

**Correct Marks : 2 Wrong Marks : 0**

समाश्रयण विश्लेषण में, यदि संख्यात्मक चरों के 'n' वर्ग हैं, तो कितने डमी चर (वैरिएबल) सम्मिलित हो सकते हैं?

- (1) केवल  $n+1$  छदम चर (डमी वैरिएबल)
- (2) केवल  $n-1$  छदम चर
- (3) केवल  $n$  छदम चर
- (4) केवल  $2n$  छदम चर

**Options :**

878270156153. 1

878270156154. 2

878270156155. 3

878270156156. 4

**Question Number : 80 Question Id : 87827039750 Question Type : MCQ Option Shuffling : No**

**Is Question Mandatory : No Calculator : None Response Time : N.A Think Time : N.A**

**Minimum Instruction Time : 0**

**Correct Marks : 2 Wrong Marks : 0**

Which agency publishes the Sample Registration System (SRS) reports in India ?

- (1) The office of the Registrar General, India
- (2) The office of Census Commissioner of India
- (3) Ministry of Human Resource Development, India
- (4) The office of the Sample Registration System, India

**Options :**

878270156157. 1

878270156158. 2

878270156159. 3

878270156160. 4

**Question Number : 80 Question Id : 87827039750 Question Type : MCQ Option Shuffling : No**

**Is Question Mandatory : No Calculator : None Response Time : N.A Think Time : N.A**

**Minimum Instruction Time : 0**

**Correct Marks : 2 Wrong Marks : 0**

भारत में प्रतिदर्श पंजीकरण प्रणाली (SRS) रिपोर्ट किस एजेंसी द्वारा प्रकाशित की जाती है ?

- (1) भारत का रजिस्ट्रार जनरल कार्यालय
- (2) भारत का जनगणना कमीशनर कार्यालय
- (3) भारत का मानव संसाधन विकास मंत्रालय
- (4) भारत का प्रतिदर्श पंजीकरण प्रणाली कार्यालय

**Options :**

878270156157. 1

878270156158. 2

878270156159. 3

878270156160. 4

**Question Number : 81 Question Id : 87827039751 Question Type : MCQ Option Shuffling : No**

**Is Question Mandatory : No Calculator : None Response Time : N.A Think Time : N.A**

**Minimum Instruction Time : 0**

**Correct Marks : 2 Wrong Marks : 0**

In which year, the epidemiological transition theory was first proposed by Abdel R. Omrain ?

- (1) 1971
- (2) 1972
- (3) 1970
- (4) 1973

**Options :**

878270156161. 1

878270156162. 2

878270156163. 3

878270156164. 4

**Question Number : 81 Question Id : 87827039751 Question Type : MCQ Option Shuffling : No**

**Is Question Mandatory : No Calculator : None Response Time : N.A Think Time : N.A**

**Minimum Instruction Time : 0**

**Correct Marks : 2 Wrong Marks : 0**

अब्देल आर. ओमराइन द्वारा महामारी विज्ञान संबंधी परिवर्तन सिद्धांत का प्रतिपादन किस वर्ष में किया गया था ?

- (1) 1971
- (2) 1972
- (3) 1970
- (4) 1973

**Options :**

878270156161. 1

878270156162. 2

878270156163. 3

878270156164. 4

**Question Number : 82 Question Id : 87827039752 Question Type : MCQ Option Shuffling : No**

**Is Question Mandatory : No Calculator : None Response Time : N.A Think Time : N.A**

**Minimum Instruction Time : 0**

**Correct Marks : 2 Wrong Marks : 0**

The situation when the natural population increase is subtracted from total change in population during a particular duration is called :

- (1) In-migration
- (2) Out-migration
- (3) Net-migration
- (4) Total-migration

**Options :**

878270156165. 1  
878270156166. 2  
878270156167. 3  
878270156168. 4

**Question Number : 82 Question Id : 87827039752 Question Type : MCQ Option Shuffling : No  
Is Question Mandatory : No Calculator : None Response Time : N.A Think Time : N.A  
Minimum Instruction Time : 0**

**Correct Marks : 2 Wrong Marks : 0**

ऐसी स्थिति को क्या कहा जाता है जब खास अवधि के दौरान नैसर्गिक जनसंख्या वृद्धि को जनसंख्या में कुल परिवर्तन से घटा दिया जाता है :

- (1) अन्तर्प्रवासन
- (2) बहिर्प्रवासन
- (3) निवल प्रवासन
- (4) कुल प्रवासन

**Options :**

878270156165. 1  
878270156166. 2  
878270156167. 3  
878270156168. 4

**Question Number : 83 Question Id : 87827039753 Question Type : MCQ Option Shuffling : No  
Is Question Mandatory : No Calculator : None Response Time : N.A Think Time : N.A  
Minimum Instruction Time : 0**



**Correct Marks : 2 Wrong Marks : 0**

What is meant by the term 'ecological foot print' ?

- (1) Increase in methane gas with industrialized methods of raising animals for food.
- (2) Increase in green house gas emission with landuse change
- (3) Increase in methane gas with mechanization of harvesting
- (4) Increase in green house gas emission with industrial activities

**Options :**

878270156169. 1

878270156170. 2

878270156171. 3

878270156172. 4

**Question Number : 83 Question Id : 87827039753 Question Type : MCQ Option Shuffling : No**

**Is Question Mandatory : No Calculator : None Response Time : N.A Think Time : N.A**

**Minimum Instruction Time : 0**

**Correct Marks : 2 Wrong Marks : 0**

परिस्थितिकीय फूटप्रिंट पद का क्या अभिप्राय है ?

- (1) भोजन के लिए पशुपालन की औद्योगिकीकृत विधि से मीथेन गैस में वृद्धि।
- (2) भूमि उपयोग में परिवर्तन से ग्रीनहाउस गैस उत्सर्जन में वृद्धि।
- (3) फसलों की कटाई के मशीनीकरण से मीथेन गैस में वृद्धि।
- (4) औद्योगिक क्रियाकलापों से ग्रीन हाउस गैस उत्सर्जन में वृद्धि।

**Options :**

878270156169. 1

878270156170. 2

878270156171. 3

878270156172. 4

**Question Number : 84 Question Id : 87827039754 Question Type : MCQ Option Shuffling : No**

**Is Question Mandatory : No Calculator : None Response Time : N.A Think Time : N.A**

**Minimum Instruction Time : 0**

**Correct Marks : 2 Wrong Marks : 0**

Which among the following term is used to explain the highest average daily nutrient intake level as recommended to almost all individuals ?

- (1) Recommended nutrient intake
- (2) Upper nutrient level
- (3) Estimated average requirement
- (4) Adequate intake

**Options :**

878270156173. 1

878270156174. 2

878270156175. 3

878270156176. 4

**Question Number : 84 Question Id : 87827039754 Question Type : MCQ Option Shuffling : No**

**Is Question Mandatory : No Calculator : None Response Time : N.A Think Time : N.A**

**Minimum Instruction Time : 0**

**Correct Marks : 2 Wrong Marks : 0**

उच्चतम औसत दैनिक पोषक आहार स्तर जिससे सामान्य आबादी में लगभग सभी व्यक्तियों के स्वास्थ्य पर प्रतिकूल प्रभाव का खतरा नहीं होने की संभावना है, निम्न में कौन सा है ?

- (1) अनुशंसित पोषक तत्व लेना
- (2) उच्चतर पोषण स्तर
- (3) अनुमानित औसत आवश्यकता
- (4) पर्याप्त मात्रा में आहार

**Options :**

878270156173. 1

878270156174. 2

878270156175. 3

878270156176. 4

**Question Number : 85 Question Id : 87827039755 Question Type : MCQ Option Shuffling : No**

**Is Question Mandatory : No Calculator : None Response Time : N.A Think Time : N.A**

**Minimum Instruction Time : 0**

**Correct Marks : 2 Wrong Marks : 0**

Which of the following method is used for adjustment of data from dual recording system ?

- (1) Reverse survival method
- (2) P/F ratio method
- (3) Rele's method
- (4) Chandrasekaran - Deming method

**Options :**

878270156177. 1

878270156178. 2

878270156179. 3

878270156180. 4

**Question Number : 85 Question Id : 87827039755 Question Type : MCQ Option Shuffling : No**

**Is Question Mandatory : No Calculator : None Response Time : N.A Think Time : N.A**

**Minimum Instruction Time : 0**

**Correct Marks : 2 Wrong Marks : 0**

द्वैघ रिकॉर्ड प्रणाली से आंकड़ों के समायोजन के लिए निम्नलिखित में कौन सी विधि का प्रयोग किया जाता है ?

- (1) उत्क्रम उत्तरजीविता विधि (रिवर्स सर्वाइवल मेथड)
- (2) पी/एफ अनुपात विधि
- (3) रेले विधि
- (4) चंद्रशेखरन-डेमिंग विधि

**Options :**

878270156177. 1

878270156178. 2

878270156179. 3

878270156180. 4

**Question Number : 86 Question Id : 87827039756 Question Type : MCQ Option Shuffling : No**

**Is Question Mandatory : No Calculator : None Response Time : N.A Think Time : N.A**

**Minimum Instruction Time : 0**

**Correct Marks : 2 Wrong Marks : 0**

Birth interval between the survey point and the following birth is called as :

- (1) Closed Birth interval
- (2) Open Birth interval
- (3) Forward Birth interval
- (4) Backward Birth interval

**Options :**

878270156181. 1

878270156182. 2

878270156183. 3

878270156184. 4

**Question Number : 86 Question Id : 87827039756 Question Type : MCQ Option Shuffling : No**

**Is Question Mandatory : No Calculator : None Response Time : N.A Think Time : N.A**

**Minimum Instruction Time : 0**

**Correct Marks : 2 Wrong Marks : 0**

सर्वेक्षण के समय और उसके बाद हुए जन्मों के बीच के जन्म अंतराल को क्या कहा जाता है ?

- (1) बंद जन्म अंतराल
- (2) खुला जन्म अंतराल
- (3) अग्रवर्ती जन्म अंतराल
- (4) पश्चवर्ती जन्म अंतराल

**Options :**

878270156181. 1

878270156182. 2

878270156183. 3

878270156184. 4

**Question Number : 87 Question Id : 87827039757 Question Type : MCQ Option Shuffling : No**

**Is Question Mandatory : No Calculator : None Response Time : N.A Think Time : N.A**

**Minimum Instruction Time : 0**

**Correct Marks : 2 Wrong Marks : 0**

The mean of the age - specific fertility distribution of a country is 0.70. The value of Gross Reproduction Rate (GRR) for the same country is 3.50. Find out the value of Net Reproduction Rate (NRR) :

- (1) 2.45
- (2) 3.50
- (3) 3.45
- (4) 4.93

**Options :**

878270156185. 1

878270156186. 2

878270156187. 3

878270156188. 4

**Question Number : 87 Question Id : 87827039757 Question Type : MCQ Option Shuffling : No**

**Is Question Mandatory : No Calculator : None Response Time : N.A Think Time : N.A**

**Minimum Instruction Time : 0**

**Correct Marks : 2 Wrong Marks : 0**

किसी देश के आयु-विशिष्ट प्रजनन वितरण का मध्यमान 0.70 है। उसी देश की सकल प्रजनन दर (जी आर आर) का मान 3.50 है। तो निवल प्रजनन दर (एन आर आर) का मान ज्ञात करें।

- (1) 2.45
- (2) 3.50
- (3) 3.45
- (4) 4.93

**Options :**

878270156185. 1

878270156186. 2

878270156187. 3

878270156188. 4

**Question Number : 88 Question Id : 87827039758 Question Type : MCQ Option Shuffling : No**

**Is Question Mandatory : No Calculator : None Response Time : N.A Think Time : N.A**

**Minimum Instruction Time : 0**

**Correct Marks : 2 Wrong Marks : 0**

How do you define Incidence rate of a disease ?

- (1) The rate of sickness and disability existing within a population
- (2) The total number of cases of a particular health condition within a population at a particular point of time.
- (3) The probability of the occurrence of a particular health condition within a population
- (4) The rate at which the onset of new cases of a particular health condition occurs

**Options :**

878270156189. 1

878270156190. 2

878270156191. 3

878270156192. 4

**Question Number : 88 Question Id : 87827039758 Question Type : MCQ Option Shuffling : No**

**Is Question Mandatory : No Calculator : None Response Time : N.A Think Time : N.A**

**Minimum Instruction Time : 0**

**Correct Marks : 2 Wrong Marks : 0**

किसी रोग की आपतन दर की परिभाषा है :

- (1) किसी जनसंख्या में विद्यमान रुग्णता और विकलांगता की दर।
- (2) किसी जनसंख्या में किसी विशिष्ट समय पर किसी विशिष्ट रोग के मामलों की कुल संख्या।
- (3) किसी जनसंख्या में कोई विशिष्ट रोग होने की प्रायिकता।
- (4) किसी विशिष्ट रोग के नए मामले सामने आने की दर।

**Options :**

878270156189. 1

878270156190. 2

878270156191. 3

878270156192. 4

**Question Number : 89 Question Id : 87827039759 Question Type : MCQ Option Shuffling : No**

**Is Question Mandatory : No Calculator : None Response Time : N.A Think Time : N.A**

**Minimum Instruction Time : 0**

**Correct Marks : 2 Wrong Marks : 0**

Which of the following correctly describes the criteria for high prevalence group of states for HIV infection in India ?

- (1)  $\geq 5\%$  prevalence among high risk population and  $>1\%$  prevalence in Antenatal women
- (2)  $\geq 3\%$  prevalence among high risk population and  $>1\%$  prevalence in Antenatal women
- (3)  $\geq 5\%$  prevalence among high risk population and  $>2\%$  prevalence in Antenatal women
- (4)  $\geq 5\%$  prevalence among high risk population as well as Antenatal women

**Options :**

878270156193. 1

878270156194. 2

878270156195. 3

878270156196. 4

**Question Number : 89 Question Id : 87827039759 Question Type : MCQ Option Shuffling : No**

**Is Question Mandatory : No Calculator : None Response Time : N.A Think Time : N.A**

**Minimum Instruction Time : 0**

**Correct Marks : 2 Wrong Marks : 0**

निम्नलिखित में से कौन सा विकल्प भारत में एच आई वी संक्रमण की उच्च दर वाले राज्यों के समूह के लिए सही मानदंड का वर्णन करता है ?

- (1) उच्च जोखिम वाली जनसंख्या में  $\geq 5\%$  दर और प्रसव-पूर्व महिलाओं में  $>1\%$  दर।
- (2) उच्च जोखिम वाली जनसंख्या में  $\geq 3\%$  दर और प्रसव-पूर्व महिलाओं में  $>1\%$  दर।
- (3) उच्च जोखिम वाली जनसंख्या में  $\geq 5\%$  दर और प्रसव-पूर्व महिलाओं में  $>2\%$  दर।
- (4) उच्च जोखिम वाली जनसंख्या के साथ-साथ प्रसव-पूर्व महिलाओं की जनसंख्या में  $\geq 5\%$  दर।

**Options :**

878270156193. 1

878270156194. 2

878270156195. 3

878270156196. 4

**Question Number : 90 Question Id : 87827039760 Question Type : MCQ Option Shuffling : No**

**Is Question Mandatory : No Calculator : None Response Time : N.A Think Time : N.A**

**Minimum Instruction Time : 0**

**Correct Marks : 2 Wrong Marks : 0**

Which of the following index has digit preference of '0' and '5' ?

- (1) Myer's Index
- (2) United joint score
- (3) Wheple's Index
- (4) Age-sex ratio score

**Options :**

878270156197. 1

878270156198. 2

878270156199. 3

878270156200. 4

**Question Number : 90 Question Id : 87827039760 Question Type : MCQ Option Shuffling : No**

**Is Question Mandatory : No Calculator : None Response Time : N.A Think Time : N.A**

**Minimum Instruction Time : 0**

**Correct Marks : 2 Wrong Marks : 0**

निम्नलिखित में से किस सूचकांक की अंक-अधिमानता ( डिजिट प्रिफरेंस '0' और '5' है।

- (1) मायर सूचकांक
- (2) एकीकृत संयुक्त प्राप्तांक
- (3) व्हिपल सूचकांक
- (4) आयु-लिंग अनुपात प्राप्तांक

**Options :**

878270156197. 1

878270156198. 2

878270156199. 3

878270156200. 4

**Question Number : 91 Question Id : 87827039761 Question Type : MCQ Option Shuffling : No**

**Is Question Mandatory : No Calculator : None Response Time : N.A Think Time : N.A**

**Minimum Instruction Time : 0**



**Correct Marks : 2 Wrong Marks : 0**

The main sources of error in demographic data generally are :

- (A) Coverage error
- (B) Content error
- (C) Sampling error
- (D) Non-sampling error

Choose the **correct** answer from the options given below :

- (1) (A), (D) only
- (2) (A), (B) only
- (3) (A), (C) only
- (4) (C), (D) only

**Options :**

878270156201. 1

878270156202. 2

878270156203. 3

878270156204. 4

**Question Number : 91 Question Id : 87827039761 Question Type : MCQ Option Shuffling : No**

**Is Question Mandatory : No Calculator : None Response Time : N.A Think Time : N.A**

**Minimum Instruction Time : 0**

**Correct Marks : 2 Wrong Marks : 0**

सामान्यतः जनसंख्या-दत्त (डेटा) त्रुटि के मुख्य (प्रमुख) स्रोत है :

- (A) विस्तार त्रुटि
- (B) मात्रा त्रुटि
- (C) नमूना त्रुटि
- (D) अ-नमूना त्रुटि

नीचे दिए गए विकल्पों में से **सही उत्तर** का चयन कीजिए :

- (1) केवल (A), (D)
- (2) केवल (A), (B)
- (3) केवल (A), (C)
- (4) केवल (C), (D)

**Options :**

878270156201. 1

878270156202. 2

878270156203. 3

878270156204. 4

**Question Number : 92 Question Id : 87827039762 Question Type : MCQ Option Shuffling : No**

**Is Question Mandatory : No Calculator : None Response Time : N.A Think Time : N.A**

**Minimum Instruction Time : 0**

**Correct Marks : 2 Wrong Marks : 0**

The monthly income (in Rs 1000) is given in the following two different living arrangements of 16 households in four clusters. The two situations are given below :

Situation - A				
Stratum/ Cluster	Monthly income of households			
1	5	6	8	4
2	20	25	15	30
3	55	60	50	45
4	95	80	75	45

Situation - B				
Stratum/ Cluster	Monthly income of households			
1	5	20	55	95
2	6	25	60	80
3	8	15	50	75
4	4	30	45	95

In which situation, stratified and cluster sampling would be preferred ?

- (A) Stratified sampling in situation - A
- (B) Cluster sampling in situation - B
- (C) Stratified sampling in situation - B
- (D) Cluster sampling in situation - A

Choose the **correct** answer from the options given below :

- (1) (C), (D) only
- (2) (A), (B) only
- (3) (A), (B), (C) only
- (4) (A), (B), (D) only

**Options :**

878270156205. 1

878270156206. 2

878270156207. 3

878270156208. 4

Question Number : 92 Question Id : 87827039762 Question Type : MCQ Option Shuffling : No

Is Question Mandatory : No Calculator : None Response Time : N.A Think Time : N.A

Minimum Instruction Time : 0

Correct Marks : 2 Wrong Marks : 0

निम्नलिखित दो विभिन्न जीवित व्यवस्था में गृहस्थों के समूह के मासिक आय (₹1000 में) दिया गया है। दो परिस्थितियाँ नीचे प्रदर्शित हैं :

परिस्थिति A				
सामाजिक स्तर समूह	गृहस्थों का मासिक आय			
1	5	6	8	4
2	20	25	15	30
3	55	60	50	45
4	95	80	75	45

परिस्थिति B				
सामाजिक स्तर समूह	गृहस्थों को मासिक आय			
1	5	20	55	95
2	6	25	60	80
3	8	15	50	75
4	4	30	45	95

निम्नलिखित किन परिस्थितियों में स्तरित एवं समूह नमूना वरीय होगा ?

- (A) स्तरित नमूना परिस्थिति A में
- (B) समूह नमूना परिस्थिति B में
- (C) स्तरित नमूना परिस्थिति B में
- (D) समूह नमूना परिस्थिति A में

नीचे दिए गए विकल्पों में से सही उत्तर का चयन कीजिए :

- (1) केवल (C), (D)
- (2) केवल (A), (B)
- (3) केवल (A), (B), (C)
- (4) केवल (A), (B), (D)

Options :

878270156205. 1

878270156206. 2

878270156207. 3

878270156208. 4

Question Number : 93 Question Id : 87827039763 Question Type : MCQ Option Shuffling : No

**Is Question Mandatory : No Calculator : None Response Time : N.A Think Time : N.A**

**Minimum Instruction Time : 0**

**Correct Marks : 2 Wrong Marks : 0**

Which of the following are elements of spatial overlays ?

- (A) Spatial auto - correlation
- (B) Buffer
- (C) Union
- (D) Clips
- (E) Downscaling

Choose the **correct** answer from the options given below :

- (1) (B), (C), (D) only
- (2) (A), (B), (E) only
- (3) (B), (D), (E) only
- (4) (C), (D), (E) only

**Options :**

878270156209. 1

878270156210. 2

878270156211. 3

878270156212. 4

**Question Number : 93 Question Id : 87827039763 Question Type : MCQ Option Shuffling : No**

**Is Question Mandatory : No Calculator : None Response Time : N.A Think Time : N.A**

**Minimum Instruction Time : 0**

**Correct Marks : 2 Wrong Marks : 0**

निम्नलिखित में से कौन स्थानिक आवरण के तत्व है?

- (A) स्थानिक स्वअन्तर्सम्बन्ध
- (B) प्रतिरोध
- (C) समूह
- (D) क्लिप्स
- (E) निम्नमापक्रम

नीचे दिए गए विकल्पों में से सही उत्तर का चयन कीजिए :

- (1) केवल (B), (C), (D)
- (2) केवल (A), (B), (E)
- (3) केवल (B), (D), (E)
- (4) केवल (C), (D), (E)

**Options :**

878270156209. 1

878270156210. 2

878270156211. 3

878270156212. 4

**Question Number : 94 Question Id : 87827039764 Question Type : MCQ Option Shuffling : No**

**Is Question Mandatory : No Calculator : None Response Time : N.A Think Time : N.A**

**Minimum Instruction Time : 0**

**Correct Marks : 2 Wrong Marks : 0**

What are the methods of Probability Sampling ?

- (A) Simple Random
- (B) Stratified
- (C) Probability Proportion to Size (PPS)
- (D) Systematic
- (E) Purposive

Choose the **correct** answer from the options given below :

- (1) (A), (B), (C), (E) only
- (2) (A), (B), (C), (D) only
- (3) (A), (B), (D), (E) only
- (4) (B), (C), (D), (E) only

**Options :**

878270156213. 1

878270156214. 2

878270156215. 3

878270156216. 4

**Question Number : 94 Question Id : 87827039764 Question Type : MCQ Option Shuffling : No**

**Is Question Mandatory : No Calculator : None Response Time : N.A Think Time : N.A**

**Minimum Instruction Time : 0**

**Correct Marks : 2 Wrong Marks : 0**

निम्न में से संभाव्यता नमूनों का तरीका क्या है?

- (A) साधारण यादृच्छिक
- (B) स्तरित
- (C) प्रोबेबिलिटी प्रोपोर्शन टू साइज ( पी.पी.एस)
- (D) सुव्यवस्थित
- (E) उद्देश्यपूर्ण

नीचे दिए गए विकल्पों में से सही उत्तर का चयन कीजिए :

- (1) केवल (A), (B), (C), (E)
- (2) केवल (A), (B), (C), (D)
- (3) केवल (A), (B), (D), (E)
- (4) केवल (B), (C), (D), (E)

**Options :**

878270156213. 1

878270156214. 2

878270156215. 3

878270156216. 4

**Question Number : 95 Question Id : 87827039765 Question Type : MCQ Option Shuffling : No**

**Is Question Mandatory : No Calculator : None Response Time : N.A Think Time : N.A**

**Minimum Instruction Time : 0**

**Correct Marks : 2 Wrong Marks : 0**

List the major initiatives which were started as part of the National Rural Health Mission (NRHM) :

- (A) ASHA
- (B) The Village Health Sanitation and Nutrition Committees
- (C) Medical Termination of Pregnancy
- (D) Patient Welfare Committee
- (E) Anganwadi

Choose the **correct** answer from the options given below :

- (1) (C), (D), (E) only
- (2) (B), (D), (E) only
- (3) (A), (B), (D) only
- (4) (B), (C), (D) only

**Options :**

878270156217. 1

878270156218. 2

878270156219. 3

878270156220. 4

**Question Number : 95 Question Id : 87827039765 Question Type : MCQ Option Shuffling : No**

**Is Question Mandatory : No Calculator : None Response Time : N.A Think Time : N.A**

**Minimum Instruction Time : 0**

**Correct Marks : 2 Wrong Marks : 0**



राष्ट्रीय ग्रामीण स्वास्थ्य अभियान (NRHM) के अन्तर्गत प्रारम्भ किए गये प्रमुख शुरूआत को सारणीकृत करिये :

- (A) आशा
- (B) ग्रामीण स्वास्थ्य स्वच्छता और पोषण समिति
- (C) गर्भावस्था का चिकित्सकीय समापन
- (D) मरीज कल्याण समिति
- (E) आँगणवाड़ी

नीचे दिए गए विकल्पों में से सही उत्तर का चयन कीजिए :

- (1) केवल (C), (D), (E)
- (2) केवल (B), (D), (E)
- (3) केवल (A), (B), (D)
- (4) केवल (B), (C), (D)

**Options :**

- 878270156217. 1
- 878270156218. 2
- 878270156219. 3
- 878270156220. 4

**Question Number : 96 Question Id : 87827039766 Question Type : MCQ Option Shuffling : No**

**Is Question Mandatory : No Calculator : None Response Time : N.A Think Time : N.A**

**Minimum Instruction Time : 0**

**Correct Marks : 2 Wrong Marks : 0**

Who are the food security agents in India ?

- (A) Farmers
- (B) Cultivators
- (C) Agricultural Labour
- (D) Consumer
- (E) Land

Choose the **correct** answer from the options given below :

- (1) (A), (B), (C), (E) only
- (2) (A), (B), (D), (E) only
- (3) (B), (C), (D), (E) only
- (4) (A), (B), (C), (D) only

**Options :**

878270156221. 1

878270156222. 2

878270156223. 3

878270156224. 4

**Question Number : 96 Question Id : 87827039766 Question Type : MCQ Option Shuffling : No**

**Is Question Mandatory : No Calculator : None Response Time : N.A Think Time : N.A**

**Minimum Instruction Time : 0**

**Correct Marks : 2 Wrong Marks : 0**

भारत में भोजन सुरक्षा के प्रतिनिधि कौन है ?

- (A) किसान
- (B) खेतिहर
- (C) कृषिश्रमिक
- (D) उपभोक्ता
- (E) भूमि

नीचे दिए गए विकल्पों में से सही उत्तर का चयन कीजिए :

- (1) केवल (A), (B), (C), (E)
- (2) केवल (A), (B), (D), (E)
- (3) केवल (B), (C), (D), (E)
- (4) केवल (A), (B), (C), (D)

**Options :**

878270156221. 1

878270156222. 2

878270156223. 3

878270156224. 4

**Question Number : 97 Question Id : 87827039767 Question Type : MCQ Option Shuffling : No**

**Is Question Mandatory : No Calculator : None Response Time : N.A Think Time : N.A**

**Minimum Instruction Time : 0**

**Correct Marks : 2 Wrong Marks : 0**

Sustainable Development Goals (SDG) include the following goals :

- (A) Zero hunger
- (B) Good health and well-being
- (C) Education for all
- (D) Gender equality
- (E) Clean environment

Choose the **correct** answer from the options given below :

- (1) (A), (B), (D) only
- (2) (B), (C), (D) only
- (3) (C), (D), (E) only
- (4) (A), (D), (E) only

**Options :**

878270156225. 1

878270156226. 2

878270156227. 3

878270156228. 4

**Question Number : 97 Question Id : 87827039767 Question Type : MCQ Option Shuffling : No**

**Is Question Mandatory : No Calculator : None Response Time : N.A Think Time : N.A**

**Minimum Instruction Time : 0**

**Correct Marks : 2 Wrong Marks : 0**

धारणीय विकास लक्ष्य (एस.डी.जी.) निम्नलिखित को समाहित करता है :

- (A) शून्य-भूख
- (B) अच्छा स्वास्थ्य और सुविवेचित अस्तित्व
- (C) सभी के लिए शिक्षा
- (D) लैंगिक समानता
- (E) स्वच्छ वातावरण ( पर्यावरण)

नीचे दिए गए विकल्पों में से सही उत्तर का चयन कीजिए :

- (1) केवल (A), (B), (D)
- (2) केवल (B), (C), (D)
- (3) केवल (C), (D), (E)
- (4) केवल (A), (D), (E)

**Options :**

- 878270156225. 1
- 878270156226. 2
- 878270156227. 3
- 878270156228. 4

**Question Number : 98 Question Id : 87827039768 Question Type : MCQ Option Shuffling : No**

**Is Question Mandatory : No Calculator : None Response Time : N.A Think Time : N.A**

**Minimum Instruction Time : 0**

**Correct Marks : 2 Wrong Marks : 0**

Which among the following are components of the impact formula proposed by Ehrlich (1990) to examine the role of population in environmental degradation ?

- (A) Affluence
- (B) Resource Depletion
- (C) Population
- (D) Technology
- (E) Industrial Activities

Choose the **correct** answer from the options given below :

- (1) (B), (C), (D) only
- (2) (B), (C), (E) only
- (3) (A), (C), (D) only
- (4) (A), (C), (E) only

**Options :**

878270156229. 1

878270156230. 2

878270156231. 3

878270156232. 4

**Question Number : 98 Question Id : 87827039768 Question Type : MCQ Option Shuffling : No**

**Is Question Mandatory : No Calculator : None Response Time : N.A Think Time : N.A**

**Minimum Instruction Time : 0**

**Correct Marks : 2 Wrong Marks : 0**

इहरलिय (1990) द्वारा प्रतिपादित प्रभावकारी सूल के कौन तत्व ( भाग ) हैं, जो जनसंख्या के प्रभाव से पर्यावरणीय क्षरण का परीक्षण करता है ?

- (A) प्राचुग्र
- (B) साधनक्षीणता
- (C) जनसंख्या
- (D) तकनीकि
- (E) औद्योगिक गतिधियाँ

नीचे दिए गए विकल्पों में से सही उत्तर का चयन कीजिए :

- (1) केवल (B), (C), (D)
- (2) केवल (B), (C), (E)
- (3) केवल (A), (C), (D)
- (4) केवल (A), (C), (E)

**Options :**

878270156229. 1

878270156230. 2

878270156231. 3

878270156232. 4

**Question Number : 99 Question Id : 87827039769 Question Type : MCQ Option Shuffling : No**

**Is Question Mandatory : No Calculator : None Response Time : N.A Think Time : N.A**

**Minimum Instruction Time : 0**

**Correct Marks : 2 Wrong Marks : 0**

Which among the following describe the characteristics of eco-city model of sustainable urbanisation ?

- (A) Self sustaining
- (B) Resilient building structure
- (C) Minimum waste generation
- (D) Expensive landscaping
- (E) Exclusion of the poor

Choose the **correct** answer from the options given below :

- (1) (A), (B), (C), (D), (E)
- (2) (A), (B), (C), (D) only
- (3) (A), (B), (C) only
- (4) (A), (B) only

**Options :**

878270156233. 1

878270156234. 2

878270156235. 3

878270156236. 4

**Question Number : 99 Question Id : 87827039769 Question Type : MCQ Option Shuffling : No**

**Is Question Mandatory : No Calculator : None Response Time : N.A Think Time : N.A**

**Minimum Instruction Time : 0**

**Correct Marks : 2 Wrong Marks : 0**



निम्नलिखित में कौन इको-सिटी मॉडलक की धारणीय शहरीकरण (नगरीकरण) विशेषता को व्याख्यायित करता है?

- (A) स्व-धारणीय
- (B) लोचदार महल संरचना
- (C) न्यूनतम अपशिष्ट प्रजनन
- (D) खर्चीला भू-दृश्य-निर्माण
- (E) गरीब का अपवर्जन

नीचे दिए गए विकल्पों में से सही उत्तर का चयन कीजिए :

- (1) (A), (B), (C), (D), (E)
- (2) केवल (A), (B), (C), (D)
- (3) केवल (A), (B), (C)
- (4) केवल (A), (B)

**Options :**

878270156233. 1

878270156234. 2

878270156235. 3

878270156236. 4

**Question Number : 100 Question Id : 87827039770 Question Type : MCQ Option Shuffling : No**

**Is Question Mandatory : No Calculator : None Response Time : N.A Think Time : N.A**

**Minimum Instruction Time : 0**

**Correct Marks : 2 Wrong Marks : 0**

Which of the following methods are used for an Indirect estimation of migration ?

- (A) Migration matrix
- (B) Census Survival Ratio
- (C) Vital statistics methods
- (D) Migration Rate method
- (E) Stream of migration

Choose the **correct** answer from the options given below :

- (1) (A) only
- (2) (A), (B), (C) only
- (3) (B), (C) only
- (4) (A), (B), (E) only

**Options :**

- 878270156237. 1
- 878270156238. 2
- 878270156239. 3
- 878270156240. 4

**Question Number : 100 Question Id : 87827039770 Question Type : MCQ Option Shuffling : No**

**Is Question Mandatory : No Calculator : None Response Time : N.A Think Time : N.A**

**Minimum Instruction Time : 0**

**Correct Marks : 2 Wrong Marks : 0**

निम्नलिखित में से कौन सी प्रक्रिया (तरीका) अप्रत्यक्ष प्रव्रजन आकलन के लिए प्रयोग किया जाता है ?

- (A) प्रव्रजन मात्रा
- (B) जनगणना उत्तरजीविता अनुपात
- (C) अनिवार्य सांख्यिकीय प्रक्रिया
- (D) प्रव्रजन दर प्रक्रिया
- (E) प्रव्रजन की धारा

नीचे दिए गए विकल्पों में से सही उत्तर का चयन कीजिए :

- (1) केवल (A)
- (2) केवल (A), (B), (C)
- (3) केवल (B), (C)
- (4) केवल (A), (B), (E)

**Options :**

- 878270156237. 1
- 878270156238. 2
- 878270156239. 3
- 878270156240. 4

**Question Number : 101 Question Id : 87827039771 Question Type : MCQ Option Shuffling : No**

**Is Question Mandatory : No Calculator : None Response Time : N.A Think Time : N.A**

**Minimum Instruction Time : 0**

**Correct Marks : 2 Wrong Marks : 0**

Which categories of migrants among the following form the diaspora community ?

- (A) Long term international migrant
- (B) Permanent international migrant
- (C) Refugees
- (D) Internally displaced population
- (E) Cyclically mobile

Choose the **correct** answer from the options given below :

- (1) (A), (B), (C) only
- (2) (B), (C), (D) only
- (3) (A), (B) only
- (4) (D), (E) only

**Options :**

878270156241. 1

878270156242. 2

878270156243. 3

878270156244. 4

**Question Number : 101 Question Id : 87827039771 Question Type : MCQ Option Shuffling : No**

**Is Question Mandatory : No Calculator : None Response Time : N.A Think Time : N.A**

**Minimum Instruction Time : 0**

**Correct Marks : 2 Wrong Marks : 0**

निम्नलिखित में से कौन सा प्रव्रजन समुदाय प्रवासी समुदाय के अंतर्गत आता है ?

- (A) अधिक समय के लिए अंतराष्ट्रीय प्रव्रजन
- (B) स्थायी अंतराष्ट्रीय प्रव्रजन
- (C) रिफ्यूजी
- (D) आन्तरिक विस्थापित जनसंख्या
- (E) चक्रीय गतिशील

नीचे दिए गए विकल्पों में से सही उत्तर का चयन कीजिए :

- (1) केवल (A), (B), (C)
- (2) केवल (B), (C), (D)
- (3) केवल (A), (B)
- (4) केवल (D), (E)

**Options :**

878270156241. 1

878270156242. 2

878270156243. 3

878270156244. 4

**Question Number : 102 Question Id : 87827039772 Question Type : MCQ Option Shuffling : No**

**Is Question Mandatory : No Calculator : None Response Time : N.A Think Time : N.A**

**Minimum Instruction Time : 0**

**Correct Marks : 2 Wrong Marks : 0**

Which among the following are major risk factors of maternal mortality in the developing countries ?

- (A) Lack of prenatal care
- (B) Non-institutional delivery
- (C) Unsafe abortion
- (D) Social inequalities
- (E) Catastrophic health expenditure

Choose the **correct** answer from the options given below :

- (1) (C), (D), (E) only
- (2) (A), (C), (E) only
- (3) (A), (B), (C) only
- (4) (A), (B), (C), (D) only

**Options :**

878270156245. 1

878270156246. 2

878270156247. 3

878270156248. 4

**Question Number : 102 Question Id : 87827039772 Question Type : MCQ Option Shuffling : No**

**Is Question Mandatory : No Calculator : None Response Time : N.A Think Time : N.A**

**Minimum Instruction Time : 0**

**Correct Marks : 2 Wrong Marks : 0**

निम्नलिखित में से कौन सा मुख्य जोखिम विकासशील देशों में मातृत्व मृत्युदर का कारण है?

- (A) जन्मपूर्व देखभाल की कमी
- (B) गैर-संस्थानिक प्रसव
- (C) असुरक्षित गर्भपात
- (D) सामाजिक असमानता
- (E) आपाती स्वास्थ्य व्यय

नीचे दिए गए विकल्पों में से सही उत्तर का चयन कीजिए :

- (1) केवल (C), (D), (E)
- (2) केवल (A), (C), (E)
- (3) केवल (A), (B), (C)
- (4) केवल (A), (B), (C), (D)

**Options :**

878270156245. 1

878270156246. 2

878270156247. 3

878270156248. 4

**Question Number : 103 Question Id : 87827039773 Question Type : MCQ Option Shuffling : No**

**Is Question Mandatory : No Calculator : None Response Time : N.A Think Time : N.A**

**Minimum Instruction Time : 0**

**Correct Marks : 2 Wrong Marks : 0**

Which among the following are classified as the cause of death by the World Health Organisation (WHO) ?

- (A) Communicable diseases
- (B) Injury
- (C) Non-Communicable diseases
- (D) Not classified
- (E) Seasonal diseases

Choose the **correct** answer from the options given below :

- (1) (A), (C), (E) only
- (2) (A), (C), (D), (E) only
- (3) (A), (B), (C) only
- (4) (A), (B), (C), (D) only

**Options :**

878270156249. 1

878270156250. 2

878270156251. 3

878270156252. 4

**Question Number : 103 Question Id : 87827039773 Question Type : MCQ Option Shuffling : No**

**Is Question Mandatory : No Calculator : None Response Time : N.A Think Time : N.A**

**Minimum Instruction Time : 0**

**Correct Marks : 2 Wrong Marks : 0**

विश्व स्वास्थ्य संगठन (WHO), सामान्यतः मृत्यु के कारण को, किस श्रेणी में वर्गीकृत करता है?

- (A) संचारी
- (B) चोट
- (C) असंचारी
- (D) अवर्गीकृत
- (E) मौसमी

नीचे दिए गए विकल्पों में से सही उत्तर का चयन कीजिए :

- (1) केवल (A), (C), (E)
- (2) केवल (A), (C), (D), (E)
- (3) केवल (A), (B), (C)
- (4) केवल (A), (B), (C), (D)

**Options :**

878270156249. 1

878270156250. 2

878270156251. 3

878270156252. 4

**Question Number : 104 Question Id : 87827039774 Question Type : MCQ Option Shuffling : No**

**Is Question Mandatory : No Calculator : None Response Time : N.A Think Time : N.A**

**Minimum Instruction Time : 0**

**Correct Marks : 2 Wrong Marks : 0**



Which of the following can be calculated from the data collected for population pyramid ?

- (A) Age-sex structure
- (B) Infant mortality rate
- (C) Dependency Ratio
- (D) Sex structure
- (E) Life expectancy at birth

Choose the **correct** answer from the options given below :

- (1) (A), (B), (E) only
- (2) (A), (C), (D) only
- (3) (B), (C), (D) only
- (4) (A), (D), (E) only

**Options :**

878270156253. 1

878270156254. 2

878270156255. 3

878270156256. 4

**Question Number : 104 Question Id : 87827039774 Question Type : MCQ Option Shuffling : No**

**Is Question Mandatory : No Calculator : None Response Time : N.A Think Time : N.A**

**Minimum Instruction Time : 0**

**Correct Marks : 2 Wrong Marks : 0**

जनसंख्या पिरामिड के आकड़े से निम्नलिखित में से किसकी गणना की जा सकती है?

- (A) आयु-लिंग संरचना
- (B) शिशु मृत्यु दर
- (C) अश्रितता अनुपात
- (D) लैंगिक संरचना
- (E) जन्म के समय जीवन - प्रत्याशा

नीचे दिए गए विकल्पों में से सही उत्तर का चयन कीजिए :

- (1) केवल (A), (B), (E)
- (2) केवल (A), (C), (D)
- (3) केवल (B), (C), (D)
- (4) केवल (A), (D), (E)

**Options :**

878270156253. 1

878270156254. 2

878270156255. 3

878270156256. 4

**Question Number : 105 Question Id : 87827039775 Question Type : MCQ Option Shuffling : No**

**Is Question Mandatory : No Calculator : None Response Time : N.A Think Time : N.A**

**Minimum Instruction Time : 0**

**Correct Marks : 2 Wrong Marks : 0**

Which are the measures of dispersion ?

- (A) Mean
- (B) Mode
- (C) Range
- (D) Variance
- (E) Standard Deviation

Choose the **correct** answer from the options given below :

- (1) (A), (B), (C), (D) only
- (2) (A), (B), (C), (E) only
- (3) (C), (D), (E) only
- (4) (C), (B), (D), (E) only

**Options :**

878270156257. 1

878270156258. 2

878270156259. 3

878270156260. 4

**Question Number : 105 Question Id : 87827039775 Question Type : MCQ Option Shuffling : No**

**Is Question Mandatory : No Calculator : None Response Time : N.A Think Time : N.A**

**Minimum Instruction Time : 0**

**Correct Marks : 2 Wrong Marks : 0**

निम्नलिखित में से प्रकीर्णन की माप कौन सी हैं ?

- (A) मध्यमान
- (B) बहुलक
- (C) परास
- (D) प्रसरण
- (E) मानक विचलन

नीचे दिए गए विकल्पों में से सही उत्तर का चयन कीजिए :

- (1) केवल (A), (B), (C), (D)
- (2) केवल (A), (B), (C), (E)
- (3) केवल केवल (C), (D), (E)
- (4) केवल (C), (B), (D), (E)

**Options :**

878270156257. 1

878270156258. 2

878270156259. 3

878270156260. 4

**Question Number : 106 Question Id : 87827039776 Question Type : MCQ Option Shuffling : No**

**Is Question Mandatory : No Calculator : None Response Time : N.A Think Time : N.A**

**Minimum Instruction Time : 0**

**Correct Marks : 2 Wrong Marks : 0**

Which among the following sources provide information on migration in India ?

- (A) Census of India
- (B) Sample Registration System
- (C) National Sample Survey Organisation (NSSO)
- (D) Vital Registration System

Choose the **correct** answer from the options given below :

- (1) (A), (B), (C), (D) only
- (2) (A), (C) only
- (3) (A), (D) only
- (4) (B), (D) only

**Options :**

- 878270156261. 1
- 878270156262. 2
- 878270156263. 3
- 878270156264. 4

**Question Number : 106 Question Id : 87827039776 Question Type : MCQ Option Shuffling : No**

**Is Question Mandatory : No Calculator : None Response Time : N.A Think Time : N.A**

**Minimum Instruction Time : 0**

**Correct Marks : 2 Wrong Marks : 0**

निम्नलिखित में से कौन-से स्रोत भारत में प्रवासन की जानकारी प्रदान करते हैं ?

- (A) भारत की जनगणना
- (B) प्रतिदर्श पंजीकरण प्रणाली (एस आर एस)
- (C) राष्ट्रीय प्रतिदर्श सर्वेक्षण संगठन
- (D) वाइटल रजिस्ट्रेशन सिस्टम

नीचे दिए गए विकल्पों में से सही उत्तर का चयन कीजिए :

- (1) केवल (A), (B), (C), (D)
- (2) केवल (A), (C)
- (3) केवल (A), (D)
- (4) केवल (B), (D)

**Options :**

- 878270156261. 1
- 878270156262. 2
- 878270156263. 3
- 878270156264. 4

**Question Number : 107 Question Id : 87827039777 Question Type : MCQ Option Shuffling : No**

**Is Question Mandatory : No Calculator : None Response Time : N.A Think Time : N.A**

**Minimum Instruction Time : 0**

**Correct Marks : 2 Wrong Marks : 0**

Which of the following are components of a Census ?

- (A) Complete enumeration
- (B) Collection
- (C) Compilation
- (D) Printing
- (E) Dissemination

Choose the **correct** answer from the options given below :

- (1) (A), (B), (C), (D) only
- (2) (A), (B), (C), (E) only
- (3) (B), (C), (D), (E) only
- (4) (A), (C), (D), (E) only

**Options :**

878270156265. 1

878270156266. 2

878270156267. 3

878270156268. 4

**Question Number : 107 Question Id : 87827039777 Question Type : MCQ Option Shuffling : No**

**Is Question Mandatory : No Calculator : None Response Time : N.A Think Time : N.A**

**Minimum Instruction Time : 0**

**Correct Marks : 2 Wrong Marks : 0**

निम्नलिखित में से कौन-से जनगणना के घटक हैं ?

- (A) पूर्ण परिगणन
- (B) संग्रह
- (C) संकलन
- (D) मुद्रण
- (E) प्रसारण

नीचे दिए गए विकल्पों में से सही उत्तर का चयन कीजिए :

- (1) केवल (A), (B), (C), (D)
- (2) केवल (A), (B), (C), (E)
- (3) केवल (B), (C), (D), (E)
- (4) केवल (A), (C), (D), (E)

**Options :**

878270156265. 1

878270156266. 2

878270156267. 3

878270156268. 4

**Question Number : 108 Question Id : 87827039778 Question Type : MCQ Option Shuffling : No**

**Is Question Mandatory : No Calculator : None Response Time : N.A Think Time : N.A**

**Minimum Instruction Time : 0**

**Correct Marks : 2 Wrong Marks : 0**

What are the sources of data for infant death ?

- (A) NFHS
- (B) NSSO
- (C) Census
- (D) SRS
- (E) VRS

Choose the **correct** answer from the options given below :

- (1) (A), (B), (C), (D) only
- (2) (B), (C), (D), (E) only
- (3) (A), (C), (D), (E) only
- (4) (A), (B), (D), (E) only

**Options :**

878270156269. 1

878270156270. 2

878270156271. 3

878270156272. 4

**Question Number : 108 Question Id : 87827039778 Question Type : MCQ Option Shuffling : No**

**Is Question Mandatory : No Calculator : None Response Time : N.A Think Time : N.A**

**Minimum Instruction Time : 0**

**Correct Marks : 2 Wrong Marks : 0**



शिशु मृत्यु के आंकड़ों के स्रोत क्या हैं?

- (A) एन एफ एच एस
- (B) एन एस एस ओ
- (C) जनगणना
- (D) एस आर एस
- (E) वी आर एस

Choose the **correct** answer from the options given below :

- (1) केवल (A), (B), (C), (D)
- (2) केवल (B), (C), (D), (E)
- (3) केवल (A), (C), (D), (E)
- (4) केवल (A), (B), (D), (E)

**Options :**

878270156269. 1

878270156270. 2

878270156271. 3

878270156272. 4

**Question Number : 109 Question Id : 87827039779 Question Type : MCQ Option Shuffling : No**

**Is Question Mandatory : No Calculator : None Response Time : N.A Think Time : N.A**

**Minimum Instruction Time : 0**

**Correct Marks : 2 Wrong Marks : 0**

Which among the following are included in the intermediate variables determining fertility as proposed by Davis and Blake ?

- (A) Age of entry into union
- (B) Voluntary abstinence
- (C) Sex composition of previous children
- (D) Use of contraception
- (E) Death of the infant

Choose the **correct** answer from the options given below :

- (1) (A), (B), (C) only
- (2) (C), (B), (E) only
- (3) (A), (B), (D) only
- (4) (B), (C), (D) only

**Options :**

878270156273. 1

878270156274. 2

878270156275. 3

878270156276. 4

**Question Number : 109 Question Id : 87827039779 Question Type : MCQ Option Shuffling : No**

**Is Question Mandatory : No Calculator : None Response Time : N.A Think Time : N.A**

**Minimum Instruction Time : 0**

**Correct Marks : 2 Wrong Marks : 0**

निम्नलिखित में कौन डेविस और ब्लैक द्वारा प्रतिपादित मध्यवर्ती चर निर्धारक प्रजनन क्षमता में सम्मिलित है?

- (A) वैवाहिक समूह में प्रवेश की उम्र
- (B) वालेंट्री एब्सेनटिसम्
- (C) पूर्ववर्ती बच्चों का लिंग
- (D) गर्भनिरोधक का प्रयोग
- (E) शिशु मृत्यु

नीचे दिए गए विकल्पों में से सही उत्तर का चयन कीजिए :

- (1) केवल (A), (B), (C)
- (2) केवल (C), (B), (E)
- (3) केवल (A), (B), (D)
- (4) केवल (B), (C), (D)

**Options :**

878270156273. 1

878270156274. 2

878270156275. 3

878270156276. 4

**Question Number : 110 Question Id : 87827039780 Question Type : MCQ Option Shuffling : No**

**Is Question Mandatory : No Calculator : None Response Time : N.A Think Time : N.A**

**Minimum Instruction Time : 0**

**Correct Marks : 2 Wrong Marks : 0**

Which are the leading causes of deaths in India ?

- (A) Diseases of the circulatory system
- (B) Infection and parasitic diseases
- (C) Diseases of the respiratory system
- (D) Pregnancy and child-birth related conditions
- (E) Injury and poisoning

Choose the **correct** answer from the options given below :

- (1) (A), (B), (C), (E) only
- (2) (A), (B), (C), (D) only
- (3) (A), (C), (D), (E) only
- (4) (B), (C), (D), (E) only

**Options :**

878270156277. 1

878270156278. 2

878270156279. 3

878270156280. 4

**Question Number : 110 Question Id : 87827039780 Question Type : MCQ Option Shuffling : No**

**Is Question Mandatory : No Calculator : None Response Time : N.A Think Time : N.A**

**Minimum Instruction Time : 0**

**Correct Marks : 2 Wrong Marks : 0**

भारत के मृत्यु के प्रमुख कारण कौन हैं?

- (A) परिसंचरण तंत्र का रोग
- (B) संक्रामक और परजीवी रोग
- (C) श्वसन संबंधी रोग
- (D) गर्भधारण एवं शिशु-जन्म संबंधित अवस्था
- (E) चोट ओर विषाक्तीकरण

नीचे दिए गए विकल्पों में से सही उत्तर का चयन कीजिए :

- (1) केवल (A), (B), (C), (E)
- (2) केवल (A), (B), (C), (D)
- (3) केवल (A), (C), (D), (E)
- (4) केवल (B), (C), (D), (E)

**Options :**

878270156277. 1

878270156278. 2

878270156279. 3

878270156280. 4

**Question Number : 111 Question Id : 87827039781 Question Type : MCQ Option Shuffling : No**

**Is Question Mandatory : No Calculator : None Response Time : N.A Think Time : N.A**

**Minimum Instruction Time : 0**

**Correct Marks : 2 Wrong Marks : 0**

Which of the following components are part of Reproductive Health ?

- (A) Family Planning
- (B) Paralytic symptoms
- (C) Metabolic disorders
- (D) Sexual health
- (E) Maternal health

Choose the **correct** answer from the options given below :

- (1) (B), (C), (D), (E) only
- (2) (C), (D), (E) only
- (3) (A), (D), (E) only
- (4) (A), (C), (D), (E) only

**Options :**

878270156281. 1

878270156282. 2

878270156283. 3

878270156284. 4

**Question Number : 111 Question Id : 87827039781 Question Type : MCQ Option Shuffling : No**

**Is Question Mandatory : No Calculator : None Response Time : N.A Think Time : N.A**

**Minimum Instruction Time : 0**

**Correct Marks : 2 Wrong Marks : 0**

निम्न से कौन प्रजनन स्वास्थ्य के भाग है ?

- (A) परिवार नियोजन
- (B) अंगघाती लक्षण
- (C) उपापचयी अव्यवस्था
- (D) लैंगिक स्वास्थ्य
- (E) मातृत्व स्वास्थ्य

नीचे दिए गए विकल्पों में से सही उत्तर का चयन कीजिए :

- (1) केवल (B), (C), (D), (E)
- (2) केवल (C), (D), (E)
- (3) केवल (A), (D), (E)
- (4) केवल (A), (C), (D), (E)

**Options :**

878270156281. 1

878270156282. 2

878270156283. 3

878270156284. 4

**Question Number : 112 Question Id : 87827039782 Question Type : MCQ Option Shuffling : No**

**Is Question Mandatory : No Calculator : None Response Time : N.A Think Time : N.A**

**Minimum Instruction Time : 0**

**Correct Marks : 2 Wrong Marks : 0**

Identify the various theories of fertility transition :

- (A) Caldwell's theory of wealth flows
- (B) Ideational theory
- (C) Demographic transition theory
- (D) Malthusian theory
- (E) Epidemiological theory

Choose the **correct** answer from the options given below :

- (1) (A), (C), (D) only
- (2) (A), (B) only
- (3) (B), (C), (D), (E) only
- (4) (A), (B), (C), (D) only

**Options :**

878270156285. 1

878270156286. 2

878270156287. 3

878270156288. 4

**Question Number : 112 Question Id : 87827039782 Question Type : MCQ Option Shuffling : No**

**Is Question Mandatory : No Calculator : None Response Time : N.A Think Time : N.A**

**Minimum Instruction Time : 0**

**Correct Marks : 2 Wrong Marks : 0**



विभिन्न प्रजनन क्षमता संक्रमण सिद्धांतों को पहचान कीजिए :

- (A) कोल्डवेल का धन प्रवाह सिद्धान्त
- (B) आईडिशनल सिद्धान्त
- (C) जनसंख्या संक्रमण सिद्धान्त
- (D) माल्थेसियन सिद्धान्त
- (E) रोगविज्ञान सिद्धान्त

नीचे दिए गए विकल्पों में से सही उत्तर का चयन कीजिए :

- (1) केवल (A), (C), (D)
- (2) केवल (A), (B)
- (3) केवल (B), (C), (D), (E)
- (4) केवल (A), (B), (C), (D)

**Options :**

878270156285. 1

878270156286. 2

878270156287. 3

878270156288. 4

**Question Number : 113 Question Id : 87827039783 Question Type : MCQ Option Shuffling : No**

**Is Question Mandatory : No Calculator : None Response Time : N.A Think Time : N.A**

**Minimum Instruction Time : 0**

**Correct Marks : 2 Wrong Marks : 0**

Which among the following options may be considered as the period measures of fertility ?

- (A) Child-woman ratio
- (B) Gross reproduction rate
- (C) Net reproduction rate
- (D) Children ever born
- (E) Total fertility rate

Choose the **correct** answer from the options given below :

- (1) (B), (C), (E) only
- (2) (A), (D), (E) only
- (3) (A), (B), (C), (D) only
- (4) (A), (B), (C), (E) only

**Options :**

878270156289. 1

878270156290. 2

878270156291. 3

878270156292. 4

**Question Number : 113 Question Id : 87827039783 Question Type : MCQ Option Shuffling : No**

**Is Question Mandatory : No Calculator : None Response Time : N.A Think Time : N.A**

**Minimum Instruction Time : 0**

**Correct Marks : 2 Wrong Marks : 0**

निम्नलिखित विकल्पों में कौन सा प्रजनन क्षमता का सावधिक मूल्यांकन माना जाता है?

- (A) शिशु-महिला अनुपात
- (B) सकल प्रजनक दर
- (C) निवल प्रजनक दर
- (D) कभी भी जन्में बच्चे
- (E) कुल प्रजनन क्षमता दर

Choose the **correct** answer from the options given below :

- (1) केवल (B), (C), (E)
- (2) केवल (A), (D), (E)
- (3) केवल (A), (B), (C), (D)
- (4) केवल (A), (B), (C), (E)

**Options :**

878270156289. 1

878270156290. 2

878270156291. 3

878270156292. 4

**Question Number : 114 Question Id : 87827039784 Question Type : MCQ Option Shuffling : No**

**Is Question Mandatory : No Calculator : None Response Time : N.A Think Time : N.A**

**Minimum Instruction Time : 0**

**Correct Marks : 2 Wrong Marks : 0**

Which among the following are preconditions for a substantial fertility decline, according Ansley Coale ?

- (A) Acceptance of calculated choice as vital element in marital fertility
- (B) Perception of advantages from reduced fertility
- (C) Knowledge and mastery of effective techniques of control
- (D) Secular decline in mortality
- (E) Availability of method choice

Choose the **correct** answer from the options given below :

- (1) (A), (B), (E) only
- (2) (A), (B), (C) only
- (3) (B), (C), (D) only
- (4) (B), (D), (E) only

**Options :**

878270156293. 1

878270156294. 2

878270156295. 3

878270156296. 4

**Question Number : 114 Question Id : 87827039784 Question Type : MCQ Option Shuffling : No**

**Is Question Mandatory : No Calculator : None Response Time : N.A Think Time : N.A**

**Minimum Instruction Time : 0**

**Correct Marks : 2 Wrong Marks : 0**

ऑस्ले कोले के अनुसार प्रजननक्षमता की प्रामाणिक पूर्व अवस्था पतन का कारण, निम्न में से कौन है ?

- (A) पूर्वनिर्धारित विकल्प मातृत्व प्रजनन क्षमता के लिए एक वैध स्वीकृति।
- (B) प्रजनन क्षमता के घटने के लाभ का बोध
- (C) प्रभावी तकनीक पर नियंत्रण का ज्ञान एवं प्रवीणता
- (D) मृत्युता का लम्बी अवधि में क्षरण
- (E) विकल्प के तरीकों की उपलब्धता

नीचे दिए गए विकल्पों में से सही उत्तर का चयन कीजिए :

- (1) केवल (A), (B), (E)
- (2) केवल (A), (B), (C)
- (3) केवल (B), (C), (D)
- (4) केवल (B), (D), (E)

**Options :**

878270156293. 1

878270156294. 2

878270156295. 3

878270156296. 4

**Question Number : 115 Question Id : 87827039785 Question Type : MCQ Option Shuffling : No**

**Is Question Mandatory : No Calculator : None Response Time : N.A Think Time : N.A**

**Minimum Instruction Time : 0**

**Correct Marks : 2 Wrong Marks : 0**

Which among the following are components of the intermediate variable framework ?

- (A) Factors affecting exposure to intercourse
- (B) Factors affecting exposure to conception
- (C) Factors affecting exposure to contraception
- (D) Factors affecting gestation
- (E) Factors affecting migration

Choose the **correct** answer from the options given below :

- (1) (A), (B), (C) only
- (2) (A), (B), (D) only
- (3) (C), (D), (E) only
- (4) (B), (D), (E) only

**Options :**

878270156297. 1

878270156298. 2

878270156299. 3

878270156300. 4

**Question Number : 115 Question Id : 87827039785 Question Type : MCQ Option Shuffling : No**

**Is Question Mandatory : No Calculator : None Response Time : N.A Think Time : N.A**

**Minimum Instruction Time : 0**

**Correct Marks : 2 Wrong Marks : 0**

मध्यवर्ती चर के कार्यस्वरूप के घटक निम्नलिखित में से कौन है ?

- (A) संसर्ग को उद्घाटित करने वाले कारण
- (B) गर्भाधारण को उद्घाटित करने वाले कारक
- (C) गर्भनिरोधक को उद्घाटित करने वाले कारक
- (D) गर्भावधि को प्रभावित करने वाले कारक
- (E) प्रजनन को प्रभावित करने वाले कारक

नीचे दिए गए विकल्पों में से सही उत्तर का चयन कीजिए :

- (1) केवल (A), (B), (C)
- (2) केवल (A), (B), (D)
- (3) केवल (C), (D), (E)
- (4) केवल (B), (D), (E)

**Options :**

878270156297. 1

878270156298. 2

878270156299. 3

878270156300. 4

**Question Number : 116 Question Id : 87827039786 Question Type : MCQ Option Shuffling : No**

**Is Question Mandatory : No Calculator : None Response Time : N.A Think Time : N.A**

**Minimum Instruction Time : 0**

**Correct Marks : 2 Wrong Marks : 0**

**Match List - I with List - II.**

<b>List - I</b>	<b>List - II</b>
<b>Author</b>	<b>Name and Book</b>
(A) Vandana Shiva	(I) Gender Trouble
(B) Judith Butler	(II) Ecofeminism
(C) Bina Aggarwal	(III) A field of one's own
(D) Doreen Massey	(IV) Space, Place and Gender

Choose the **correct** answer from the options given below :

- (1) (A)-(I), (B)-(II), (C)-(III), (D)-(IV)
- (2) (A)-(II), (B)-(I), (C)-(III), (D)-(IV)
- (3) (A)-(IV), (B)-(II), (C)-(I), (D)-(III)
- (4) (A)-(III), (B)-(IV), (C)-(II), (D)-(I)

**Options :**

878270156301. 1

878270156302. 2

878270156303. 3

878270156304. 4

**Question Number : 116 Question Id : 87827039786 Question Type : MCQ Option Shuffling : No**

**Is Question Mandatory : No Calculator : None Response Time : N.A Think Time : N.A**

**Minimum Instruction Time : 0**

**Correct Marks : 2 Wrong Marks : 0**



सूची-I से सूची-II का मिलान कीजिए :

सूची-I लेखक	सूची-II पुस्तक का नाम
(A) वंदना शिवा	(I) जेंडर टूबल
(B) जुडिथ बुटलर	(II) इकोफेमिनिजम
(C) वीणा अग्रवाल	(III) ए फिल्ड ऑफ वन्स ओन
(D) डोरीन मार्सी	(IV) स्पेस, प्लेस एंड जेंडर

नीचे दिए गए विकल्पों में से सही उत्तर का चयन कीजिए :

- (1) (A)-(I), (B)-(II), (C)-(III), (D)-(IV)
- (2) (A)-(II), (B)-(I), (C)-(III), (D)-(IV)
- (3) (A)-(IV), (B)-(II), (C)-(I), (D)-(III)
- (4) (A)-(III), (B)-(IV), (C)-(II), (D)-(I)

**Options :**

878270156301. 1

878270156302. 2

878270156303. 3

878270156304. 4

**Question Number : 117 Question Id : 87827039787 Question Type : MCQ Option Shuffling : No**

**Is Question Mandatory : No Calculator : None Response Time : N.A Think Time : N.A**

**Minimum Instruction Time : 0**

**Correct Marks : 2 Wrong Marks : 0**

Match List - I with List - II.

<b>List - I</b>	<b>List - II</b>
<b>Books</b>	<b>Author</b>
(A) Theory of fertility decline	(I) J. C. Caldwell
(B) Population and Technology	(II) E. Boserup
(C) India : Population, Economy, Society	(III) R. H. Cassen
(D) A population history of India	(IV) Tim Dyson

Choose the **correct** answer from the options given below :

- (1) (A)-(I), (B)-(III), (C)-(IV), (D)-(II)
- (2) (A)-(I), (B)-(II), (C)-(IV), (D)-(III)
- (3) (A)-(II), (B)-(I), (C)-(III), (D)-(IV)
- (4) (A)-(I), (B)-(II), (C)-(III), (D)-(IV)

**Options :**

878270156305. 1

878270156306. 2

878270156307. 3

878270156308. 4

**Question Number : 117 Question Id : 87827039787 Question Type : MCQ Option Shuffling : No**

**Is Question Mandatory : No Calculator : None Response Time : N.A Think Time : N.A**

**Minimum Instruction Time : 0**

**Correct Marks : 2 Wrong Marks : 0**

सूची-I से सूची-II का मिलान कीजिए :

सूची-I किताब	सूची-II लेखक
(A) प्रजनन दर का गिरना सिद्धान्त	(I) जे. सी. काल्डवेल
(B) जनसंख्या और प्रौद्योगिकी	(II) बोसरप ई.
(C) भारत : जनसंख्या, अर्थ, समाज	(III) आर. एच. केसन
(D) ए पापुलेशनहिस्ट्री आफ इण्डियन	(IV) टिम डायसन

नीचे दिए गए विकल्पों में से सही उत्तर का चयन कीजिए :

- (1) (A)-(I), (B)-(III), (C)-(IV), (D)-(II)
- (2) (A)-(I), (B)-(II), (C)-(IV), (D)-(III)
- (3) (A)-(II), (B)-(I), (C)-(III), (D)-(IV)
- (4) (A)-(I), (B)-(II), (C)-(III), (D)-(IV)

**Options :**

878270156305. 1

878270156306. 2

878270156307. 3

878270156308. 4

**Question Number : 118 Question Id : 87827039788 Question Type : MCQ Option Shuffling : No**

**Is Question Mandatory : No Calculator : None Response Time : N.A Think Time : N.A**

**Minimum Instruction Time : 0**

**Correct Marks : 2 Wrong Marks : 0**

Match List - I with List - II.

List - I	List - II
Measurement	Description
(A) Circulatory ratio	(I) Measuring inequality
(B) Gini coefficient	(II) Measuring importance of one activity in the city relative to the general importance of the activity
(C) Functional index	(III) Primacy of the city
(D) Rank-size rule	(IV) Measuring the shape of the settlement

Choose the **correct** answer from the options given below :

- (1) (A)-(IV), (B)-(I), (C)-(II), (D)-(III)
- (2) (A)-(I), (B)-(II), (C)-(III), (D)-(IV)
- (3) (A)-(IV), (B)-(II), (C)-(III), (D)-(I)
- (4) (A)-(IV), (B)-(III), (C)-(I), (D)-(II)

**Options :**

878270156309. 1

878270156310. 2

878270156311. 3

878270156312. 4

**Question Number : 118 Question Id : 87827039788 Question Type : MCQ Option Shuffling : No**

**Is Question Mandatory : No Calculator : None Response Time : N.A Think Time : N.A**

**Minimum Instruction Time : 0**

**Correct Marks : 2 Wrong Marks : 0**

सूची-I से सूची-II का मिलान कीजिए :

सूची-I मापन	सूची-II वर्णन
(A) परिचालनात्मक अनुपात	(I) असमानता का मापन
(B) गिनी गुणांक	(II) शहर में एक क्रियाकलाप के महत्व को उसके सामान्य महत्व के सापेक्ष मापन
(C) प्रकार्यात्मक सूचकांक	(III) शहर की प्रमुखता
(D) रैंक-साइज रूल	(IV) स्थापन के आकार का मापन

नीचे दिए गए विकल्पों में से सही उत्तर का चयन कीजिए :

- (1) (A)-(IV), (B)-(I), (C)-(II), (D)-(III)
- (2) (A)-(I), (B)-(II), (C)-(III), (D)-(IV)
- (3) (A)-(IV), (B)-(II), (C)-(III), (D)-(I)
- (4) (A)-(IV), (B)-(III), (C)-(I), (D)-(II)

**Options :**

878270156309. 1

878270156310. 2

878270156311. 3

878270156312. 4

**Question Number : 119 Question Id : 87827039789 Question Type : MCQ Option Shuffling : No**

**Is Question Mandatory : No Calculator : None Response Time : N.A Think Time : N.A**

**Minimum Instruction Time : 0**

**Correct Marks : 2 Wrong Marks : 0**

Match List - I with List - II.

<b>List - I</b>	<b>List - II</b>
<b>Disease</b>	<b>Cause</b>
(A) Measles	(I) Communicable disease
(B) Cerebro vascular disease	(II) Non-communicable disease
(C) Hepatitis	(III) Viral disease
(D) Shigellosis	(IV) Food and water born disease

Choose the **correct** answer from the options given below :

- (1) (A)-(II), (B)-(I), (C)-(III), (D)-(IV)
- (2) (A)-(II), (B)-(I), (C)-(IV), (D)-(III)
- (3) (A)-(I), (B)-(II), (C)-(III), (D)-(IV)
- (4) (A)-(I), (B)-(III), (C)-(IV), (D)-(II)

**Options :**

878270156313. 1

878270156314. 2

878270156315. 3

878270156316. 4

**Question Number : 119 Question Id : 87827039789 Question Type : MCQ Option Shuffling : No**

**Is Question Mandatory : No Calculator : None Response Time : N.A Think Time : N.A**

**Minimum Instruction Time : 0**

**Correct Marks : 2 Wrong Marks : 0**

सूची-I से सूची-II का मिलान कीजिए :

सूची-I	सूची-II
रोग	कारण
(A) खसरा	(I) संचारी रोग
(B) सेरेब्रो वैस्क्युलर डिजीज	(II) गैर संचारी रोग
(C) हेपेटाइटिस	(III) वायरल रोग
(D) शिगेलोसिस	(IV) खाद्य पदार्थ और जल से पैदा होने वाले रोडा

नीचे दिए गए विकल्पों में से सही उत्तर का चयन कीजिए :

- (1) (A)-(II), (B)-(I), (C)-(III), (D)-(IV)
- (2) (A)-(II), (B)-(I), (C)-(IV), (D)-(III)
- (3) (A)-(I), (B)-(II), (C)-(III), (D)-(IV)
- (4) (A)-(I), (B)-(III), (C)-(IV), (D)-(II)

**Options :**

878270156313. 1

878270156314. 2

878270156315. 3

878270156316. 4

**Question Number : 120 Question Id : 87827039790 Question Type : MCQ Option Shuffling : No**

**Is Question Mandatory : No Calculator : None Response Time : N.A Think Time : N.A**

**Minimum Instruction Time : 0**

**Correct Marks : 2 Wrong Marks : 0**

Match List - I with List - II.

**List - I**

**Propounder**

- (A) Ravenstein
- (B) Harris and Todaro
- (C) Lee
- (D) Lewis

**List - II**

**Model**

- (I) Distance between origin and destination
- (II) Rural and urban wage differential
- (III) Push and Pull
- (IV) Surplus Labour

Choose the **correct** answer from the options given below :

- (1) (A)-(I), (B)-(II), (C)-(III), (D)-(IV)
- (2) (A)-(I), (B)-(III), (C)-(II), (D)-(IV)
- (3) (A)-(II), (B)-(III), (C)-(I), (D)-(IV)
- (4) (A)-(II), (B)-(I), (C)-(IV), (D)-(III)

**Options :**

878270156317. 1

878270156318. 2

878270156319. 3

878270156320. 4

**Question Number : 120 Question Id : 87827039790 Question Type : MCQ Option Shuffling : No**

**Is Question Mandatory : No Calculator : None Response Time : N.A Think Time : N.A**

**Minimum Instruction Time : 0**

**Correct Marks : 2 Wrong Marks : 0**



सूची-I से सूची-II का मिलान कीजिए :

सूची-I	सूची-II
प्रतिपादक	मॉडल
(A) रैवेन्स्टिन	(I) उद्गम और गैतव्य के बीच दूरी
(B) हैरिस और टोडारो	(II) ग्रामीण और शहरी मजदूरी विभेदक
(C) ली	(III) पुश और पुल
(D) लिविस	(IV) अधिशेष श्रमिक

नीचे दिए गए विकल्पों में से सही उत्तर का चयन कीजिए :

- (1) (A)-(I), (B)-(II), (C)-(III), (D)-(IV)
- (2) (A)-(I), (B)-(III), (C)-(II), (D)-(IV)
- (3) (A)-(II), (B)-(III), (C)-(I), (D)-(IV)
- (4) (A)-(II), (B)-(I), (C)-(IV), (D)-(III)

**Options :**

878270156317. 1

878270156318. 2

878270156319. 3

878270156320. 4

**Question Number : 121 Question Id : 87827039791 Question Type : MCQ Option Shuffling : No**

**Is Question Mandatory : No Calculator : None Response Time : N.A Think Time : N.A**

**Minimum Instruction Time : 0**

**Correct Marks : 2 Wrong Marks : 0**

Match List - I with List - II.

List - I	List - II
SDG Goal	Indicator
(A) Goal 1	(I) End preventable death under 5
(B) Goal 2	(II) Ensure primary education completions
(C) Goal 3	(III) Eradicate extreme poverty
(D) Goal 4	(IV) End malnutrition (stunting)

Choose the **correct** answer from the options given below :

- (1) (A)-(I), (B)-(II), (C)-(III), (D)-(IV)
- (2) (A)-(II), (B)-(III), (C)-(IV), (D)-(I)
- (3) (A)-(III), (B)-(IV), (C)-(I), (D)-(II)
- (4) (A)-(IV), (B)-(I), (C)-(II), (D)-(III)

**Options :**

878270156321. 1

878270156322. 2

878270156323. 3

878270156324. 4

**Question Number : 121 Question Id : 87827039791 Question Type : MCQ Option Shuffling : No**

**Is Question Mandatory : No Calculator : None Response Time : N.A Think Time : N.A**

**Minimum Instruction Time : 0**

**Correct Marks : 2 Wrong Marks : 0**

सूची-I से सूची-II का मिलान कीजिए :

सूची-I

सतत विकास लक्ष्य ( एस डी जी )

- (A) लक्ष्य 1
- (B) लक्ष्य 2
- (C) लक्ष्य 3
- (D) लक्ष्य 4

सूची-II

संकेतक

- (I) 5 वर्ष से कम उम्र में निवारणीय मृत्यु को समाप्त करना
- (II) प्राथमिक शिक्षा पूरा किया जाना सुनिश्चित करना
- (III) अत्यधिक गरीबी का उन्मूलन करना
- (IV) कुपोषण को समाप्त करना (स्टंटिंग)

नीचे दिए गए विकल्पों में से सही उत्तर का चयन कीजिए :

- (1) (A)-(I), (B)-(II), (C)-(III), (D)-(IV)
- (2) (A)-(II), (B)-(III), (C)-(IV), (D)-(I)
- (3) (A)-(III), (B)-(IV), (C)-(I), (D)-(II)
- (4) (A)-(IV), (B)-(I), (C)-(II), (D)-(III)

**Options :**

- 878270156321. 1
- 878270156322. 2
- 878270156323. 3
- 878270156324. 4

**Question Number : 122 Question Id : 87827039792 Question Type : MCQ Option Shuffling : No**

**Is Question Mandatory : No Calculator : None Response Time : N.A Think Time : N.A**

**Minimum Instruction Time : 0**

**Correct Marks : 2 Wrong Marks : 0**

Match List - I with List - II.

**List - I**

- (A) Brass growth balance method
- (B) Estimation of adult mortality from sibling histories
- (C) Model life tables
- (D) Generalized growth balance method

**List - II**

- (I) Multiple census method
- (II) Incomplete data
- (III) Survey data
- (IV) One census method

Choose the **correct** answer from the options given below :

- (1) (A)-(I), (B)-(IV), (C)-(II), (D)-(III)
- (2) (A)-(IV), (B)-(I), (C)-(III), (D)-(II)
- (3) (A)-(IV), (B)-(III), (C)-(II), (D)-(I)
- (4) (A)-(III), (B)-(I), (C)-(II), (D)-(IV)

**Options :**

878270156325. 1

878270156326. 2

878270156327. 3

878270156328. 4

**Question Number : 122 Question Id : 87827039792 Question Type : MCQ Option Shuffling : No**

**Is Question Mandatory : No Calculator : None Response Time : N.A Think Time : N.A**

**Minimum Instruction Time : 0**

**Correct Marks : 2 Wrong Marks : 0**

सूची-I से सूची-II का मिलान कीजिए :

**सूची-I**

**सूची-II**

- (A) ब्रास विकास संतुलन विधि  
(B) सहोदर के अतीत से वयस्क मृत्युदर का अनुमान  
(C) मॉडल जीवन सारणी  
(D) सामान्यीकृत विकास संतुलन विधि

- (I) बहुल जनगणना विधि  
(II) अपूर्ण आंकड़े  
(III) सर्वेक्षण आंकड़े  
(IV) एक जनगणना विधि

नीचे दिए गए विकल्पों में से सही उत्तर का चयन कीजिए :

- (1) (A)-(I), (B)-(IV), (C)-(II), (D)-(III)  
(2) (A)-(IV), (B)-(I), (C)-(III), (D)-(II)  
(3) (A)-(IV), (B)-(III), (C)-(II), (D)-(I)  
(4) (A)-(III), (B)-(I), (C)-(II), (D)-(IV)

**Options :**

878270156325. 1  
878270156326. 2  
878270156327. 3  
878270156328. 4

**Question Number : 123 Question Id : 87827039793 Question Type : MCQ Option Shuffling : No**

**Is Question Mandatory : No Calculator : None Response Time : N.A Think Time : N.A**

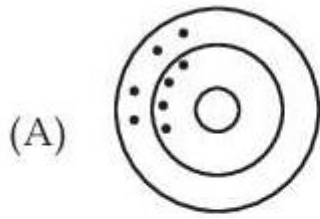
**Minimum Instruction Time : 0**

**Correct Marks : 2 Wrong Marks : 0**

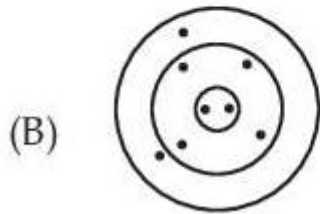
Match List - I with List - II.

List - I

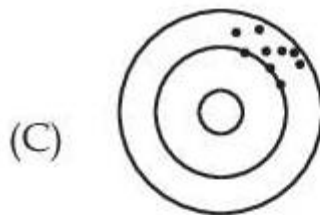
List - II



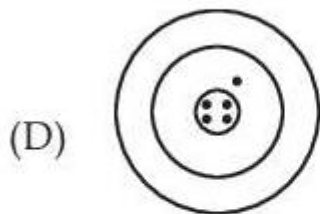
(I) Reliable and valid



(II) Reliable but invalid



(III) Valid but unreliable



(IV) Unreliable and invalid

Choose the **correct** answer from the options given below :

- (1) (A)-(IV), (B)-(III), (C)-(II), (D)-(I)
- (2) (A)-(III), (B)-(II), (C)-(I), (D)-(IV)
- (3) (A)-(II), (B)-(I), (C)-(IV), (D)-(III)
- (4) (A)-(I), (B)-(II), (C)-(III), (D)-(IV)

**Options :**

878270156329. 1

878270156330. 2

878270156331. 3

878270156332. 4

**Question Number : 123 Question Id : 87827039793 Question Type : MCQ Option Shuffling : No**

**Is Question Mandatory : No Calculator : None Response Time : N.A Think Time : N.A**

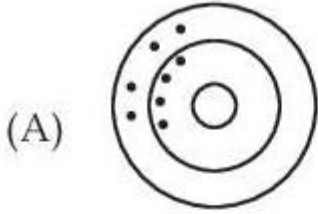
**Minimum Instruction Time : 0**

Correct Marks : 2 Wrong Marks : 0

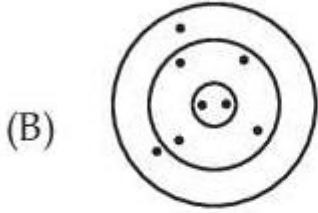
सूची-I से सूची-II का मिलान कीजिए :

सूची-I

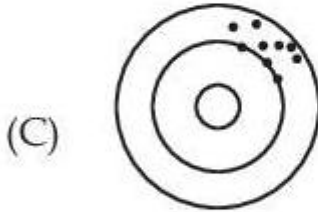
सूची-II



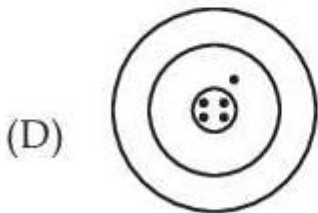
(I) विश्वसनीय और वैध



(II) विश्वसनीय लेकिन अवैध



(III) वैध लेकिन अविश्वसनीय



(IV) अविश्वसनीय और अवैध

नीचे दिए गए विकल्पों में से सही उत्तर का चयन कीजिए :

- (1) (A)-(IV), (B)-(III), (C)-(II), (D)-(I)
- (2) (A)-(III), (B)-(II), (C)-(I), (D)-(IV)
- (3) (A)-(II), (B)-(I), (C)-(IV), (D)-(III)
- (4) (A)-(I), (B)-(II), (C)-(III), (D)-(IV)

Options :

878270156329. 1

878270156330. 2

878270156331. 3

878270156332. 4

**Is Question Mandatory : No Calculator : None Response Time : N.A Think Time : N.A**

**Minimum Instruction Time : 0**

**Correct Marks : 2 Wrong Marks : 0**

Match List - I with List - II.

List - I

List - II

- |                               |  |
|-------------------------------|--|
| (A) Dependency Ratio          | (I) $\frac{\text{Children aged 0 - 4}}{\text{Women aged 15 - 44}} \times 100$  |
| (B) Child - Women Ratio       | (II) $\frac{\text{Males}}{\text{Females}} \times 100$  |
| (C) Sex ratio at birth        | (III) $\bar{x} = \frac{\sum p_i x_i}{\sum p_i}, \bar{y} = \frac{\sum p_i y_i}{\sum p_i}$ Where $p_i$ is the population at point $i$ and $x_i$ and $y_i$ are its horizontal and vertical coordinates respectively |
| (D) Mean center of population | (IV) $\frac{[\text{Children} + \text{Elderey}]}{\text{Working ages population}} \times 100$  |

Choose the **correct** answer from the options given below :

- (1) (A)-(I), (B)-(IV), (C)-(II), (D)-(III)
- (2) (A)-(IV), (B)-(I), (C)-(III), (D)-(II)
- (3) (A)-(IV), (B)-(I), (C)-(II), (D)-(III)
- (4) (A)-(I), (B)-(II), (C)-(III), (D)-(IV)

**Options :**

878270156333. 1

878270156334. 2

878270156335. 3

878270156336. 4

**Question Number : 124 Question Id : 87827039794 Question Type : MCQ Option Shuffling : No**

**Is Question Mandatory : No Calculator : None Response Time : N.A Think Time : N.A**

**Minimum Instruction Time : 0**

**Correct Marks : 2 Wrong Marks : 0**



सूची-I से सूची-II का मिलान कीजिए :

सूची-I	सूची-II
(A) निर्भरता अनुपात	(I) $\frac{0-4 \text{ वर्ष के बच्चे}}{15-44 \text{ वर्ष की महिलाएं}} \times 100$
(B) बाल-महिला अनुपात	(II) $\frac{\text{पुरुष}}{\text{स्त्री}} \times 100$
(C) जन्म के समय लिंगानुपात	(III) $\bar{x} = \frac{\sum p_i x_i}{\sum p_i}, \bar{y} = \frac{\sum p_i y_i}{\sum p_i}$ जहाँ $p_i$ , $i$ बिन्दु पर आबादी है और $x_i$ और $y_i$ क्रमशः इसके क्षेत्रिज और लम्बवत् निर्देशांक हैं।
(D) जनसंख्या का माध्य केंद्र	(IV) $\frac{[\text{बच्चे} + \text{बड़े}]}{\text{कार्य करने की उम्र की जनसंख्या}} \times 100$

नीचे दिए गए विकल्पों में से सही उत्तर का चयन कीजिए :

- (1) (A)-(I), (B)-(IV), (C)-(II), (D)-(III)
- (2) (A)-(IV), (B)-(I), (C)-(III), (D)-(II)
- (3) (A)-(IV), (B)-(I), (C)-(II), (D)-(III)
- (4) (A)-(I), (B)-(II), (C)-(III), (D)-(IV)

**Options :**

878270156333. 1

878270156334. 2

878270156335. 3

878270156336. 4

**Question Number : 125 Question Id : 87827039795 Question Type : MCQ Option Shuffling : No**

**Is Question Mandatory : No Calculator : None Response Time : N.A Think Time : N.A**

**Minimum Instruction Time : 0**

**Correct Marks : 2 Wrong Marks : 0**

Match List - I with List - II.

List - I	List - II
(A) Probability of surviving from age $x$ to age $y$	(I) $l_x - l_y$
(B) Number of people dying between ages $x$ and $y$	(II) $T_x$
(C) Name of person years lived between ages $x$ and $y$	(III) $T_x - T_y$
(D) Person years lived above age $x$	(IV) $l_y/l_x$

Choose the **correct** answer from the options given below :

- (1) (A)-(III), (B)-(I), (C)-(II), (D)-(IV)
- (2) (A)-(II), (B)-(IV), (C)-(III), (D)-(I)
- (3) (A)-(I), (B)-(III), (C)-(II), (D)-(IV)
- (4) (A)-(IV), (B)-(I), (C)-(III), (D)-(II)

**Options :**

878270156337. 1

878270156338. 2

878270156339. 3

878270156340. 4

**Question Number : 125 Question Id : 87827039795 Question Type : MCQ Option Shuffling : No**

**Is Question Mandatory : No Calculator : None Response Time : N.A Think Time : N.A**

**Minimum Instruction Time : 0**

**Correct Marks : 2 Wrong Marks : 0**

सूची-I से सूची-II का मिलान कीजिए :

सूची-I

सूची-II

- |   |                   |
|---|-------------------|
| (A) x उम्र से y उम्र तक जीवित बचने की संभावना         | (I) $L_x - L_y$   |
| (B) x उम्र और y उम्र के बीच मरने वाले लोगों की संख्या | (II) $T_x$        |
| (C) x उम्र और y उम्र के बीच जीने वाले लोगों की संख्या | (III) $T_x - T_y$ |
| (D) x से अधिक उम्र जीने वाले लोगों की संख्या          | (IV) $L_y/L_x$    |

नीचे दिए गए विकल्पों में से सही उत्तर का चयन कीजिए :

- (1) (A)-(III), (B)-(I), (C)-(II), (D)-(IV)
- (2) (A)-(II), (B)-(IV), (C)-(III), (D)-(I)
- (3) (A)-(I), (B)-(III), (C)-(II), (D)-(IV)
- (4) (A)-(IV), (B)-(I), (C)-(III), (D)-(II)

**Options :**

878270156337. 1

878270156338. 2

878270156339. 3

878270156340. 4

**Question Number : 126 Question Id : 87827039796 Question Type : MCQ Option Shuffling : No**

**Is Question Mandatory : No Calculator : None Response Time : N.A Think Time : N.A**

**Minimum Instruction Time : 0**

**Correct Marks : 2 Wrong Marks : 0**

Arrange the type of migration / mobility by the stages of development as presented in mobility transition theory.

- (A) Very low international migration and increased urban to urban migration
- (B) Low mobility
- (C) Increased rural to urban and international migration
- (D) Slow international migration

Choose the correct answer from the options given below :

- (1) (D), (A), (B), (C)
- (2) (C), (A), (D), (B)
- (3) (A), (B), (C), (D)
- (4) (B), (C), (D), (A)

**Options :**

- 878270156341. 1
- 878270156342. 2
- 878270156343. 3
- 878270156344. 4

**Question Number : 126 Question Id : 87827039796 Question Type : MCQ Option Shuffling : No**

**Is Question Mandatory : No Calculator : None Response Time : N.A Think Time : N.A**

**Minimum Instruction Time : 0**

**Correct Marks : 2 Wrong Marks : 0**

जैसा कि प्रवास परिवर्तन सिद्धांत में दिया गया है, विकास के चरणों के क्रम प्रवासन/गतिशीलता के प्रकार को व्यवस्थित कीजिए :

- (A) अत्यल्प अन्तरराष्ट्रीय प्रवासन और शहर से शहर में प्रवास में वृद्धि
- (B) निम्न गतिशीलता
- (C) गांव से शहर की ओर और अन्तरराष्ट्रीय प्रवासन में वृद्धि
- (D) धीमी गति से अन्तरराष्ट्रीय प्रवासन में वृद्धि

नीचे दिए गए विकल्पों में से सही उत्तर का चयन कीजिए :

- (1) (D), (A), (B), (C)
- (2) (C), (A), (D), (B)
- (3) (A), (B), (C), (D)
- (4) (B), (C), (D), (A)

**Options :**

- 878270156341. 1
- 878270156342. 2
- 878270156343. 3
- 878270156344. 4

**Question Number : 127 Question Id : 87827039797 Question Type : MCQ Option Shuffling : No**

**Is Question Mandatory : No Calculator : None Response Time : N.A Think Time : N.A**

**Minimum Instruction Time : 0**

**Correct Marks : 2 Wrong Marks : 0**

Arrange the following documents/books in chronological order (from first to last) :

- (A) Population Growth and Economic Development in Low-income Countries.
- (B) Population and Technical Change
- (C) Limits to Growth
- (D) The Population Bomb
- (E) Our Common Future

Choose the **correct** answer from the options given below :

- (1) (D), (A) (C), (E), (B)
- (2) (A), (D) (C), (B), (E)
- (3) (D), (A) (C), (E), (B)
- (4) (A), (D) (B), (C), (E)

**Options :**

878270156345. 1

878270156346. 2

878270156347. 3

878270156348. 4

**Question Number : 127 Question Id : 87827039797 Question Type : MCQ Option Shuffling : No**

**Is Question Mandatory : No Calculator : None Response Time : N.A Think Time : N.A**

**Minimum Instruction Time : 0**

**Correct Marks : 2 Wrong Marks : 0**

निम्नलिखित दस्तावेजों / पुस्तकों को (प्रारंभ से अंत के क्रम में) कालक्रमानुसार व्यवस्थित कीजिए :

- (A) पॉपुलेशन ग्रोथ एंड इकोनॉमिक डेवलपमेंट इन लो इन्कम कन्ट्रीज।
- (B) पॉपुलेशन एंड टेक्निकल चेंज।
- (C) लिमिट्स टू ग्रोथ।
- (D) द पॉपुलेशन बॉम्ब
- (E) हमारा सह भविष्य

नीचे दिए गए विकल्पों में से **सही** उत्तर का चयन कीजिए :

- (1) (D), (A) (C), (E), (B)
- (2) (A), (D) (C), (B), (E)
- (3) (D), (A) (C), (E), (B)
- (4) (A), (D) (B), (C), (E)

**Options :**

- 878270156345. 1
- 878270156346. 2
- 878270156347. 3
- 878270156348. 4

**Question Number : 128 Question Id : 87827039798 Question Type : MCQ Option Shuffling : No  
Is Question Mandatory : No Calculator : None Response Time : N.A Think Time : N.A  
Minimum Instruction Time : 0**

**Correct Marks : 2 Wrong Marks : 0**

Arrange the following schemes in chronological order of their initiation (Old to New)

- (A) Ujjwala Yojana
- (B) The National Urban Health Mission
- (C) Pradhan Mantri Awaas Yojana
- (D) Janni Suraksha Yojana
- (E) Ayushman Bharat

Choose the **correct** answer from the options given below :

- (1) (A), (B) (D), (C), (E)
- (2) (B), (A) (C), (E), (D)
- (3) (D), (B) (A), (E), (C)
- (4) (D), (B) (C), (A), (E)

**Options :**

- 878270156349. 1
- 878270156350. 2
- 878270156351. 3
- 878270156352. 4

**Question Number : 128 Question Id : 87827039798 Question Type : MCQ Option Shuffling : No  
Is Question Mandatory : No Calculator : None Response Time : N.A Think Time : N.A  
Minimum Instruction Time : 0**

**Correct Marks : 2 Wrong Marks : 0**

निम्नलिखित योजनाओं को कालक्रमानुसार (पुराने से नए) व्यवस्थित कीजिए :

- (A) उज्ज्वला योजना
- (B) नेशनल अर्बन हेल्थ मिशन
- (C) प्रधानमंत्री आवास योजना
- (D) जननी सुरक्षा योजना
- (E) आयुष्मान भारत

नीचे दिए गए विकल्पों में से सही उत्तर का चयन कीजिए :

- (1) (A), (B) (D), (C), (E)
- (2) (B), (A) (C), (E), (D)
- (3) (D), (B) (A), (E), (C)
- (4) (D), (B) (C), (A), (E)

**Options :**

878270156349. 1

878270156350. 2

878270156351. 3

878270156352. 4

**Question Number : 129 Question Id : 87827039799 Question Type : MCQ Option Shuffling : No**

**Is Question Mandatory : No Calculator : None Response Time : N.A Think Time : N.A**

**Minimum Instruction Time : 0**

**Correct Marks : 2 Wrong Marks : 0**

Arrange the research activities mentioned below from beginning to end.

- (A) Data collection
- (B) Questionnaire preparation
- (C) Ethical clearance
- (D) Data cleaning
- (E) Analysis

Choose the correct answer from the options given below :

- (1) (A), (B) (C), (D), (E)
- (2) (B), (C) (A), (D), (E)
- (3) (A), (C) (D), (B), (E)
- (4) (C), (A) (B), (D), (E)

**Options :**

- 878270156353. 1
- 878270156354. 2
- 878270156355. 3
- 878270156356. 4

**Question Number : 129 Question Id : 87827039799 Question Type : MCQ Option Shuffling : No**

**Is Question Mandatory : No Calculator : None Response Time : N.A Think Time : N.A**

**Minimum Instruction Time : 0**

**Correct Marks : 2 Wrong Marks : 0**

निम्नलिखित शोध कार्यो को प्रारंभ से अंत के क्रम में व्यवस्थित कीजिए :

- (A) आँकड़ो का संग्रह
- (B) प्रश्नावली तैयार करना
- (C) नैतिक मंजूरी
- (D) डाटा क्लीनिंग
- (E) विश्लेषण

नीचे दिए गए विकल्पों में से सही उत्तर का चयन कीजिए :

- (1) (A), (B) (C), (D), (E)
- (2) (B), (C) (A), (D), (E)
- (3) (A), (C) (D), (B), (E)
- (4) (C), (A) (B), (D), (E)

**Options :**

- 878270156353. 1
- 878270156354. 2
- 878270156355. 3
- 878270156356. 4

**Question Number : 130 Question Id : 87827039800 Question Type : MCQ Option Shuffling : No**

**Is Question Mandatory : No Calculator : None Response Time : N.A Think Time : N.A**

**Minimum Instruction Time : 0**



**Correct Marks : 2 Wrong Marks : 0**

Arrange the states in descending order (high to low) in terms of total Shedule Caste population, according to Census of India, 2011 :

- (A) Punjab
- (B) West Bengal
- (C) Himachal Pradesh
- (D) Madhya Pradesh
- (E) Uttar Pradesh

Choose the correct answer from the options given below :

- (1) (A), (C), (B), (E), (D)
- (2) (B), (C) (D), (E), (A)
- (3) (A), (D) (B), (C), (E)
- (4) (E), (D) (B), (A), (C)

**Options :**

878270156357. 1

878270156358. 2

878270156359. 3

878270156360. 4

**Question Number : 130 Question Id : 87827039800 Question Type : MCQ Option Shuffling : No**

**Is Question Mandatory : No Calculator : None Response Time : N.A Think Time : N.A**

**Minimum Instruction Time : 0**

**Correct Marks : 2 Wrong Marks : 0**

भारत की जनगणना 2011 के अनुसार निम्नलिखित राज्यों को कुल अनुसूचित जाति की आबादी के अवरोही (अधिक से कम की ओर) क्रम में व्यवस्थित कीजिए :

- (A) पंजाब
- (B) पश्चिम बंगाल
- (C) हिमाचल प्रदेश
- (D) मध्य प्रदेश
- (E) उत्तर प्रदेश

नीचे दिए गए विकल्पों में से सही उत्तर का चयन कीजिए :

- (1) (A), (C), (B), (E), (D)
- (2) (B), (C) (D), (E), (A)
- (3) (A), (D) (B), (C), (E)
- (4) (E), (D) (B), (A), (C)

**Options :**

878270156357. 1

878270156358. 2

878270156359. 3

878270156360. 4

**Question Number : 131 Question Id : 87827039801 Question Type : MCQ Option Shuffling : No**

**Is Question Mandatory : No Calculator : None Response Time : N.A Think Time : N.A**

**Minimum Instruction Time : 0**

**Correct Marks : 2 Wrong Marks : 0**

Arrange the following states of India in descending order according to the level of Maternal Mortality Ratio (MMR) is per SRS Special Bulletin (2018-2020)

- (A) Bihar
- (B) Assam
- (C) Maharashtra
- (D) Jharkhand
- (E) Tamil Nadu

Choose the **correct** answer from the options given below :

- (1) (A), (B) (E), (D), (C)
- (2) (B), (A) (D), (E), (C)
- (3) (B), (D) (A), (E), (C)
- (4) (A), (B) (D), (E), (C)

**Options :**

878270156361. 1

878270156362. 2

878270156363. 3

878270156364. 4

**Question Number : 131 Question Id : 87827039801 Question Type : MCQ Option Shuffling : No**

**Is Question Mandatory : No Calculator : None Response Time : N.A Think Time : N.A**

**Minimum Instruction Time : 0**

**Correct Marks : 2 Wrong Marks : 0**

एस आर एस स्पेशल बुलेटिन (2018-2020) के अनुसार मातृत्व मृत्यु अनुपात (एम एम आर) के स्तर के अनुपात के निम्नलिखित राज्यों को अवरोही (अधिक से कम) क्रम में व्यवस्थित कीजिए :

- (A) बिहार
- (B) असम
- (C) महाराष्ट्र
- (D) झारखंड
- (E) तमिलनाडु

नीचे दिए गए विकल्पों में से सही उत्तर का चयन कीजिए :

- (1) (A), (B) (E), (D), (C)
- (2) (B), (A) (D), (E), (C)
- (3) (B), (D) (A), (E), (C)
- (4) (A), (B) (D), (E), (C)

**Options :**

878270156361. 1

878270156362. 2

878270156363. 3

878270156364. 4

**Question Number : 132 Question Id : 87827039802 Question Type : MCQ Option Shuffling : No**

**Is Question Mandatory : No Calculator : None Response Time : N.A Think Time : N.A**

**Minimum Instruction Time : 0**

**Correct Marks : 2 Wrong Marks : 0**

Arrange the following major states in descending order (high to low) in term of infant mortality rate as shown in SRS Bulletin (reference year 2020)

- (A) Bihar
- (B) Odisha
- (C) Rajasthan
- (D) Madhya Pradesh
- (E) Uttar Pradesh

Choose the **correct** answer from the options given below :

- (1) (A), (B) (C), (D), (E)
- (2) (B), (C) (D), (A), (E)
- (3) (C), (D) (E), (A), (B)
- (4) (D), (E) (B), (C), (A)

**Options :**

878270156365. 1

878270156366. 2

878270156367. 3

878270156368. 4

**Question Number : 132 Question Id : 87827039802 Question Type : MCQ Option Shuffling : No**

**Is Question Mandatory : No Calculator : None Response Time : N.A Think Time : N.A**

**Minimum Instruction Time : 0**

**Correct Marks : 2 Wrong Marks : 0**

निम्नलिखित प्रमुख राज्यों को एस आर एस बुलेटिन (संदर्भ वर्ष - 2020) में दर्शाए गए अनुसार शिशु मृत्यु दर के अवरोही (अधिक से कम) क्रम में व्यवस्थित कीजिए :

- (A) बिहार
- (B) ओडिशा
- (C) राजस्थान
- (D) मध्य प्रदेश
- (E) उत्तर प्रदेश

नीचे दिए गए विकल्पों में से सही उत्तर का चयन कीजिए :

- (1) (A), (B) (C), (D), (E)
- (2) (B), (C) (D), (A), (E)
- (3) (C), (D) (E), (A), (B)
- (4) (D), (E) (B), (C), (A)

**Options :**

878270156365. 1

878270156366. 2

878270156367. 3

878270156368. 4

**Question Number : 133 Question Id : 87827039803 Question Type : MCQ Option Shuffling : No**

**Is Question Mandatory : No Calculator : None Response Time : N.A Think Time : N.A**

**Minimum Instruction Time : 0**

**Correct Marks : 2 Wrong Marks : 0**

Arrange the population conference chronologically (old to new) by name of the city :

- (A) Bucharest
- (B) Rome
- (C) Mexico city
- (D) Cairo

Choose the **correct** answer from the options given below :

- (1) (A), (B), (C), (D)
- (2) (D), (B), (A), (C)
- (3) (B), (A), (C), (D)
- (4) (C), (D), (B), (A)

**Options :**

878270156369. 1  
878270156370. 2  
878270156371. 3  
878270156372. 4

**Question Number : 133 Question Id : 87827039803 Question Type : MCQ Option Shuffling : No**

**Is Question Mandatory : No Calculator : None Response Time : N.A Think Time : N.A**

**Minimum Instruction Time : 0**

**Correct Marks : 2 Wrong Marks : 0**

निम्नलिखित शहरों को जनसंख्या सम्मेलनों के कालक्रमानुसार (पूर्व से वर्तमान) व्यवस्थित कीजिए :

- (A) बुखारेस्ट  
(B) रोम  
(C) मेक्सिको सिटी  
(D) केयरो

नीचे दिए गए विकल्पों में से सही उत्तर का चयन कीजिए :

- (1) (A), (B), (C), (D)  
(2) (D), (B), (A), (C)  
(3) (B), (A), (C), (D)  
(4) (C), (D), (B), (A)

**Options :**

878270156369. 1  
878270156370. 2  
878270156371. 3  
878270156372. 4

**Question Number : 134 Question Id : 87827039804 Question Type : MCQ Option Shuffling : No**

**Is Question Mandatory : No Calculator : None Response Time : N.A Think Time : N.A**

**Minimum Instruction Time : 0**

**Correct Marks : 2 Wrong Marks : 0**

Arrange the following form 1<sup>st</sup> to 4<sup>th</sup> stage, according to Zelinskey's model of migration :

- (A) Rural to urban and international
- (B) Slowing down of international
- (C) Low mobility
- (D) Very low international and urban to urban

Choose the **correct** answer from the options given below :

- (1) (A), (B), (C), (D)
- (2) (B) (C), (D), (A)
- (3) (D) (C), (A), (B)
- (4) (C) (A), (B), (D)

**Options :**

878270156373. 1

878270156374. 2

878270156375. 3

878270156376. 4

**Question Number : 134 Question Id : 87827039804 Question Type : MCQ Option Shuffling : No**

**Is Question Mandatory : No Calculator : None Response Time : N.A Think Time : N.A**

**Minimum Instruction Time : 0**

**Correct Marks : 2 Wrong Marks : 0**

जेलिंस्की के प्रवासन के मॉडल के अनुसार निम्नलिखित को प्रथम से चतुर्थ स्तर के क्रम में व्यवस्थित कीजिए :

- (A) ग्राम से शहर और अन्तरराष्ट्रीय
- (B) अन्तरराष्ट्रीय प्रवासन की गति का धीमा होना
- (C) निम्न गतिशीलता
- (D) बहुत कम अन्तरराष्ट्रीय और शहर से शहर की ओर

नीचे दिए गए विकल्पों में से **सही उत्तर** का चयन कीजिए :

- (1) (A), (B), (C), (D)
- (2) (B) (C), (D), (A)
- (3) (D) (C), (A), (B)
- (4) (C) (A), (B), (D)

**Options :**

878270156373. 1



878270156374. 2

878270156375. 3

878270156376. 4

**Question Number : 135 Question Id : 87827039805 Question Type : MCQ Option Shuffling : No  
Is Question Mandatory : No Calculator : None Response Time : N.A Think Time : N.A  
Minimum Instruction Time : 0**

**Correct Marks : 2 Wrong Marks : 0**

Arrange the following data sources chronologically by their year of inception from old to new.

- (A) NSS
- (B) NFHS
- (C) Census
- (D) LASI
- (E) SRS

Choose the **correct** answer from the options given below :

- (1) (B) (D), (C), (A), (E)
- (2) (C) (A), (E), (B), (D)
- (3) (E) (B), (A), (D), (C)
- (4) (A) (B), (C), (D), (E)

**Options :**

878270156377. 1

878270156378. 2

878270156379. 3

878270156380. 4

**Question Number : 135 Question Id : 87827039805 Question Type : MCQ Option Shuffling : No  
Is Question Mandatory : No Calculator : None Response Time : N.A Think Time : N.A  
Minimum Instruction Time : 0**

**Correct Marks : 2 Wrong Marks : 0**

आंकड़ों के निम्नलिखित स्रोतों को उनकी स्थापना के वर्ष (पुराने से नए) के कालक्रमानुसार व्यवस्थित कीजिए :

- (A) राष्ट्रीय प्रतिदर्श सर्वेक्षण (एन एस एस)
- (B) एन एफ एच एस
- (C) जनगणना (सेंसस)
- (D) एल ए एस आई
- (E) एस आर एस

नीचे दिए गए विकल्पों में से सही उत्तर का चयन कीजिए :

- (1) (B) (D), (C), (A), (E)
- (2) (C) (A), (E), (B), (D)
- (3) (E) (B), (A), (D), (C)
- (4) (A) (B), (C), (D), (E)

**Options :**

878270156377. 1

878270156378. 2

878270156379. 3

878270156380. 4

**Question Number : 136 Question Id : 87827039806 Question Type : MCQ Option Shuffling : No**

**Is Question Mandatory : No Calculator : None Response Time : N.A Think Time : N.A**

**Minimum Instruction Time : 0**

**Correct Marks : 2 Wrong Marks : 0**

Given below are two statements :

**Statement (I) :** In a high mortality situation, the death rate by age, form a U-shaped curve indicating a high mortality in early and old ages.

**Statement (II) :** At low levels of mortality, the pattern of age specific death rate changes to J-shaped curve indicating a ralatively higher mortality in the very early period of life, which drops to a low level after the hazards of early life and extends over a long period of life, increases in old ages.

In the light of the above statements, choose the **most appropriate answer** from the options given below :

- (1) Both **Statement I** and **Statement II** are correct
- (2) Both **Statement I** and **Statement II** are incorrect
- (3) **Statement I** is correct but **Statement II** is incorrect
- (4) **Statement I** is incorrect but **Statement II** is correct

**Options :**

878270156381. 1

878270156382. 2

878270156383. 3

878270156384. 4

**Question Number : 136 Question Id : 87827039806 Question Type : MCQ Option Shuffling : No**

**Is Question Mandatory : No Calculator : None Response Time : N.A Think Time : N.A**

**Minimum Instruction Time : 0**

**Correct Marks : 2 Wrong Marks : 0**

नीचे दो कथन दिए गए हैं :

**कथन (I) :** उच्च मृत्युदर की स्थिति में उम्र के हिसाब से मृत्युदर (यू) - के आकार का वक्र बनाता है जो प्रारंभिक और अधिक उम्र में उच्च मृत्युदर को दर्शाते है।

**कथन (II) :** मृत्यु दर के निम्न स्तरों पर उम्र विशिष्ट मृत्यु दर का पैटर्न (जे) आकार के वक्र में परिणत हो जाता है, जो जीवन की दर्शाता है, जो प्रारंभिक जीवन के जोखिमों के बाद निम्न स्तर तक गिरता है और इसका विस्तार जीवन की लंबी अवधि तक है बुढ़ापे में इसमें वृद्धि होती है।

उपरोक्त कथन के आलोक में, नीचे दिए गए विकल्पों में से सही उत्तर चयन कीजिए :

- (1) कथन I और कथन II दोनों सत्य है
- (2) कथन I और कथन II दोनों असत्य है
- (3) कथन I सत्य है, लेकिन कथन II असत्य है
- (4) कथन I असत्य है, लेकिन कथन II सत्य है

**Options :**

878270156381. 1

878270156382. 2

878270156383. 3

878270156384. 4

**Question Number : 137 Question Id : 87827039807 Question Type : MCQ Option Shuffling : No**

**Is Question Mandatory : No Calculator : None Response Time : N.A Think Time : N.A**

**Minimum Instruction Time : 0**

**Correct Marks : 2 Wrong Marks : 0**

Given below are two statements : one is labelled as **Assertion (A)** and the other is labelled as **Reason (R)**.

**Assertion (A) :** The ability of women to control their own reproduction and the overall level of their reproductive health are closely related to changes that occur in the context of the epidemiological transition

**Reason (R) :** In agricultural societies women are busy with pregnancy and child care, and men are able to manipulate and exploit women by tying the status of women to reproduction and rearing of children

In the light of the above statements, choose the **most appropriate answer** from the options given below :

- (1) Both **(A)** and **(R)** are correct and **(R)** is the correct explanation of **(A)**
- (2) Both **(A)** and **(R)** are correct but **(R)** is **not** the correct explanation of **(A)**
- (3) **(A)** is correct but **(R)** is not correct
- (4) **(A)** is not correct but **(R)** is correct

**Options :**

878270156385. 1

878270156386. 2

878270156387. 3

878270156388. 4

**Question Number : 137 Question Id : 87827039807 Question Type : MCQ Option Shuffling : No**

**Is Question Mandatory : No Calculator : None Response Time : N.A Think Time : N.A**

**Minimum Instruction Time : 0**

**Correct Marks : 2 Wrong Marks : 0**

नीचे दो कथन दिए गए हैं: एक **अभिकथन (A)** के रूप में लिखित है तो दूसरा उसके **कारण (R)** के रूप में है।

**अभिकथन (A) :** अपने प्रजनन को नियंत्रित करने की महिलाओं की क्षमता और उनके प्रजननात्मक स्वास्थ्य का समग्र स्तर महामारी संबंधी परिवर्तन के संदर्भ में होने वाले परिवर्तनों से बहुत जुड़ा हुआ है।

**कारण (R) :** कृषि समाज में महिलाएं गर्भावस्था और बाल-देखभाल में व्यस्त रहती हैं और पुरुष महिलाओं की स्थिति को प्रजनन और बच्चों के पालन पोषण से जोड़कर उनके साथ हेरा-फेरी कर पाते हैं और उनका शोधन कर पाते हैं।

उपरोक्त कथन के आलोक में, नीचे दिए गए विकल्पों में से **सही उत्तर** चयन कीजिए :

- (1) दोनों (A) और (R) सत्य हैं और (R), (A) की सही व्याख्या है
- (2) दोनों (A) और (R) सत्य हैं लेकिन (R), (A) की सही व्याख्या नहीं है
- (3) (A) सत्य है, लेकिन (R) असत्य है
- (4) (A) असत्य है, लेकिन (R) सत्य है

**Options :**

878270156385. 1

878270156386. 2

878270156387. 3

878270156388. 4

**Question Number : 138 Question Id : 87827039808 Question Type : MCQ Option Shuffling : No**

**Is Question Mandatory : No Calculator : None Response Time : N.A Think Time : N.A**

**Minimum Instruction Time : 0**

**Correct Marks : 2 Wrong Marks : 0**

Given below are two statements :

**Statement (I) :** Sensitivity of the test is defined as ability to correctly diagnose the positive who have the disease.

**Statement (II) :** Specificity of the test is defined as ability of the test to correctly diagnose negative who do not have the disease.

In the light of the above statements, choose the **most appropriate answer** from the options given below :

- (1) Both **Statement I** and **Statement II** are correct
- (2) Both **Statement I** and **Statement II** are incorrect
- (3) **Statement I** is correct but **Statement II** is incorrect
- (4) **Statement I** is incorrect but **Statement II** is correct

**Options :**

878270156389. 1

878270156390. 2

878270156391. 3

878270156392. 4

**Question Number : 138 Question Id : 87827039808 Question Type : MCQ Option Shuffling : No**

**Is Question Mandatory : No Calculator : None Response Time : N.A Think Time : N.A**

**Minimum Instruction Time : 0**

**Correct Marks : 2 Wrong Marks : 0**

नीचे दो कथन दिए गए हैं :

**कथन (I) :** किसी जाँच की संवेदिता को रोगग्रस्त व्यक्तियों के रोग का सही निदान करने की क्षमता के रूप में परिभाषित किया जाता है।

**कथन (II) :** किसी जाँच की विशेषता को ग्रस्त व्यक्तियों के अरुग्णता के सही निदान की क्षमता के रूप में परिभाषित किया जाता है।

उपरोक्त कथन के आलोक में, नीचे दिए गए विकल्पों में से सही उत्तर चयन कीजिए :

- (1) कथन I और कथन II दोनों सत्य हैं
- (2) कथन I और कथन II दोनों असत्य हैं
- (3) कथन I सत्य है, लेकिन कथन II असत्य है
- (4) कथन I असत्य है, लेकिन कथन II सत्य है

**Options :**

878270156389. 1

878270156390. 2

878270156391. 3

878270156392. 4

**Question Number : 139 Question Id : 87827039809 Question Type : MCQ Option Shuffling : No**

**Is Question Mandatory : No Calculator : None Response Time : N.A Think Time : N.A**

**Minimum Instruction Time : 0**

**Correct Marks : 2 Wrong Marks : 0**

Given below are two statements : one is labelled as **Assertion (A)** and the other is labelled as **Reason (R)**.

**Assertion (A) :** The higher the rate of population growth, the higher the rate of investment must be - also known as 'population hurdle'. If a population is growing so fast that it over-reaches the rate of investment, then it will be stuck in vicious cycle of poverty.

**Reason (R) :** The use of every resource leads to wast products and inefficiency in reducing wast determine the extent to which sustainable standard of living may be achieved.

In the light of the above statements, choose the **most appropriate answer** from the options given below :

- (1) Both **(A)** and **(R)** are correct and **(R)** is the correct explanation of **(A)**
- (2) Both **(A)** and **(R)** are correct but **(R)** is **not** the correct explanation of **(A)**
- (3) **(A)** is correct but **(R)** is not correct
- (4) **(A)** is not correct but **(R)** is correct

**Options :**

878270156393. 1

878270156394. 2

878270156395. 3

878270156396. 4

**Question Number : 139 Question Id : 87827039809 Question Type : MCQ Option Shuffling : No**

**Is Question Mandatory : No Calculator : None Response Time : N.A Think Time : N.A**

**Minimum Instruction Time : 0**

**Correct Marks : 2 Wrong Marks : 0**



नीचे दो कथन दिए गए हैं: एक **अभिकथन (A)** के रूप में लिखित है तो दूसरा उसके **कारण (R)** के रूप में है।

**अभिकथन (A) :** जनसंख्या वृद्धि दर जितनी अधिक होगी, निवेश दर भी उतनी ही अधिक होनी चाहिए - इसे जनसंख्या अवरोध भी कहा जाता है। यदि जनसंख्या इतनी तेजी से बढ़ रही है कि यह निवेश दर को पर कर जाती है, तो यह गरीबी के विषम चक्र में फंस जाएगी।

**कारण (R) :** प्रत्येक संसाधन के प्रयोग से अपशिष्ट करने में पैदा होता है और अपशिष्ट कम करने में हमारी अक्षमता उस सीमा का निर्धारण करती है जिस तक संधारणीय जीवन स्तर को प्राप्त किया जा सकता है।

उपरोक्त कथन के आलोक में, नीचे दिए गए विकल्पों में से **सही उत्तर** चयन कीजिए :

- (1) दोनों (A) और (R) सत्य हैं और (R), (A) की सही व्याख्या है
- (2) दोनों (A) और (R) सत्य हैं लेकिन (R), (A) की सही व्याख्या नहीं है
- (3) (A) सत्य है, लेकिन (R) असत्य है
- (4) (A) असत्य है, लेकिन (R) सत्य है

**Options :**

878270156393. 1

878270156394. 2

878270156395. 3

878270156396. 4

**Question Number : 140 Question Id : 87827039810 Question Type : MCQ Option Shuffling : No**

**Is Question Mandatory : No Calculator : None Response Time : N.A Think Time : N.A**

**Minimum Instruction Time : 0**

**Correct Marks : 2 Wrong Marks : 0**

Given below are two statements :

**Statement (I) :** The World Fertility Survey (WFS) were started in the year 1972 with the financial/ assistance from USAID

**Statement (II) :** India participated in the World Fertility Survey (WFS)

In the light of the above statements, choose the **most appropriate answer** from the options given below :

- (1) Both **Statement I** and **Statement II** are correct
- (2) Both **Statement I** and **Statement II** are incorrect
- (3) **Statement I** is correct but **Statement II** is incorrect
- (4) **Statement I** is incorrect but **Statement II** is correct

**Options :**

878270156397. 1

878270156398. 2

878270156399. 3

878270156400. 4

**Question Number : 140 Question Id : 87827039810 Question Type : MCQ Option Shuffling : No**

**Is Question Mandatory : No Calculator : None Response Time : N.A Think Time : N.A**

**Minimum Instruction Time : 0**

**Correct Marks : 2 Wrong Marks : 0**

नीचे दो कथन दिए गए हैं :

**कथन (I) :** यू एस ए आई डी से वित्तीय सहायता लेकर वर्ष 1972 में विश्व प्रजनन सर्वेक्षण (डब्ल्यू एफ एस) प्रारंभ किया गया था।

**कथन (II) :** भारत ने विश्व प्रजनन सर्वेक्षण (डब्ल्यू एफ एस) में भाग लिया।

उपरोक्त कथन के आलोक में, नीचे दिए गए विकल्पों में से सही उत्तर चयन कीजिए :

- (1) कथन I और कथन II दोनों सत्य हैं
- (2) कथन I और कथन II दोनों असत्य हैं
- (3) कथन I सत्य है, लेकिन कथन II असत्य है
- (4) कथन I असत्य है, लेकिन कथन II सत्य है

**Options :**

878270156397. 1

878270156398. 2

878270156399. 3

878270156400. 4

**Sub-Section Number :**

2

**Sub-Section Id :**

8782701669

**Question Shuffling Allowed :**

Yes

**Is Section Default? :**

null

**Question Id : 87827039811 Question Type : COMPREHENSION Sub Question Shuffling Allowed**

**: Yes Group Comprehension Questions : No Question Pattern Type : NonMatrix Calculator :**

**None Response Time : N.A Think Time : N.A Minimum Instruction Time : 0**

**Question Numbers : (141 to 145)**

Question Label : Comprehension

Read the table given below and answer the following questions.

Table : Trend in census population in India (1901 - 2011)

Sr. No	Year	Total (in lakh)	Sex Ratio	Population Density	Decadal Growth Rate	Annual Exponential Growth Rate	% Urban Population
1	1901	2384.0	972	77	NA	NA	10.85
2	1911	2520.9	964	82	5.75	0.56	10.29
3	1921	2513.2	955	81	-0.31	-0.03	11.18
4	1931	2789.8	950	90	11.00	1.04	11.99
5	1941	3186.6	945	103	14.22	1.33	13.86
6	1951	3610.9	946	117	13.31	1.25	17.29
7	1961	4392.3	941	142	21.64	1.96	17.97
8	1971	5481.6	930	177	24.80	2.20	19.91
9	1981	6833.3	934	216	24.66	2.22	23.33
10	1991	8464.2	926	267	23.87	2.14	25.70
11	2001	10287.4	933	325	21.54	1.97	27.81
12	2011	12108.5	943	382	17.70	1.64	31.14

Source : O/o Register General of India

**Sub questions**

**Question Number : 141 Question Id : 87827039812 Question Type : MCQ Option Shuffling : No**

**Is Question Mandatory : No Calculator : None Response Time : N.A Think Time : N.A**

**Minimum Instruction Time : 0**

**Correct Marks : 2 Wrong Marks : 0**

During which year, annual exponential growth rate was the highest ?

- (1) 1991
- (2) 1981
- (3) 1971
- (4) 1961

**Options :**

- 878270156401. 1
- 878270156402. 2
- 878270156403. 3
- 878270156404. 4

**Question Number : 142 Question Id : 87827039813 Question Type : MCQ Option Shuffling : No**

**Is Question Mandatory : No Calculator : None Response Time : N.A Think Time : N.A**

**Minimum Instruction Time : 0**

**Correct Marks : 2 Wrong Marks : 0**

From which of the following year, sex-ratio started increasing after declining trend since 1911 ?

- (1) 1901
- (2) 1931
- (3) 1971
- (4) 2001

**Options :**

- 878270156405. 1
- 878270156406. 2
- 878270156407. 3
- 878270156408. 4

**Question Number : 143 Question Id : 87827039814 Question Type : MCQ Option Shuffling : No**

**Is Question Mandatory : No Calculator : None Response Time : N.A Think Time : N.A**

**Minimum Instruction Time : 0**

**Correct Marks : 2 Wrong Marks : 0**

In which year population density declined ?

- (1) 1901
- (2) 1911
- (3) 1921
- (4) 1931

**Options :**

- 878270156409. 1

878270156410. 2

878270156411. 3

878270156412. 4

**Question Number : 144 Question Id : 87827039815 Question Type : MCQ Option Shuffling : No**

**Is Question Mandatory : No Calculator : None Response Time : N.A Think Time : N.A**

**Minimum Instruction Time : 0**

**Correct Marks : 2 Wrong Marks : 0**

From which year, decadal growth rate started declining consistently ?

- (1) 1921
- (2) 1941
- (3) 1971
- (4) 1981

**Options :**

878270156413. 1

878270156414. 2

878270156415. 3

878270156416. 4

**Question Number : 145 Question Id : 87827039816 Question Type : MCQ Option Shuffling : No**

**Is Question Mandatory : No Calculator : None Response Time : N.A Think Time : N.A**

**Minimum Instruction Time : 0**

**Correct Marks : 2 Wrong Marks : 0**

During which year, there was highest increase in percent of urban population over previous year ?

- (1) 2001
- (2) 1951
- (3) 1981
- (4) 2011

**Options :**

878270156417. 1

878270156418. 2

878270156419. 3

878270156420. 4

**Question Id : 87827039811 Question Type : COMPREHENSION Sub Question Shuffling Allowed : Yes Group Comprehension Questions : No Question Pattern Type : NonMatrix Calculator : None Response Time : N.A Think Time : N.A Minimum Instruction Time : 0**

**Question Numbers : (141 to 145)**

Question Label : Comprehension

नीचे दी गई तालिका को पढ़िए और निम्नलिखित प्रश्नों के उत्तर दीजिए।

तालिका : भारत में जनसंख्या जनगणना की प्रवृत्ति (1901 - 2011)

क्र.सं.	वर्ष	कुल जन संख्या (लाख)	लिंगअनुपात	जनसंख्या घनत्व	दशक वृद्धि दर	वार्षिक घातीय वृद्धिदर	शहरी जनसंख्या प्रतिशत
1	1901	2384.0	972	77	NA	NA	10.85
2	1911	2520.9	964	82	5.75	0.56	10.29
3	1921	2513.2	955	81	-0.31	-0.03	11.18
4	1931	2789.8	950	90	11.00	1.04	11.99
5	1941	3186.6	945	103	14.22	1.33	13.86
6	1951	3610.9	946	117	13.31	1.25	17.29
7	1961	4392.3	941	142	21.64	1.96	17.97
8	1971	5481.6	930	177	24.80	2.20	19.91
9	1981	6833.3	934	216	24.66	2.22	23.33
10	1991	8464.2	926	267	23.87	2.14	25.70
11	2001	10287.4	933	325	21.54	1.97	27.81
12	2011	12108.5	943	382	17.70	1.64	31.14

स्रोत : भारत का रजिस्ट्रार जनरल

**Sub questions**

**Question Number : 141 Question Id : 87827039812 Question Type : MCQ Option Shuffling : No Is Question Mandatory : No Calculator : None Response Time : N.A Think Time : N.A Minimum Instruction Time : 0**

**Correct Marks : 2 Wrong Marks : 0**

किस वर्ष के दौरान वार्षिक घातीय वृद्धि दर सबसे अधिक थी ?

- (1) 1991
- (2) 1981
- (3) 1971
- (4) 1961

**Options :**

878270156401. 1

878270156402. 2

878270156403. 3

878270156404. 4

**Question Number : 142 Question Id : 87827039813 Question Type : MCQ Option Shuffling : No**

**Is Question Mandatory : No Calculator : None Response Time : N.A Think Time : N.A**

**Minimum Instruction Time : 0**

**Correct Marks : 2 Wrong Marks : 0**

निम्नलिखित से किस वर्ष में, 1911 से अवनतिय प्रवृत्ति के बाद लिंग अनुपात बढ़ना शुरू हुआ ?

- (1) 1901
- (2) 1931
- (3) 1971
- (4) 2001

**Options :**

878270156405. 1

878270156406. 2

878270156407. 3

878270156408. 4

**Question Number : 143 Question Id : 87827039814 Question Type : MCQ Option Shuffling : No**

**Is Question Mandatory : No Calculator : None Response Time : N.A Think Time : N.A**

**Minimum Instruction Time : 0**

**Correct Marks : 2 Wrong Marks : 0**

किस वर्ष में जनसंख्या घनत्व कम हुआ ?

- (1) 1901
- (2) 1911
- (3) 1921
- (4) 1931

**Options :**

878270156409. 1

878270156410. 2

878270156411. 3

878270156412. 4

**Question Number : 144 Question Id : 87827039815 Question Type : MCQ Option Shuffling : No**

**Is Question Mandatory : No Calculator : None Response Time : N.A Think Time : N.A**

**Minimum Instruction Time : 0**

**Correct Marks : 2 Wrong Marks : 0**

किस वर्ष से दशक वृद्धि दर लगातार कम होना शुरू हुई ?

- (1) 1921
- (2) 1941
- (3) 1971
- (4) 1981

**Options :**

878270156413. 1

878270156414. 2

878270156415. 3

878270156416. 4

**Question Number : 145 Question Id : 87827039816 Question Type : MCQ Option Shuffling : No**

**Is Question Mandatory : No Calculator : None Response Time : N.A Think Time : N.A**

**Minimum Instruction Time : 0**

**Correct Marks : 2 Wrong Marks : 0**



किस वर्ष के दौरान पिछले वर्ष की तुलना में शहरीकरण प्रतिशत में अधिकतम वृद्धि हुई थी ?

- (1) 2001
- (2) 1951
- (3) 1981
- (4) 2011

**Options :**

878270156417. 1

878270156418. 2

878270156419. 3

878270156420. 4

**Sub-Section Number :**

3

**Sub-Section Id :**

8782701670

**Question Shuffling Allowed :**

Yes

**Is Section Default? :**

null

**Question Id : 87827039817 Question Type : COMPREHENSION Sub Question Shuffling Allowed**

**: Yes Group Comprehension Questions : No Question Pattern Type : NonMatrix Calculator :**

**None Response Time : N.A Think Time : N.A Minimum Instruction Time : 0**

**Question Numbers : (146 to 150)**

Question Label : Comprehension

Answer the question basis of the following paragraph.

Village Otharwane lies in Sawantwadi in Maharashtra. A total number of households in the village is 360. Nearly 90 percent households own less than 5 acres of land to form a large group of small and marginal farmers. Only 3 percent own 10 to 15 acres of land. There are 9 female headed households. Among the household 40 depends on craft production. Buying and selling are dominated by men and only 12 households reported participation of woman in marketing. Among the remaining households who are dependent on craft production women are confined mostly with craft production. Appropriation of marketing by men is done as it is carried out outside the village in the nearby towns. The traditional gender norm of mobility restricts women. Craft ensures survival but brings low return. Thus, women are always considered as helper whereas they are main contributors and they perform the role of the risk-bearer.

**Sub questions**

**Question Number : 146 Question Id : 87827039818 Question Type : MCQ Option Shuffling : No**

**Is Question Mandatory : No Calculator : None Response Time : N.A Think Time : N.A**

**Minimum Instruction Time : 0**

**Correct Marks : 2 Wrong Marks : 0**

What percent of the households in the village are female headed ?

- (1) 2.0
- (2) 2.5
- (3) 3.0
- (4) 3.5

**Options :**

878270156421. 1

878270156422. 2

878270156423. 3

878270156424. 4

**Question Number : 147 Question Id : 87827039819 Question Type : MCQ Option Shuffling : No**

**Is Question Mandatory : No Calculator : None Response Time : N.A Think Time : N.A**

**Minimum Instruction Time : 0**

**Correct Marks : 2 Wrong Marks : 0**

What is the ratio of craft dependent and non-craft dependent households in the village ?

- (1) 1 : 8
- (2) 2 : 8
- (3) 3 : 7
- (4) 4 : 8

**Options :**

878270156425. 1

878270156426. 2

878270156427. 3

878270156428. 4

**Question Number : 148 Question Id : 87827039820 Question Type : MCQ Option Shuffling : No**

**Is Question Mandatory : No Calculator : None Response Time : N.A Think Time : N.A**

**Minimum Instruction Time : 0**

**Correct Marks : 2 Wrong Marks : 0**

How many households in the village Otharwane are small and marginal farmers ?

- (1) 300
- (2) 324
- (3) 330
- (4) 350

**Options :**

878270156429. 1

878270156430. 2

878270156431. 3

878270156432. 4

**Question Number : 149 Question Id : 87827039821 Question Type : MCQ Option Shuffling : No**

**Is Question Mandatory : No Calculator : None Response Time : N.A Think Time : N.A**

**Minimum Instruction Time : 0**

**Correct Marks : 2 Wrong Marks : 0**

Given below are two statements : one is labelled as **Assertion (A)** and the other is labelled as **Reason (R)**.

**Assertion (A) :** Most of the women confined themselves with craft production whereas marketing is done by the men.

**Reason (R) :** Markets are outside the village and mobility restrictions on women keep them away from marketing activities.

In the light of the above statements, choose the **most appropriate answer** from the options given below :

- (1) Both **(A)** and **(R)** are correct and **(R)** is the correct explanation of **(A)**
- (2) Both **(A)** and **(R)** are correct but **(R)** is **not** the correct explanation of **(A)**
- (3) **(A)** is correct but **(R)** is not correct
- (4) **(A)** is not correct but **(R)** is correct

**Options :**

878270156433. 1

878270156434. 2

878270156435. 3

878270156436. 4

**Question Number : 150 Question Id : 87827039822 Question Type : MCQ Option Shuffling : No Is Question Mandatory : No Calculator : None Response Time : N.A Think Time : N.A Minimum Instruction Time : 0**

**Correct Marks : 2 Wrong Marks : 0**

In the light of the paragraph which among the following statements are correctly depicting women's work.

- (A) Women's work in craft ensures survival
- (B) Craft generates high income
- (C) Women are the main contributors in income
- (D) Women's work is considered as helper
- (E) Women's work contribute in risk aversion

Choose the **correct** answer from the options given below :

- (1) (B), (C), (D) only
- (2) (A), (C), (D), (E) only
- (3) (B), (C), (E) only
- (4) (A), (D), (E) only

**Options :**

878270156437. 1

878270156438. 2

878270156439. 3

878270156440. 4

**Question Id : 87827039817 Question Type : COMPREHENSION Sub Question Shuffling Allowed : Yes Group Comprehension Questions : No Question Pattern Type : NonMatrix Calculator : None Response Time : N.A Think Time : N.A Minimum Instruction Time : 0**

**Question Numbers : (146 to 150)**

Question Label : Comprehension

निम्नलिखित अनुच्छेद के आधार पर प्रश्न के उत्तर दीजिए।

महाराष्ट्र के सावंतवाड़ी में गाँव ओधावन स्थित है। गाँव में कुल घरों की 360 संख्या है। लगभग 90 प्रतिशत घरों के पास भूमि का 5 एकड़ से कम का स्वामित्व है जो कि छोटे और उपांत किसानों का एक बड़ा समूह बनाते हैं। केवल 3 प्रतिशत के पास भूमि के 10 से 15 एकड़ का स्वामित्व है। 9 महिला प्रधानता वाले घर हैं। घरों में से 40 शिल्प उत्पादन पर निर्भर करते हैं। क्रय और विक्रय पर पुरुषों की प्रधानता है और विपणन में महिलाओं की सहभागिता केवल 12 घरों में दर्ज की गयी है। बाकी बचे हुए घरों में से जोकि शिल्प उत्पादन पर निर्भर करते हैं, महिलाएँ अधिकतर शिल्प उत्पादन तक सीमित हैं। विपणन का विनियोजन पुरुषों द्वारा किया जाता है क्योंकि यह गाँव से बाहर पास के नगरों में होता है। परंपरागत गतिशीलता का लिंग मानदंड महिलाओं को प्रतिबंधित करता है। शिल्प उत्तरजीवन सुनिश्चित करता है लेकिन कम प्रतिवर्तन लाता है। इसलिए महिलाओं को हमेशा सहायक ही माना जाता है जबकि वो मुख्य अंशदाता होती है और वो जोखिम-वाहक की भूमिका निभाती है।

### Sub questions

**Question Number : 146 Question Id : 87827039818 Question Type : MCQ Option Shuffling : No**

**Is Question Mandatory : No Calculator : None Response Time : N.A Think Time : N.A**

**Minimum Instruction Time : 0**

**Correct Marks : 2 Wrong Marks : 0**

गाँव में कितने प्रतिशत घर महिला-प्रधानता वाले हैं ?

- (1) 2.0
- (2) 2.5
- (3) 3.0
- (4) 3.5

**Options :**

878270156421. 1

878270156422. 2

878270156423. 3

878270156424. 4

**Question Number : 147 Question Id : 87827039819 Question Type : MCQ Option Shuffling : No**

**Is Question Mandatory : No Calculator : None Response Time : N.A Think Time : N.A**

**Minimum Instruction Time : 0**

**Correct Marks : 2 Wrong Marks : 0**

गाँव में शिल्प आश्रित और गैर शिल्प आश्रित घरों का अनुपात क्या है ?

- (1) 1 : 9
- (2) 2 : 8
- (3) 3 : 7
- (4) 4 : 8

**Options :**

878270156425. 1

878270156426. 2

878270156427. 3

878270156428. 4

**Question Number : 148 Question Id : 87827039820 Question Type : MCQ Option Shuffling : No**

**Is Question Mandatory : No Calculator : None Response Time : N.A Think Time : N.A**

**Minimum Instruction Time : 0**

**Correct Marks : 2 Wrong Marks : 0**

ओधावन गाँव में छोटे और उपांत किसानों वाले कितने घर हैं ?

- (1) 300
- (2) 324
- (3) 330
- (4) 350

**Options :**

878270156429. 1

878270156430. 2

878270156431. 3

878270156432. 4

**Question Number : 149 Question Id : 87827039821 Question Type : MCQ Option Shuffling : No**

**Is Question Mandatory : No Calculator : None Response Time : N.A Think Time : N.A**

**Minimum Instruction Time : 0**

**Correct Marks : 2 Wrong Marks : 0**

नीचे दो कथन दिए गए हैं: एक अभिकथन (A) के रूप में लिखित है तो दूसरा उसके कारण (R) के रूप में है।

**अभिकथन (A) :** अधिकार महिलाएँ खुद को शिल्प उत्पादन तक सीमित रखा हुआ है जबकि विपणन पुरुषों द्वारा किया जाता है।

**कारण (R) :** बाजार गाँव से बाहर है और गतिशीलता महिलाओं को प्रतिबंधित करती है जिससे वो विपणन गतिधियों से दूर रहती है।

उपरोक्त कथन के आलोक में, नीचे दिए गए विकल्पों में से सही उत्तर चयन कीजिए :

- (1) दोनों (A) और (R) सत्य है और (R), (A) की सही व्याख्या है
- (2) दोनों (A) और (R) सत्य है लेकिन (R), (A) की सही व्याख्या नहीं है
- (3) (A) सत्य है, लेकिन (R) असत्य है
- (4) (A) असत्य है, लेकिन (R) सत्य है

**Options :**

878270156433. 1

878270156434. 2

878270156435. 3

878270156436. 4

**Question Number : 150 Question Id : 87827039822 Question Type : MCQ Option Shuffling : No**

**Is Question Mandatory : No Calculator : None Response Time : N.A Think Time : N.A**

**Minimum Instruction Time : 0**

**Correct Marks : 2 Wrong Marks : 0**

अनुच्छेद के प्रकाश में निम्नलिखित में से कौन-से कथन महिलाओं के काम का चित्रण करते हैं?

- (A) शिल्प में महिलाओं का का उत्तरजीवित सुनिश्चित करता है।
- (B) शिल्प अधिक आय उत्पन्न करता है।
- (C) महिलाएँ मुख्य अंशदाता हैं।
- (D) महिलाओं के काम को सहायक माना जाता है।
- (E) महिलाओं का काम जोखिम निवारण में सहायक है।

Choose the **correct** answer from the options given below :

- (1) केवल (B), (C), (D)
- (2) केवल (A), (C), (D), (E)
- (3) केवल (B), (C), (E)
- (4) केवल (A), (D), (E)

**Options :**

878270156437. 1

878270156438. 2

878270156439. 3

878270156440. 4